

Nom: _____

Data: _____

Nombres de cinc xifres. Valor de les xifres. Comparació de nombres. Aproximacions. Nombres ordinals

Recorda-te'n:

La primera xifra d'un nombre de cinc xifres indica la desena de miler. Una desena de miler equival a 10.000 unitats.

1. L'amo d'un magatzem ha comprat fruita de l'última collita.



Escriu, per a cada nombre, les unitats que corresponen a les desenes de miler.

24.218 → 2 DM = 20.000 unitats

36.248 → ___ DM = _____ unitats

62.636 → ___ DM = _____ unitats

Compara els tres nombres i omple els buits.

_____ < _____ < _____

Recorda que per comparar diversos nombres, has de comparar primer les desenes de miler; si són iguals, compara les unitats de miler; si aquestes són iguals, les centenes... fins a arribar a les unitats.

2. Fent servir només les cinc xifres escrites als sobres i sense repetir-les, escriu:



El nombre de 3 xifres més gran possible: _____

El nombre més gran possible de 4 xifres, amb un 8 a la xifra de les desenes:

El nombre més gran possible de 5 xifres, amb un 3 a la xifra de les unitats de miler: _____

El nombre més petit possible de 5 xifres, amb un 2 a la xifra de les unitats:


Un nombre de 5 xifres amb un 7 a les centenes i un 6 a les desenes:

Nom: _____


Data: _____

Nombres de cinc xifres. Valor de les xifres. Comparació de nombres. Aproximacions. Nombres ordinals

3. En Pere està mirant per Internet el preu d'uns cotxes. Aproxima el preu de cada cotxe a les unitats de miler.



Per aproximar a les unitats de miler compararem la xifra de les centenes amb el 5.



El preu està comprès entre 8.000 i 9.000.

$2 < 5 \rightarrow$ El miler més pròxim és el 8.000.

El preu està comprès entre _____ i _____

_____ 5 \rightarrow El miler més pròxim és el _____


El preu està comprès entre _____ i _____

_____ 5 \rightarrow El miler més pròxim és el _____

El preu està comprès entre _____ i _____

_____ 5 \rightarrow El miler més pròxim és el _____


4. Un cartell d'un parc ha d'indicar el nombre aproximat d'arbres de cada tipus que hi ha. Fixa't en els arbres de cada espècie que hi ha i indica els nombres que han d'aparèixer al cartell, si s'ha d'aproximar a les centenes



323 pins

890 avets

124 cedres



◀ _____ 5 \rightarrow La centena més pròxima és _____

◀ _____ 5 \rightarrow La centena més pròxima és _____

◀ _____ 5 \rightarrow La centena més pròxima és _____

Nom: _____

Data: _____

Nombres de cinc xifres. Valor de les xifres. Comparació de nombres. Aproximacions. Nombres ordinals

5. Omple la taula indicant l'ordinal corresponent a l'ordre en què arriba cada atleta a la meta.



Els ordinals del 5 en endavant acaben en -è/-ena.

Atleta	Ordinal	Es llegeix
Jaume	1r	Primer
	11è	
		Tretzè

--	--	--