

INTRODUCCIÓ A LA HISTÒRIA




La història

La història és l'estudi d'alguns fets del passat des dels primers éssers humans fins a l'actualitat. Els historiadors han dividit la història en cinc grans períodes o edats:

- la **Prehistòria** (des de l'inici fins al 3000 aC);
- l'**Edat Antiga** (del 3000 aC al 476 dC);
- l'**Edat Mitjana** (del 476 al 1492 dC);
- l'**Edat Moderna** (del 1492 al 1789);
- l'**Edat Contemporània** (des del 1789 fins avui).

Per representar el pas del temps se sol utilitzar l'**eix cronològic** o **línia del temps**. Consisteix a fer una línia separada per segments. Segments iguals corresponen a períodes de temps iguals.



Els anys de la història es compten des del naixement de Jesucrist. És l'any 1. Els anys anteriors es compten com si fossin negatius, a l'inrevés. Si un fet ha passat abans del naixement de Jesucrist posem l'abreviació **aC**, que vol dir "abans de Crist". Si el fet ha passat després de Crist, posem l'abreviació **dC** (després de Crist).

Les unitats de mesura més habituals per comptar els anys de la història són el **segle** (100 anys) i el **mil·lenni** (1.000 anys). Per numerar els segles s'utilitzen els nombres romans.

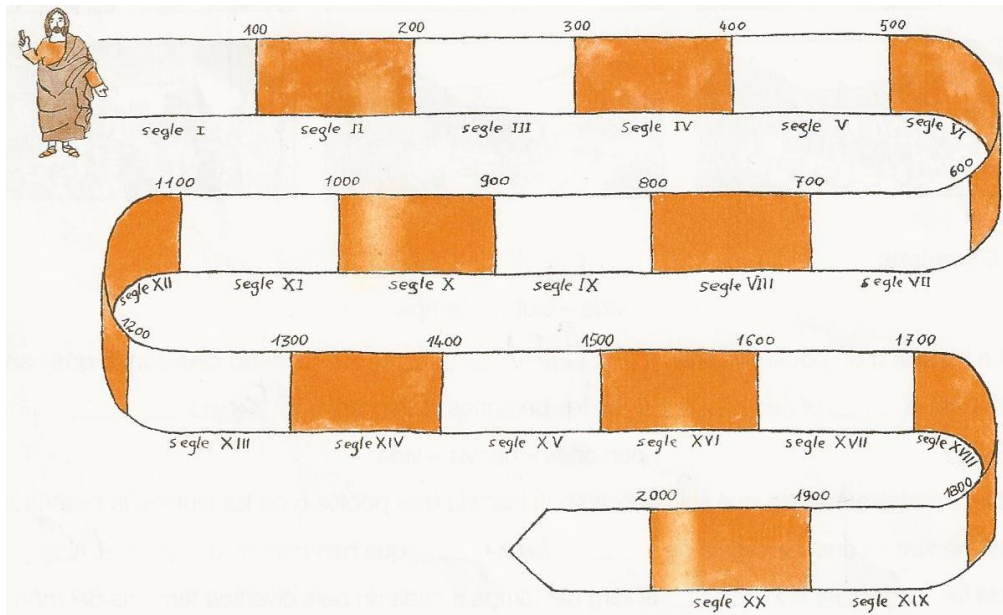
PREHISTÒRIA
SEGLE II aC
SEGLE I aC
SEGLE I
SEGLE II
SEGLE III
SEGLE IV
SEGLE V
EDAT ANTIGA
SEGLE VI
SEGLE VII
SEGLE VIII
SEGLE IX
SEGLE X
SEGLE XI
SEGLE XII
SEGLE XIII
SEGLE XIV
SEGLE XV
EDAT MITJANA
SEGLE XVI
SEGLE XVII
SEGLE XVIII
EDAT MODERNA
SEGLE XIX
SEGLE XX
EDAT CONTEMPORÀNIA

▪ **Llegeix:**

En història, el recompte d'anys es fa a partir del naixement d'un personatge històric: Jesucrist. El recompte del temps també es pot fer en segles. Cada segle són 100 anys. Normalment, els segles es numeren amb xifres romanes.

▪ **Col·loca sobre la línia del temps cada un dels anys de naixement que hi ha en el quadre següent. Marca cada any amb una fletxa:**

1850 – 1600 – 50 – 125 – 570 – 780 – 1450 – 1230 – 1110 – 2012

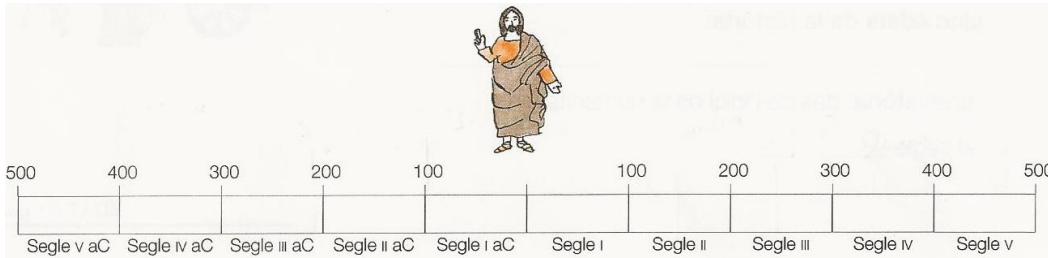


- PREHISTÒRIA
- SEGLE II aC
- SEGLE I aC
- SEGLE I
- SEGLE II
- SEGLE III
- SEGLE IV
- SEGLE V
- EDAT ANTIGA
- SEGLE VI
- SEGLE VII
- SEGLE VIII
- SEGLE IX
- SEGLE X
- SEGLE XI
- SEGLE XII
- SEGLE XIII
- SEGLE XIV
- SEGLE XV
- EDAT MITJANA
- SEGLE XVI
- SEGLE XVII
- SEGLE XVIII
- EDAT MODERNA
- SEGLE XIX
- SEGLE XX
- EDAT CONTEMPORÀNIA

▪ **Llegeix:**

Quan parlem del temps d'abans del naixement de Jesucrist diem, per exemple, que tal fet va succeir l'any 50 abans de Jesucrist. És a dir, fem un compte enrere. Normalment, els anys o els segles d'abans de Jesucrist s'indiquen escrivint-los d'aquesta manera: l'any 50 aC, l'any 830 aC, el segle II aC, el segle VI aC, etc.

▪ **Pinta de color vermell el tram de la línia del temps d'abans de Jesucrist i de color blau el tram de la línia del temps de després del naixement de Jesucrist:**



▪ **Assenyala sobre la línia del temps els anys de naixement d'aquests personatges:**


- | | | |
|--------------------|------------------|---------------------|
| August: any 205 aC | Clàudia: any 150 | Elena: any 340 |
| Paris: any 100 aC | Eugeni: any 240 | Eulàlia: any 390 aC |

- Observa la línia del temps i pinta cada un dels trams del color indicat:

rosa prehistòria blau edat antiga

verd clar edat mitjana vermell edat moderna

verd fosc edat contemporània



- Escriu, en cada cas, els segles que comprèn cada una de les cinc edats de la història:

prehistòria: des de l'inici de la humanitat fins al segle _____

edat antiga: des del segle _____ fins _____

edat mitjana: des del segle _____ fins al segle _____

edat moderna: des del segle _____ fins al segle _____

edat contemporània: des del segle _____ fins a l'actualitat.

La Prehistòria

La Prehistòria és l'etapa que va des de l'aparició dels primers humans fins a la invenció de l'escriptura l'any 3000 aC, a l'Antic Egipte.

A la península Ibèrica, la Prehistòria arriba fins a l'any 700 aC. A partir d'aquest any, ja tenim notícies escrites sobre els habitants del nostre territori.

La Prehistòria es divideix en dos gran períodes: l'**Edat de la Pedra** i l'**Edat dels Metalls**. L'Edat de la Pedra, que és la més llarga, es divideix en **Paleolític** i **Neolític**.

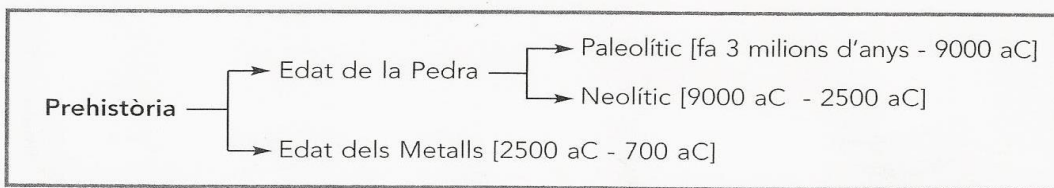


Paleolític vol dir "pedra antiga". Se li va posar aquest nom perquè les eines de pedra dels primers humans eren tallades.



Neolític vol dir "pedra nova". Alguns estris de pedra a partir de l'any 9000 aC eren polits.

▪ QUINA ÉS LA DIFERÈNCIA MÉS IMPORTANT ENTRE LES DUES EINES DE PEDRA?



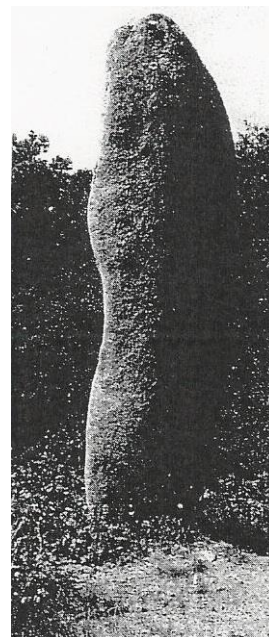
L'Edat dels Metalls

L'últim període de la Prehistòria és conegut com l'**Edat dels Metalls**.

Apareixen les primeres destrals i punyals de **coure**. Ben aviat els homes van aprendre a elaborar estris de **bronze**. El bronze és la fosa dels minerals de coure i d'estany.

Després es van començar a utilitzar els primers estris de **ferro**.

Durant l'Edat dels Metalls es van fer les primeres grans construccions que s'han conservat fins avui. S'anomenen **megàlits**, que vol dir "grans pedres". Els principals megàlits són el **menhirs** i els **dòlmens**.





Menhir de Palaus (Alt Empordà)

PREHISTÒRIA
SEGLE II aC
SEGLE I aC
SEGLE I
SEGLE II
SEGLE III
SEGLE IV
SEGLE V
EDAT ANTIGA
SEGLE VI
SEGLE VII
SEGLE VIII
SEGLE IX
SEGLE X
SEGLE XI
SEGLE XII
SEGLE XIII
SEGLE XIV
SEGLE XV
EDAT MITJANA
SEGLE XVI
SEGLE XVII
SEGLE XVIII
EDAT MODERNA
SEGLE XIX
SEGLE XX
EDAT CONTEMPORÀNIA

▪ **Observa les vinyetes:**

FA MÉS D'UN MILIÓ D'ANYS





▪ **Llegeix els textos i escriu cada text sota la vinyeta corresponent:**

- Mataven els animals amb llances de fusta que duïen una punta de pedra tallada a l'extrem.
- Aquests primers caçadors eren nòmades, es a dir, es desplaçaven d'un lloc a un altre seguint les grans bandades d'animals.
- Els primers grups humans es dedicaven a la caça.
- La caça era feina dels homes. Les dones i els nens collien fruits silvestres, ous d'ocells i arrels.
- Més endavant, la invenció de l'arc va facilitar la caça dels animals.
- Capturaven, principalment, grans mamífers, com mamuts, bous salvatges i cérvols.

PREHISTÒRIA

SEGLE II aC

SEGLE I aC

SEGLE I

SEGLE II

SEGLE III

SEGLE IV

SEGLE V

EDAT ANTIGA

SEGLE VI

SEGLE VII

SEGLE VIII

SEGLE IX

SEGLE X

SEGLE XI

SEGLE XII

SEGLE XIII

SEGLE XIV

SEGLE XV

EDAT MITJANA

SEGLE XVI

SEGLE XVII

SEGLE XVIII

EDAT MODERNA



SEGLE XIX



SEGLE XX

EDAT CONTEMPORÀNIA

▪ **Observa les vinyetes:**

FA UNS DEU MIL ANYS





▪ **Llegeix els textos i escriu cada text sota la vinyeta corresponent:**

- Els primers cultius van ser de cereals, com el blat, l'ordi, la civada i el sègol, i també de llegums.
- Així i tot, els primers agricultors i ramaders van continuar practicant la caça i la recol·lecció per assegurar-se l'alimentació.
- La pràctica de l'agricultura i de la ramaderia va fer que alguns grups deixessin de ser nòmades. Van néixer els primers poblats.
- Alguns grups humans van començar a criar animals.
- Els primers ramats de cria van ser d'ovelles i de cabres.
- Alhora es van començar a conrear algunes plantes.

PREHISTÒRIA

SEGLE II aC

SEGLE I aC

SEGLE I

SEGLE II

SEGLE III

SEGLE IV

SEGLE V

EDAT ANTIGA

SEGLE VI

SEGLE VII

SEGLE VIII

SEGLE IX

SEGLE X

SEGLE XI

SEGLE XII

SEGLE XIII

SEGLE XIV

SEGLE XV

EDAT MITJANA

SEGLE XVI

SEGLE XVII

SEGLE XVIII

EDAT MODERNA

SEGLE XIX


SEGLE XX

EDAT CONTEMPORÀNIA

Al llarg de la Prehistòria, el ser humà va experimentar una important evolució, tant en els sistemes d'obtenció dels aliments, com en l'elaboració d'estrils i objectes, en les formes d'organitzar-se i en els tipus d'habitatges.

- Indica a quina etapa corresponen aquests estrils:

Edat dels Metalls – Edat de la Pedra



- Completa correctament:

pedres tallades – coure – ossos – bronze
banyes d'animals – ferro

- A l'Edat de Pedra el ser humà feia objectes amb i
- A l'Edat dels Metalls es van descobrir materials més fàcils de treballar: el, el i el

PREHISTÒRIA
SEGLE II aC
SEGLE I aC
SEGLE I
SEGLE II
SEGLE III
SEGLE IV
SEGLE V
EDAT ANTIGA
SEGLE VI
SEGLE VII
SEGLE VIII
SEGLE IX
SEGLE X
SEGLE XI
SEGLE XII
SEGLE XIII
SEGLE XIV
SEGLE XV
EDAT MITJANA
SEGLE XVI
SEGLE XVII
SEGLE XVIII
EDAT MODERNA
SEGLE XIX
SEGLE XX
EDAT CONTEMPORÀNIA

