

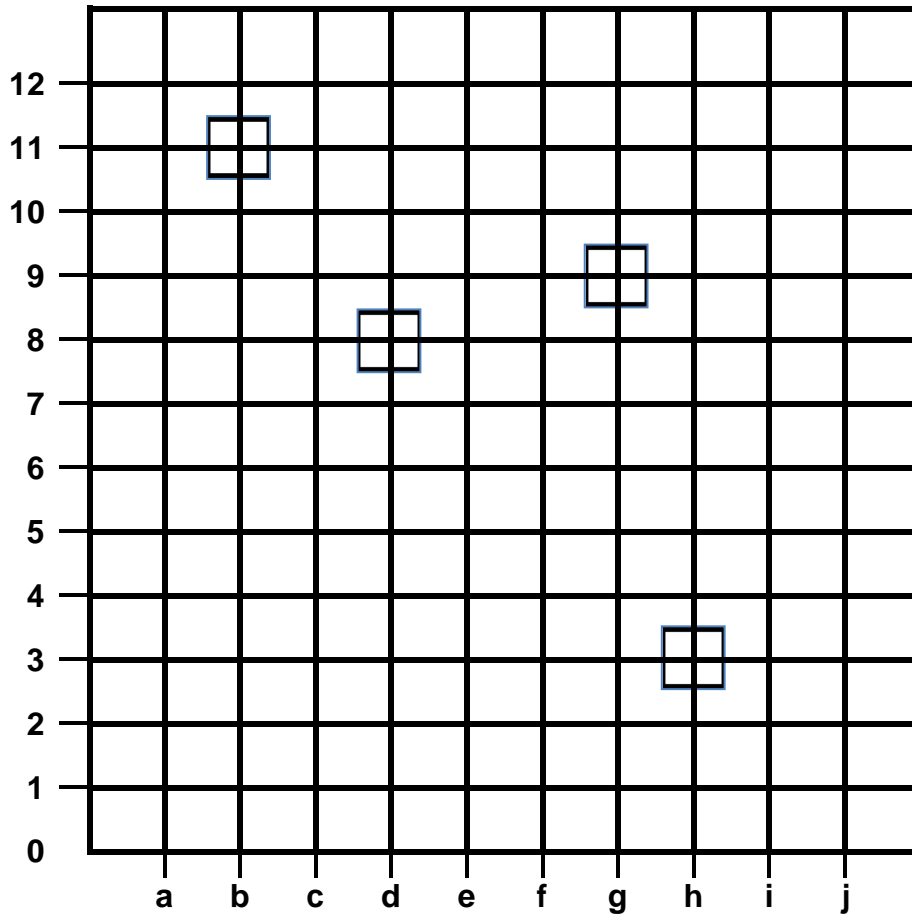
Nom: \_\_\_\_\_

Data: \_\_\_\_\_

## ELS GRÀFICS I L'ESTADÍSTICA

### SISTEMA DE COORDENADES

1. Fixa't bé en aquest sistema de coordenades i contesta:



a) Què hi ha a les coordenades (g,9)?

---

b) I a les coordenades (d,8)


---

2. Ara dibuixa aquests elements a les coordenades corresponents:

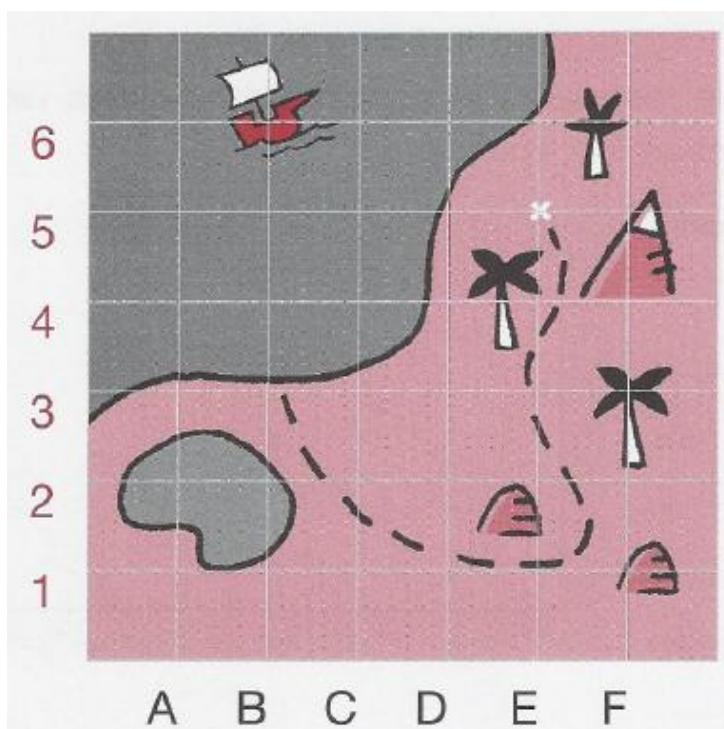
a)  (a,2)

b)  (i,10)

c)  (b,4)

d)  (e,5)

3. Observa el plànol i digues en quines coordenades es troben el vaixell i el tresor. Digues, també, que hi ha a les coordenades F3 i A5.



4. Escolta bé i marca amb una creu les coordenades:

