

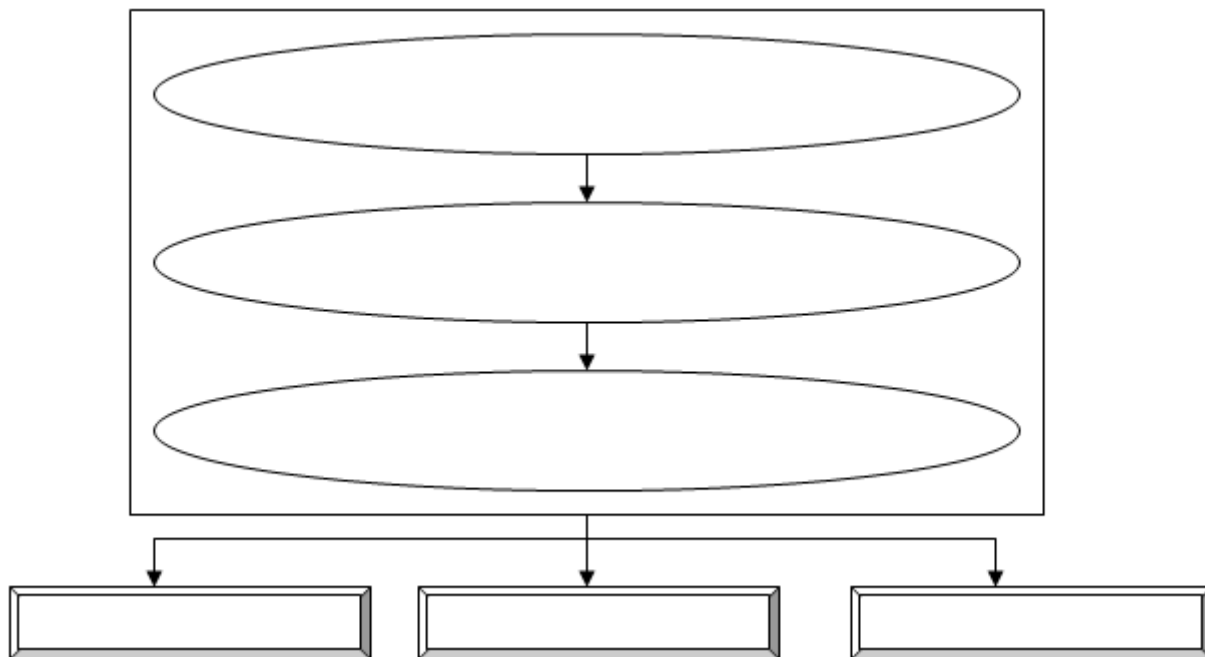
LES COMARQUES DE CATALUNYA



DESCOBRIM CATALUNYA



1. Com s'organitza Catalunya?



2. Contesteu les següents preguntes:

- Què és una comarca?

- Quantes n'hi ha a Catalunya?

- Quins tres grans grups de comarques hi ha segons la seva situació?

3. Dibuixa el perfil de la teva comarca, situa la seva capital i digues algunes poblacions importants.

4. Escriu el nom que correspongui a cada definició.

- Territori constituït per una o diverses poblacions governades per un ajuntament.

- Municipi on es concentren els serveis comarcals.

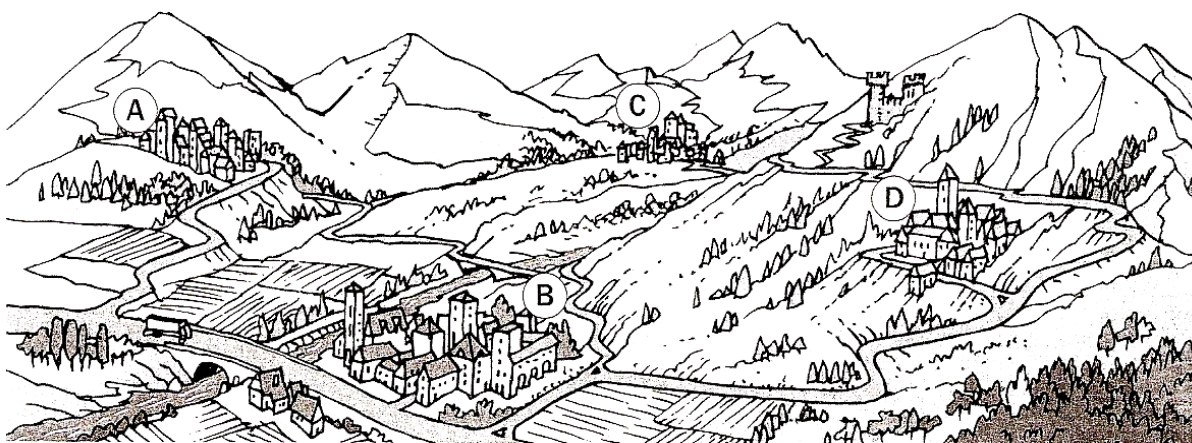
- Conjunt de municipis pròxims amb característiques semblants.

5. Observa el dibuix. Després, respon les preguntes.

- Quin tipus de comarca és: de muntanya, de plana o litoral? Per què?

- Quina lletra representa la capital de comarca? Per què?

- Quants municipis formen aquesta comarca?



LES COMARQUES DE CATALUNYA



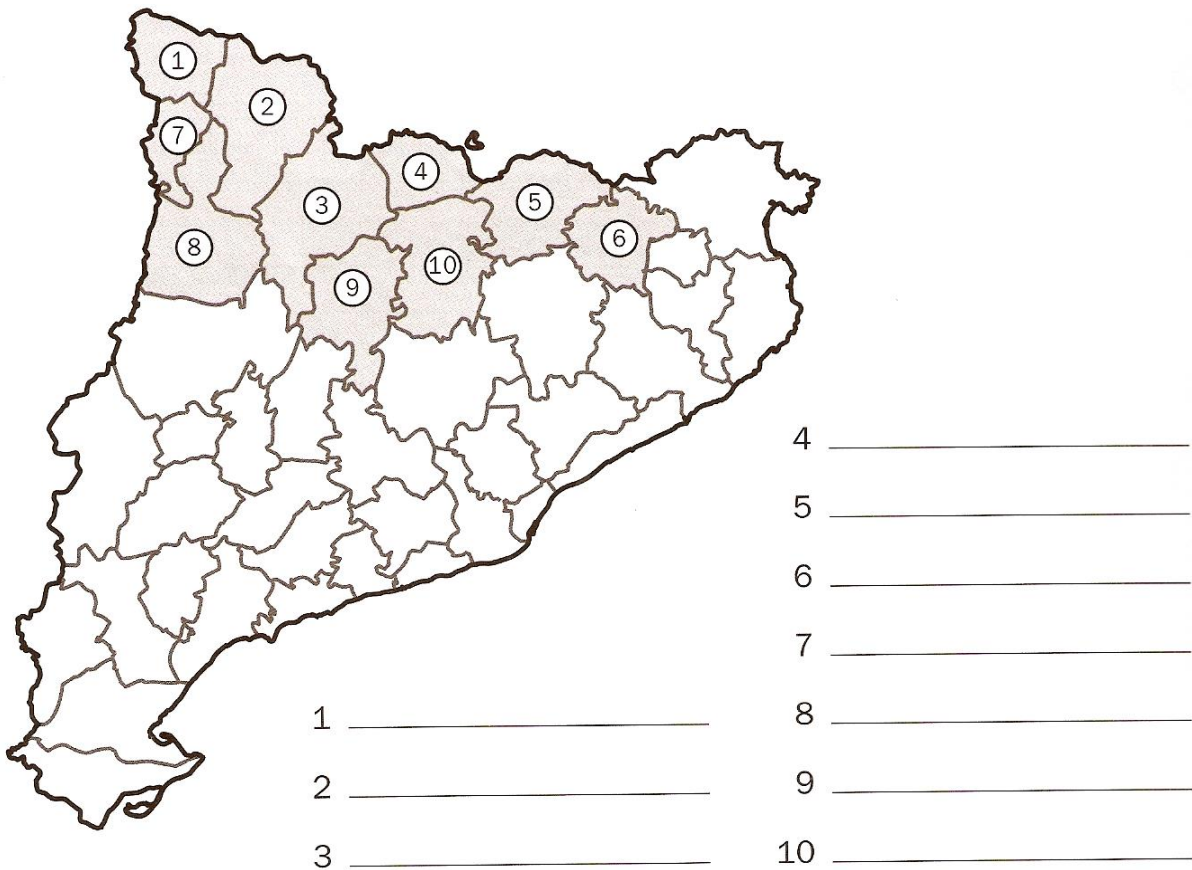
LES COMARQUES DE CATALUNYA

LES COMARQUES DE MUNTANYA

1. Localitza en el mapa les comarques de muntanya del requadre i escriu el nom en la llista, al costat del nombre que li correspon.

Cerdanya – Vall d’Aran – Pallars Sobirà – Ripollès – Pallars Jussà

Alt Urgell – Solsonès – Alta Ribagorça – Berguedà – Garrotxa

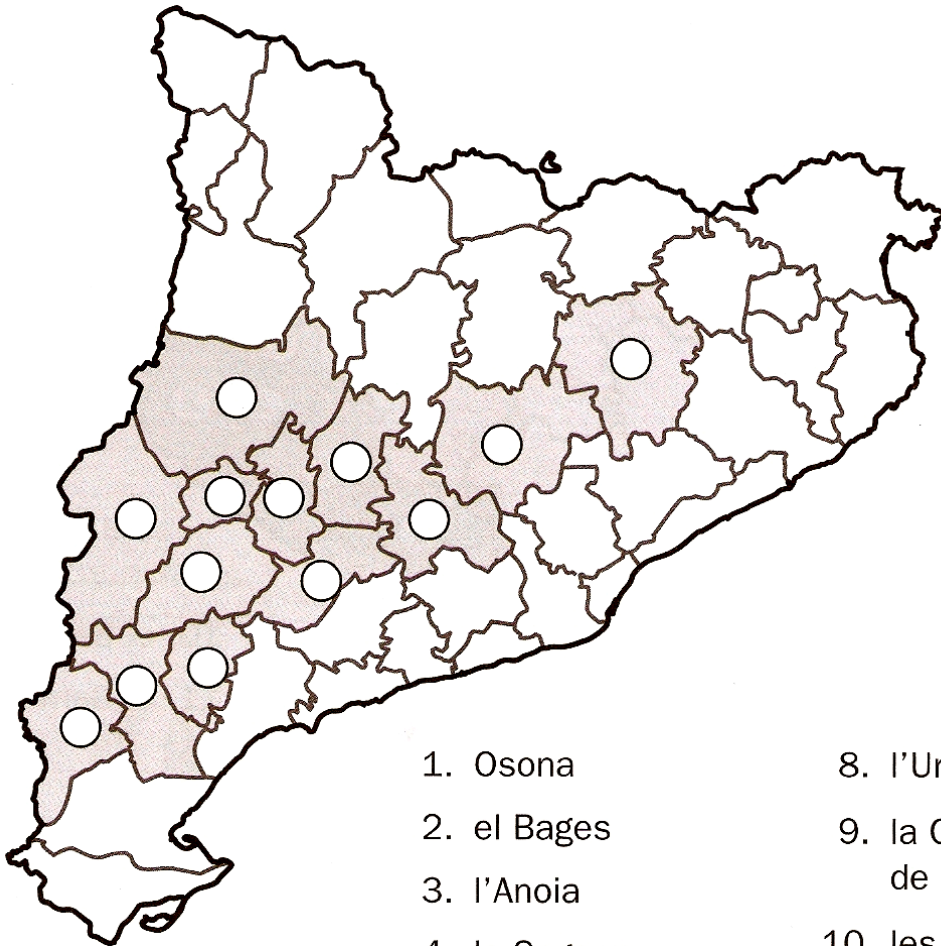


► Ara, pinta aquestes mateixes comarques de color lila al teu mapa gran de les comarques (VÉS ESTUDIANT-LES!).

LES COMARQUES DE CATALUNYA

LES COMARQUES D'INTERIOR

1. Llegeix la llista de les comarques de plana, localitza-les en el mapa i escriu el nombre corresponent.



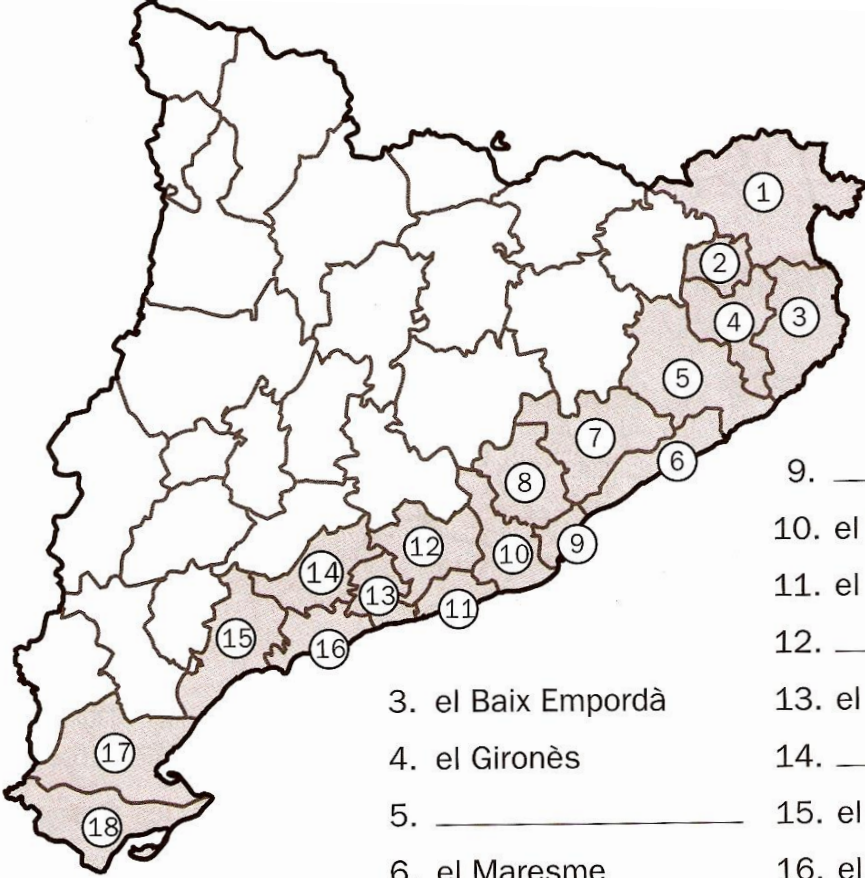
- | | |
|--------------------|------------------------|
| 1. Osona | 8. l'Urgell |
| 2. el Bages | 9. la Conca de Barberà |
| 3. l'Anoia | 10. les Garrigues |
| 4. la Segarra | 11. el Priorat |
| 5. la Noguera | 12. la Ribera d'Ebre |
| 6. el Segrià | 13. la Terra Alta |
| 7. el Pla d'Urgell | |

► Ara, pinta aquestes mateixes comarques de color groc al teu mapa gran de les comarques (VÉS ESTUDIANT-LES!).

LES COMARQUES DE CATALUNYA

LES COMARQUES LITORALS

2. Observa el mapa i escriu el nom de les comarques litorals que falten per completar la llista.



The map shows the outline of Catalonia with 18 numbered regions along the coast. The numbers are: 1 (north coast), 2 (north coast), 3 (north coast), 4 (north coast), 5 (north coast), 6 (north coast), 7 (north coast), 8 (north coast), 9 (north coast), 10 (north coast), 11 (north coast), 12 (north coast), 13 (north coast), 14 (north coast), 15 (north coast), 16 (north coast), 17 (south coast), and 18 (south coast).

1. _____	3. el Baix Empordà	9. _____
2. el Pla de l'Estany	4. el Gironès	10. el Baix Llobregat
	5. _____	11. el Garraf
	6. el Maresme	12. _____
	7. el Vallès Oriental	13. el Baix Penedès
	8. el Vallès Occidental	14. _____
		15. el Baix Camp
		16. el Tarragonès
		17. _____
		18. el Montsià

► Ara, pinta aquestes mateixes comarques de color verd al teu mapa gran de les comarques (VÉS ESTUDIANT-LES!).