

LA POBLACIÓ  
I  
LES ACTIVITATS  
ECONÒMIQUES  
A  
CATALUNYA



# LA POBLACIÓ DE CATALUNYA

**1. Què és la població d'un territori?**

---

---

---

**2. Què és el creixement natural?**

---

---

---

**3. Què és el creixement migratori?**

---

---

---

**4. Què són les migracions?**

---

---

---

**5. Com poden ser les migracions?**

---

---

---

**6. Quina diferència hi ha entre immigració i emigració?**

---

---

---

**7. Quines són les característiques de la població de Catalunya?**

---

---

---

---

---

---

---

---

---

---

---

---

---

---

---

---

**8. Què és la esperança de vida?**

---

---

---

## 9. Què és la densitat de població?

---

---

10. Calcula les densitats de població que falten de les comarques de la taula.

COMARCA	Habitants	Superfície (km <sup>2</sup> )	Densitat de població (hab./km <sup>2</sup> )
Alt Camp	40.017	545	73
Alt Empordà	118.950	1.342	89
Alt Urgell	20.936	1.447	14
Alta Ribagorça	4.004	427	
Baix Camp	167.889	695	241
Baix Ebre	74.962	988	
Baix Empordà	120.302	700	172
Baix Llobregat	757.814	486	
Barcelonès	2.215.581	143	15.493
Berguedà	39.746	1.183	33
Cerdanya	16.862	546	31
Gironès	160.838	575	280
Pallars Sobirà	6.883	1.355	5
Pla d'Urgell	33.105	304	109
Priorat	9.665	496	19
Segarra	20.996	721	29
Segrià	183.954	1.394	
Selva	144.420	995	
Tarragonès	212.520	317	670
Urgell	34.117	586	58

11. Consulta la taula anterior i completa la taula següent. Després, subratlla amb color vermell les comarques de costa i amb color blau, les d'interior.

Comarques amb densitat més alta	Comarques amb densitat més baixa

- Quantes n'hi de cada cas? Quina conclusió en treus?
- 
-

**12. Pinta el mapa de la densitat de Catalunya per comarques.**



- **Tria sis comarques i escriu-ne el nom, de la més poblada a la menys.**

---



---



---



---



---

**13. Completa la fitxa:**

**POBLACIÓ DE CATALUNYA**

- Nombre d'habitants: \_\_\_\_\_
- Creixement natural:       positiu       negatiu

**Raons:**

---

---

---

- Creixement migratori:       positiu       negatiu

**Raons:**

---

---

---

- Densitat de població: \_\_\_\_\_ hab./km<sup>2</sup>

- Distribució:

**Àrees més poblades:**

---

---

---

**Àrees menys poblades:**

---

---

---

**14. Com ja saps, bona part de la població a Catalunya es concentra a les zones litorals. Per què creus que és així?**

---

---

---

---

---

**15. Amb les dades següents, calcula el creixement natural de la comarca del Bages l'any 2006.**

**Naixements: 2.005**

**Defuncions: 1559**

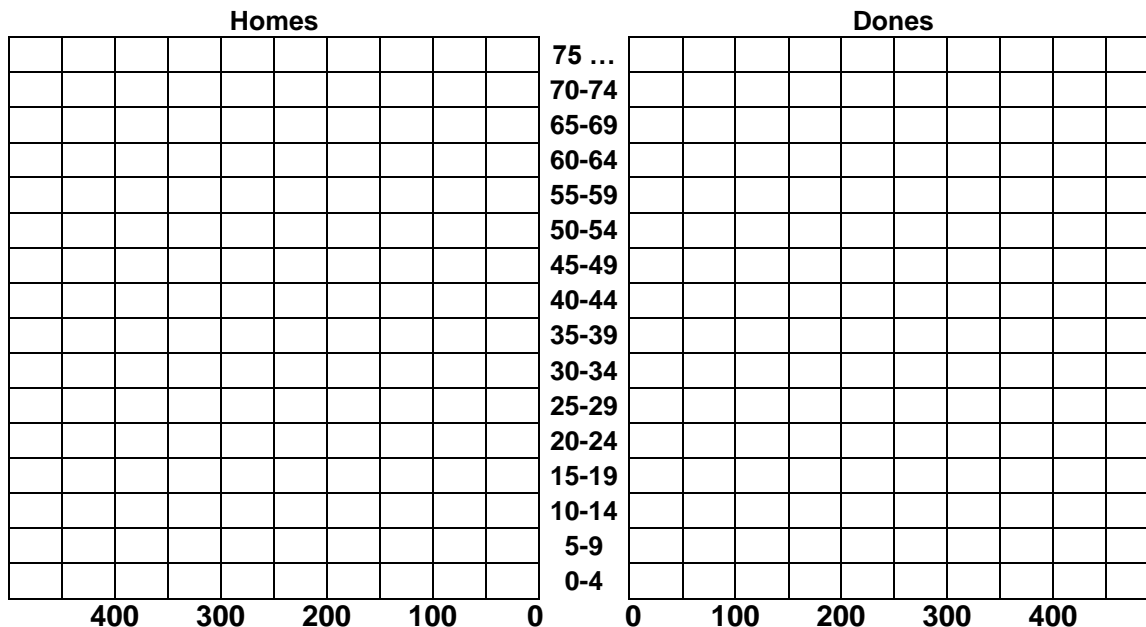
- **El creixement natural d'aquesta comarca és positiu o negatiu?**

---

---

16.Fes la piràmide de població a partir de les dades següents:

		EDATS															
		0	5	10	15	20	25	30	35	40	45	50	55	60	65	70	75
		4	9	14	19	24	29	34	39	44	49	54	59	64	69	74	...
Homes	450	400	400	350	300	300	250	200	150	150	150	100	100	100	50	50	
Dones	500	450	400	350	350	300	250	250	200	200	200	150	100	100	100	100	



• Quin tipus de població hi predomina? Explica-ho.

---



---

• De 75 anys o més, hi més homes o més dones?

---



---

• Hi ha alguna franja en què hi ha la mateixa quantitat d'homes que de dones? Quines?

---



---

• La natalitat ha augmentat o ha disminuït? Explica-ho

---



---

• Qui té major esperança de vida, el homes o les dones? Explica-ho.

---



---

# LA POBLACIÓ I EL SECTOR PRIMARI A CATALUNYA

1. Què és la població activa?

---

---

---

2. Què és la població ocupada?

---

---

---

3. Què és la població aturada?

---

---

---

4. Què és la població inactiva?

---

---

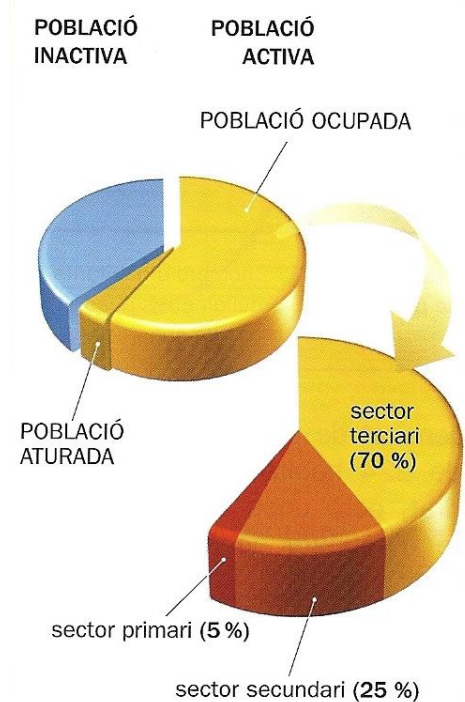
---

5. Observa el gràfic de població activa i inactiva de Catalunya. A quin sector hi treballen més persones?

---

---

---



6. Què agrupa el sector primari?

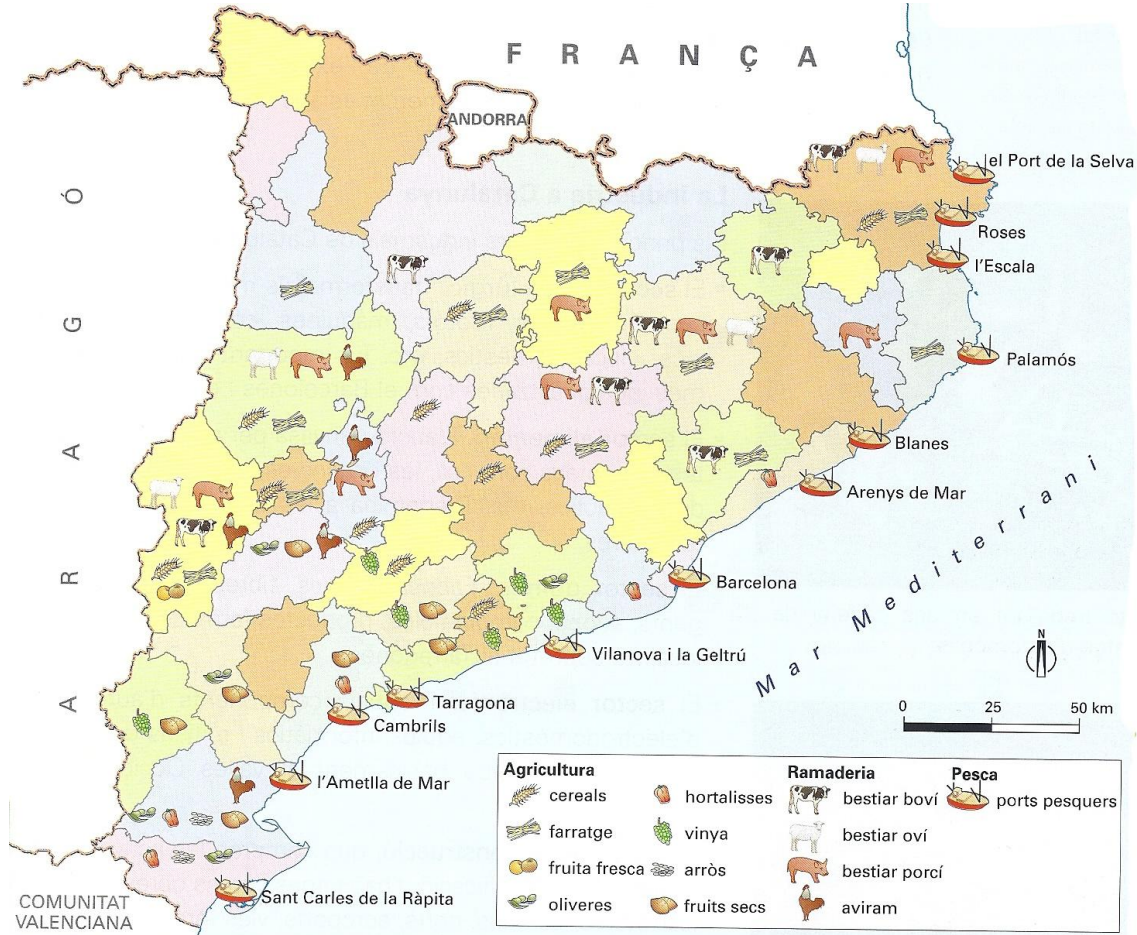
---

---

---

7. Observa el mapa de les activitats principals del sector primari a Catalunya i escriu:

- El nom de dos productes agrícoles de secà, dos de regadiu i on es localitzen.
- El nom de les comarques on es cria bestiar porcí i on es cria bestiar boví



**Productes agrícoles de secà:**

---



---

**Productes agrícoles de regadiu:**

---



---

**Zones de bestiar porcí:**

---



---

**Zones de bestiar boví**

---



---



8. Completa la taula:

EL SECTOR PRIMARI A CATALUNYA		
Activitat econòmica	Característiques	Comarques on predomina

9. Interpreta la taula i marca una creu en el sector de la població a què pertany cada persona.

	Població activa		Població inactiva
	ocupada	aturada	
Una persona jubilada			
Un nen de dotze anys			
Una persona que treballa en una mina			
Una mestressa de casa			
Una persona que busca feina			

# EL SECTOR SECUNDARI A CATALUNYA

1. Què comprèn el sector secundari?

---

---

---

2. Quina proporció de població activa es dedica a la indústria?

---

---

---

3. Quines són les comarques catalanes més industrialitzades?

---

---

---

4. Indica en quina classe d'indústria s'obté el plàstic, una moto, el cotó i un ordinador.

---

---

---

5. Digues cinc consells per millorar el consum energètic de casa teva.

---

---

---

6. Completa la taula.

Classes d'indústries	Elaboren / Fabriquen

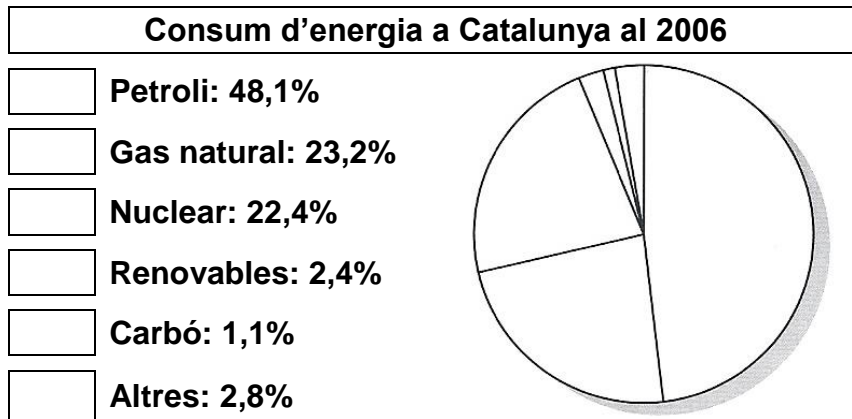
**7. Completa la taula.**

<b>Principals sectors industrials</b>	<b>Elaboren / Fabriquen</b>

**8. Completa la taula.**

<b>Fonts energètiques</b>	<b>Característiques</b>	<b>Recursos energètics</b>

9. Pinta el gràfic segons les dades següents:



10. Observa el mapa del sector secundari a Catalunya i contesta les preguntes:

• Quines són les comarques menys industrialitzades?

---



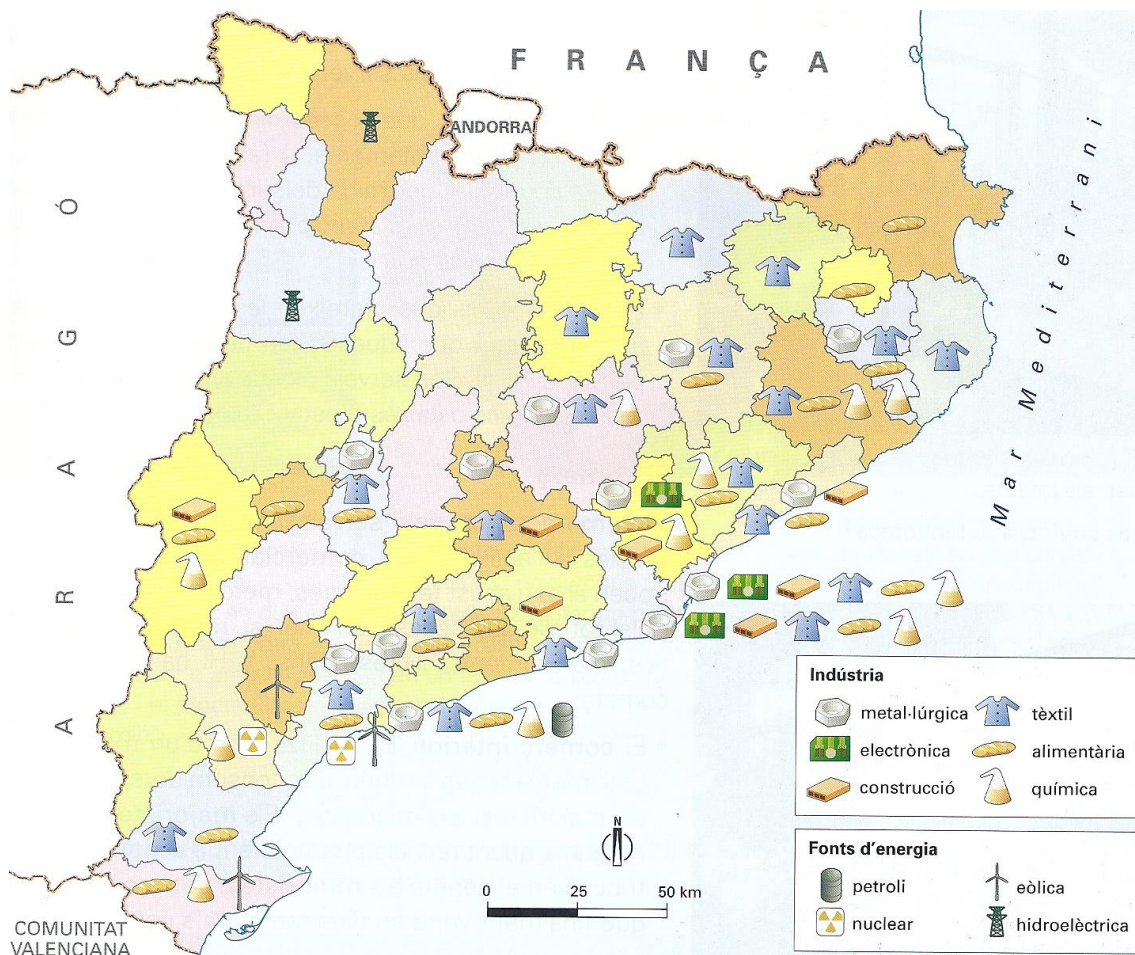
---

• Per què creus que la indústria es concentra a les comarques del litoral?

---



---



# EL SECTOR TERCIARI A CATALUNYA

1. Què agrupa el sector terciari?

---

---

---

2. Quina proporció de població activa es dedica al sector terciari?

---

---

---

3. Completa la taula:

EL SECTOR TERCIARI A CATALUNYA		
Activitat econòmica		Característiques

4. Observa el mapa de l'oferta turística a Catalunya i contesta les preguntes:

- Quina mena de turisme podrà practicar un viatger que arribi a Catalunya buscant el contacte amb la natura?

- En quines comarques hi trobem estacions d'esquí?

- A la teva comarca hi ha alguna oferta turística? Quina?



5. Completa el mapa de conceptes:

