



Nom: Data:



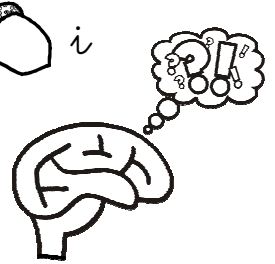
Fem problemes

0 z1 A - 9
FITXA 3





1) He anat al bosc i he trobat primer 4  i després 3 .

Quants agrams he trobat?



	<p>OPERACIÓ</p> <table border="1"><tr><td></td><td></td></tr><tr><td>+</td><td></td></tr><tr><td colspan="2"><hr/></td></tr><tr><td></td><td></td></tr></table>			+		<hr/>			
+									
<hr/>									

Resposta: He trobat agrams.

1) Tinc 4  de mates i 2  de català.
Quantes fitxes tinc en total?

	<p>OPERACIÓ</p> <table border="1"><tr><td></td><td>4</td></tr><tr><td></td><td>2</td></tr><tr><td colspan="2"><hr/></td></tr><tr><td></td><td></td></tr></table>		4		2	<hr/>			
	4								
	2								
<hr/>									

Resposta: En total tinc fitxes.