



Nom: ..... Data: .....




# Fem problemes

0 z1 A - 9  
FITXA 7





1) Tenim 5  de taronjada i per la festa ens hem begut 4  de taronjada.


Quantes ampolles han quedat plenes?


	<table border="1"><tr><td colspan="2">OPERACIÓ</td></tr><tr><td></td><td>5</td></tr><tr><td>-</td><td></td></tr><tr><td colspan="2">-----</td></tr><tr><td></td><td></td></tr></table>	OPERACIÓ			5	-		-----			
OPERACIÓ											
	5										
-											
-----											

Resposta: Han quedat ..... ampolles plenes.

2) Tinc 6  i dono 2  a la meua amiga.

Quants caramels queden per mi?



	<table border="1"><tr><td colspan="2">OPERACIÓ</td></tr><tr><td></td><td></td></tr><tr><td></td><td>2</td></tr><tr><td colspan="2">-----</td></tr><tr><td></td><td></td></tr></table>	OPERACIÓ					2	-----			
OPERACIÓ											
	2										
-----											

Resposta: Per mi queden ..... caramels.