



Nom: Data:




Fem problemes

0 z1 A - 9
FITXA 8





1) La mare ha portat a la taula 5 . Jo m'he menjat 2 .


Quants ous ferrats queden pels altres?


	<p>OPERACIÓ</p> <table border="1"><tr><td></td><td></td></tr><tr><td>-</td><td></td></tr><tr><td colspan="2"><hr/></td></tr><tr><td></td><td></td></tr></table>			-		<hr/>			
-									
<hr/>									

Resposta: Queden ous ferrats pels altres.

2) La Maria ha dibuixat un bosc amb 8  i després ha esborrat 3 .

Quants arbres queden al bosc?



	<p>OPERACIÓ</p> <table border="1"><tr><td></td><td>8</td></tr><tr><td></td><td></td></tr><tr><td colspan="2"><hr/></td></tr><tr><td></td><td></td></tr></table>		8			<hr/>			
	8								
<hr/>									

Resposta: Queden dibuixats arbres.