

Nom: ..... Data: .....




# fem problemes


0 z1 A - 9  
FITXA 10



1) Al full he dibuixat 5  i després m'ho he pensat i he esborrat 1 .

Quantes estrelles queden al dibuix?




	<table border="1"><tr><td colspan="2">OPERACIÓ</td></tr><tr><td></td><td>5</td></tr><tr><td>-</td><td>1</td></tr><tr><td colspan="2"><hr/></td></tr><tr><td></td><td></td></tr></table>	OPERACIÓ			5	-	1	<hr/>			
OPERACIÓ											
	5										
-	1										
<hr/>											

Resposta: Queden ..... estrelles dibuixades.

2) Tinc 7  i regalo 2  a la meua cosineta.

Quantes nines em queden?

	<table border="1"><tr><td colspan="2">OPERACIÓ</td></tr><tr><td></td><td></td></tr><tr><td></td><td></td></tr><tr><td></td><td></td></tr><tr><td colspan="2"><hr/></td></tr><tr><td></td><td></td></tr></table>	OPERACIÓ								<hr/>			
OPERACIÓ													
<hr/>													

Resposta: Em queden ..... nines.