

Nom: Data:



Fem problemes


z1 A - 19
FITXA 2





1) A l'església del poble avui a la missa hi havia
10  enceses i 7  apagades.


Quantes espelmes hi havia en total?



	<table border="1"><tr><th colspan="2">OPERACIÓ</th></tr><tr><td> </td><td> </td></tr><tr><td> </td><td> </td></tr><tr><td colspan="2">-----</td></tr><tr><td> </td><td> </td></tr></table>	OPERACIÓ						-----			
OPERACIÓ											

Resposta: Hi havia espelmes.

2) A la festa del Marc hem fet un joc amb 15 .
El nostre grup ha fet caure 4 .
Quantes bitlles han quedat dretes?

	<table border="1"><tr><th colspan="2">OPERACIÓ</th></tr><tr><td> </td><td> </td></tr><tr><td> </td><td> </td></tr><tr><td colspan="2">-----</td></tr><tr><td> </td><td> </td></tr></table>	OPERACIÓ						-----			
OPERACIÓ											

Resposta: Han quedat dretes bitlles.