





Nom: ..... Data: .....



# fem problemes

z1 B - 19  
FITXA 4





1) A l'aparcament hi ha 7  blaus, 4  vermells, 5  negres i 3 .

Quants cotxes hi ha en total a l'aparcament?

	<p>OPERACIÓ</p> <table border="1"> <tr><td></td><td></td></tr> <tr><td></td><td></td></tr> <tr><td></td><td></td></tr> <tr><td></td><td></td></tr> <tr><td></td><td></td></tr> <tr><td></td><td></td></tr> </table>												

Resposta: A l'aparcament hi ha ..... cotxes.

2) De les 14  que hem collit de la pomera de la masia hi ha 3  podrides.

Quantes pomes hi ha bones?

	<p>OPERACIÓ</p> <table border="1"> <tr><td></td><td></td></tr> <tr><td></td><td></td></tr> <tr><td></td><td></td></tr> <tr><td></td><td></td></tr> <tr><td></td><td></td></tr> <tr><td></td><td></td></tr> </table>												

Resposta: Hi ha ..... pomes bones.