

Nom: ..... Data: .....




# Rellotges

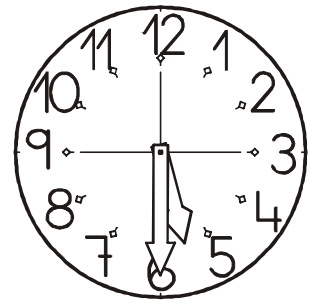
FITXA 7

1) Relaciona cada rellotge amb la seva hora.


Les set. •



Dos quarts de sis. •



Les quatre. •



Dos quarts de tres. •

