



Números fins el 19

1) *Escriu el número que va al mig.*

4 - - 6

11 - - 13

9 - - 11

14 - - 16

10 - - 12

17 - - 19

2) *Escriu el número anterior*



..... - 5



..... - 18



..... - 10

..... - 12



3) *Pinta els requadres corresponents.*



10		<input type="checkbox"/>	
----	---	--------------------------	--



19		<input type="checkbox"/>	
----	---	--------------------------	---

5		<input type="checkbox"/>	
---	---	--------------------------	---

4) *Dibuixa una mosca dins del requadre indicat.*

1		<input type="checkbox"/>	
---	---	--------------------------	---

10		<input type="checkbox"/>	
----	---	--------------------------	---

13		<input type="checkbox"/>	
----	---	--------------------------	---