

Nom: ..... Data: .....








# Sumes i restes amb dibuix



FITXA 1

Dibuixa primer les barres i les fitxes i després resol les sumes i restes.

$$\begin{array}{r} 54 \\ + 3 \\ \hline \end{array}$$
  


$$\begin{array}{r} 26 \\ - 2 \\ \hline \end{array}$$


$$\begin{array}{r} 11 \\ + 4 \\ \hline \end{array}$$

$$\begin{array}{r} 19 \\ - 3 \\ \hline \end{array}$$

$$\begin{array}{r} 50 \\ + 7 \\ \hline \end{array}$$

$$\begin{array}{r} 37 \\ - 4 \\ \hline \end{array}$$

$$\begin{array}{r} 33 \\ + 3 \\ \hline \end{array}$$

$$\begin{array}{r} 38 \\ - 8 \\ \hline \end{array}$$