






Problèmes???

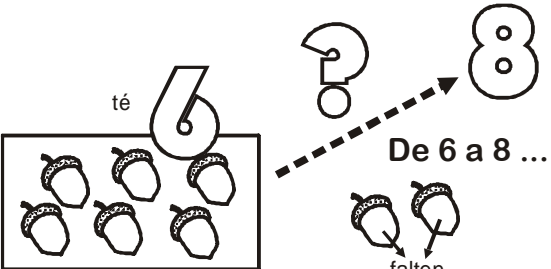
0 z2 A - 9
FITXA 1





1.- L'esquirol té 6  però vol arribar a tenir 8 .




Quants aglans li falten per arribar a 8?

Què busco? Els <i>Els</i> que li falten per arribar a 8.	
Dibuix: 	Operacions:
Resposta: Li falten <i>Li falten</i> aglans per arribar a 8.	

2.- A l'escola, cal canviar 5  que s'han trencat. A la caixa on tenim guardades les bombetes noves només hi ha 2 .

Quantes bombetes haurem de comprar?

Què busco? Les <i>Les</i> que haurem de comprar.	
Dibuix: 	Operacions:
Resposta: Hem de comprar <i>Hem de comprar</i> bombetes.	