



Matemàtiques

FITXA 1




CAPACITAT

1/ Encercla l'opció bona.

Un litre és igual a ...




2/ Relaciona:



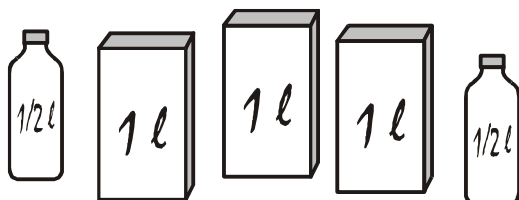
2 litres



3 litres i mig



4 litres



6 litres