



# Matemàtiques

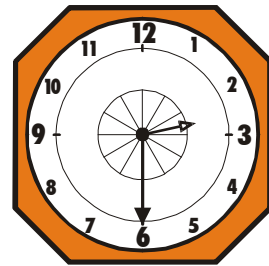
FITXA 1




## RELOTGES

1/ Relaciona cada rellotge amb l'hora que marca.

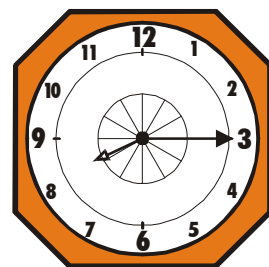
Les dues en punt. •



Un quart de nou. •



Dos quarts de tres. •



Tres quarts de cinc. •

