





# Matemàtiques

FITXA 1





## FRACCIONS



1/ Pinta la **meitat** d'aquestes figures.  $\times$   $1/2$  o també **1 de 2**.



2/ Pinta el **terç** d'aquestes figures.  $\times$   $1/3$  o també **1 de 3**.



3/ Pinta el **quart** d'aquestes figures.  $\times$   $1/4$  o també **1 de 4**.



4/ Escriu a sota  $1/2$ ,  $1/3$  o  $1/4$  segons correspongui.

