




# Matemàtiques

FITXA 2






## FRACCIONS

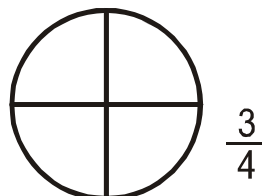
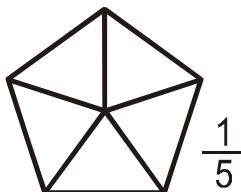
1/ Encercla tots els dibuixos que indiquin un terç.



2/ Encercla tot els dibuixos que indiquin un quart.



3/ Pinta en cada cas la fracció indicada.



3/ Escriu amb números la fracció dibuixada.

