

**L' herència de la cultura clàssica**

**Pàg. 226**

1.- Què vol dir que la religió grega i romana era politeïsta ?

2.- On vivien els déus grecs ?

3.- Com eren ?

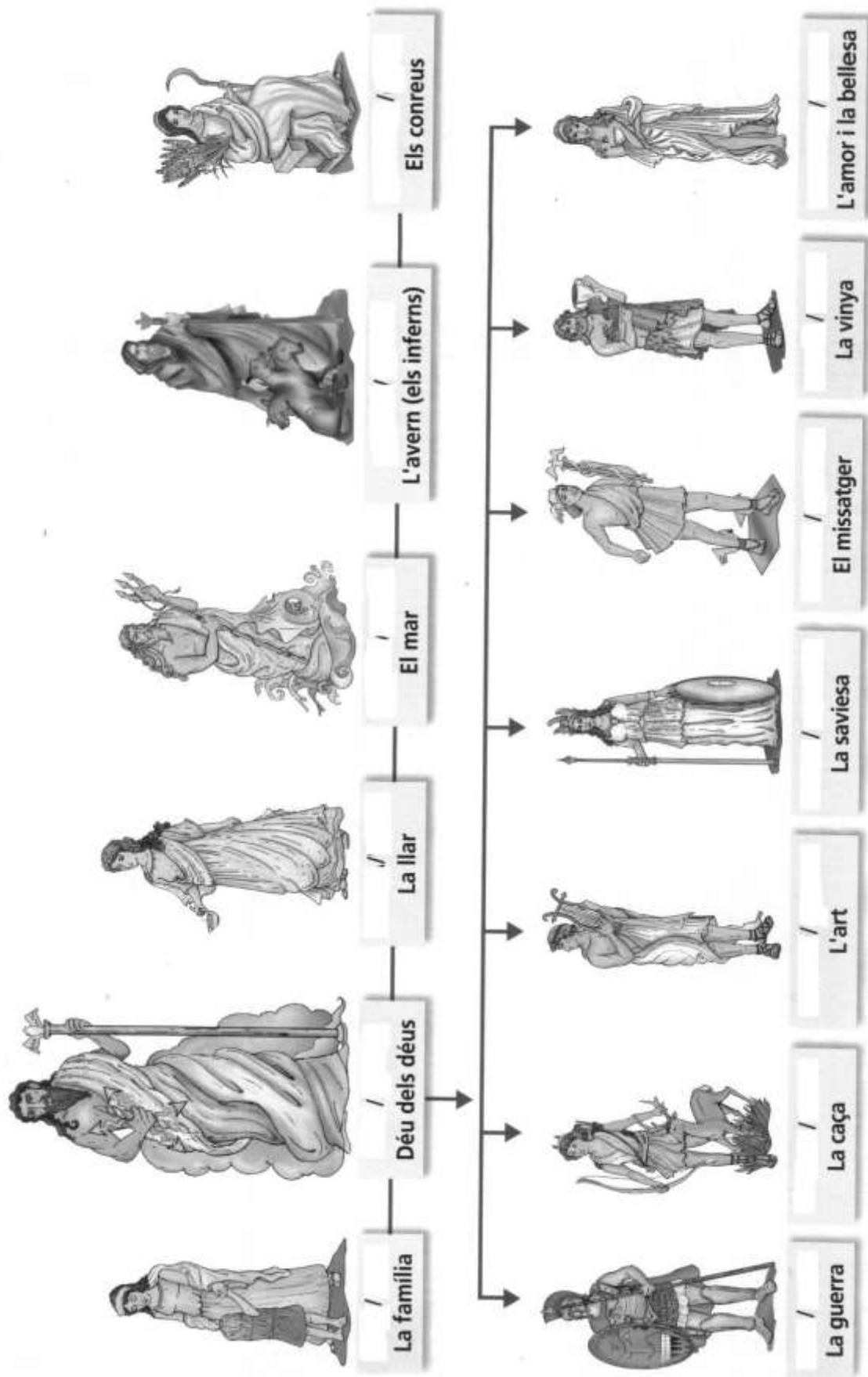
4.- Què vol dir que eren immortals?

5.- Qui eren els herois ?

6.- Què eren els mites ?

7.- Què va fer Pandora i quines conseqüències va tenir?

8.- Escribe el nombre griego (negre) i romà (vermell) de cada déu.



**Pàg. 228**

1.- Per què diem que Grècia és el bressol de la filosofia i el pensament racional?

2.- Quins són els filòsofs grecs més importants ?

3.- Quins científics grecs varen destacar en:

<b>Matemàtiques :</b>	<b>1</b>	<b>2</b>	<b>3</b>
<b>Física:</b>			
<b>Medicina:</b>			
<b>Geografia:</b>			
<b>Astronomia:</b>			

**Pàg. 229**

1.- Escriu el nom de les parts d'un teatre grec.



2.- Què explicaven les tragèdies ?

3.- Quins són els autors de tragèdies més coneguts ?

4.- Què explicaven les comèdies?

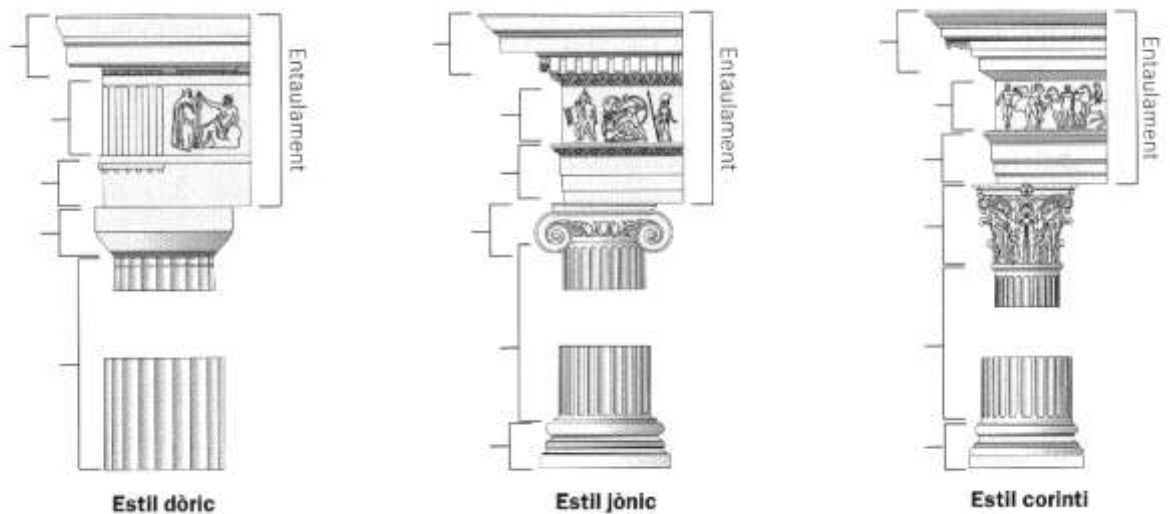
5.- Quins són els autors de comèdies més coneguts ?

**Pàgs.230-231**

1.-Què vol dir que l'arquitectura grega està pensada a **la mesura de l'ésser humà**?


2.- Per què diem que l'arquitectura grega és **arquitravada**?

3.- Observa la pàg. 230, completa el dibuix i contesta :



- a. De quines parts consta l'entaulament ?
- b. Quin element de les columnes jòniques i corínties no té la columna dòrica ?...

4. Senyala les parts d'un temple grec : **cornisa – fris – arquitrau – columnes – frontó – basament - timpà**





1.- De qui va copiar la majoria de les formes l'arquitectura romana?

2.- En què varen destacar els romans ?

3.- Quines tècniques de construcció orientals varen utilitzar els romans?

4.- Dibuixa un arc de mig punt i una volta de canó.



3.- Defineix :

**circ :**

**amfiteatre :**



**teatre:**

**arc de triomf :**

**termes:**

**aqüeducte :**

Dibuixa un circ i un amfiteatre:



1.- Com eren les escultures del període arcaic ?

2.- Quin era l'objectiu dels escultors del període clàssic ?

3.- Què varen fer els escultors en el període hel·lenístic ?

4. Identifica a quin període pertanyen cada una d'aquestes escultures.



1.- Com era l'escultura romana ?

2.- Què eren els mosaics ?

3.- Com era la pintura romana ?

4.- Què eren els frescos ?

5.- Identifica la pintura mural i el mosaic.

