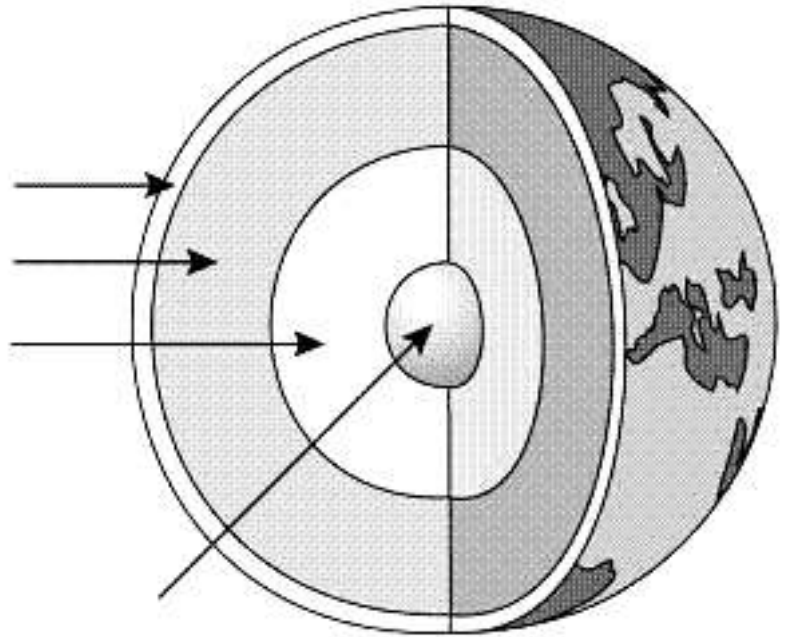


## LES FORMES DE LA TERRA

### 1. La capa externa de la Terra

1.- Escribe el nombre de las diferentes capas que forman el conjunto de la Tierra.



2.- Explica tot el que sàpigues :

**NUCLI:**

**MANTELL:**

**ESCORÇA:**

3.- Què és la **litosfera** ?

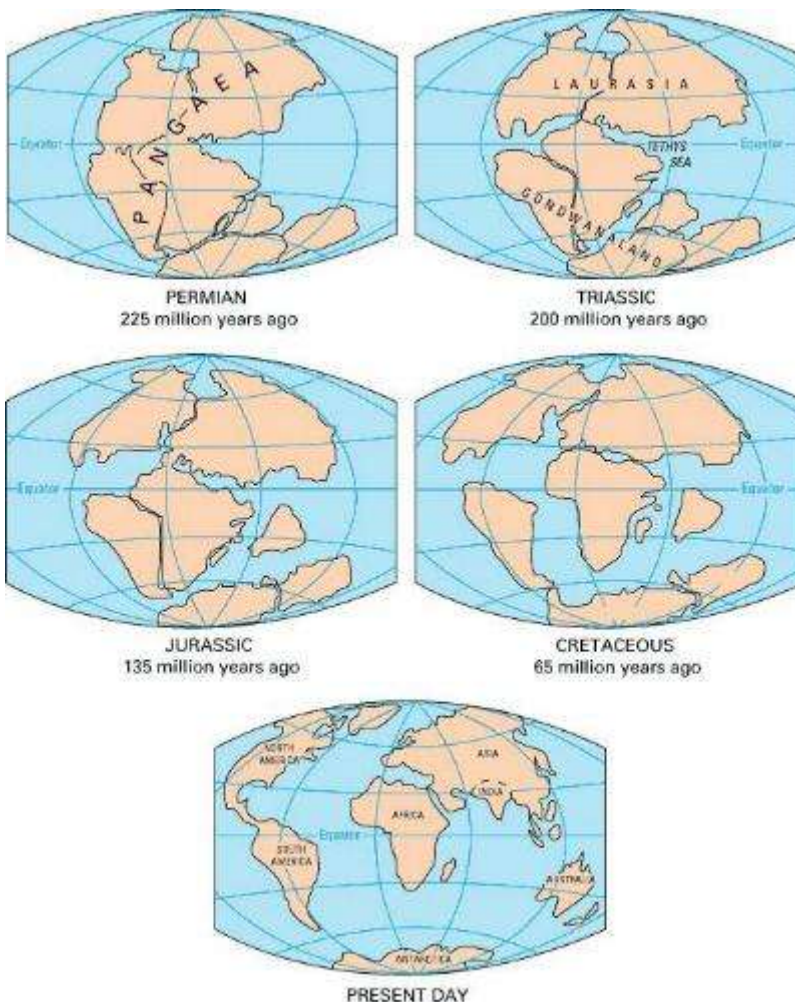
4.- Les roques que hi ha sota els mars i els oceans, també formen part de l'escorça terrestre? .....

5.- Llegeix la lectura de la pàg. 29 i contesta:

- Què és **Pangea** ?
  
- Què passa quan dues plaques xoquen entre si?
  
- Què passa quan dues plaques es separen?
  
- Què provoquen aquests moviments de les plaques ?

6.- Mira el planisferi de la pàg. 29 i contesta:

- Quines són les zones més inestables de la Terra?
  
- I les més estables?
- Quines zones de la Península Ibèrica són les més inestables?



Teoria de Wegener

**2. Agents interns de formació del relleu**

1.- Quins són els agents interns de formació del relleu?

2.- Què és un terratrèmol ?

3.- Què és un sismògraf?

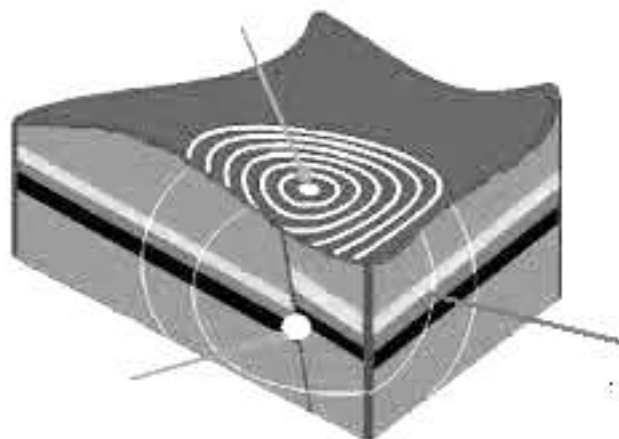
4.- Què mesura l'escala de Richter ?

5.- Què és l'hipocentre o focus d'un terratrèmol?

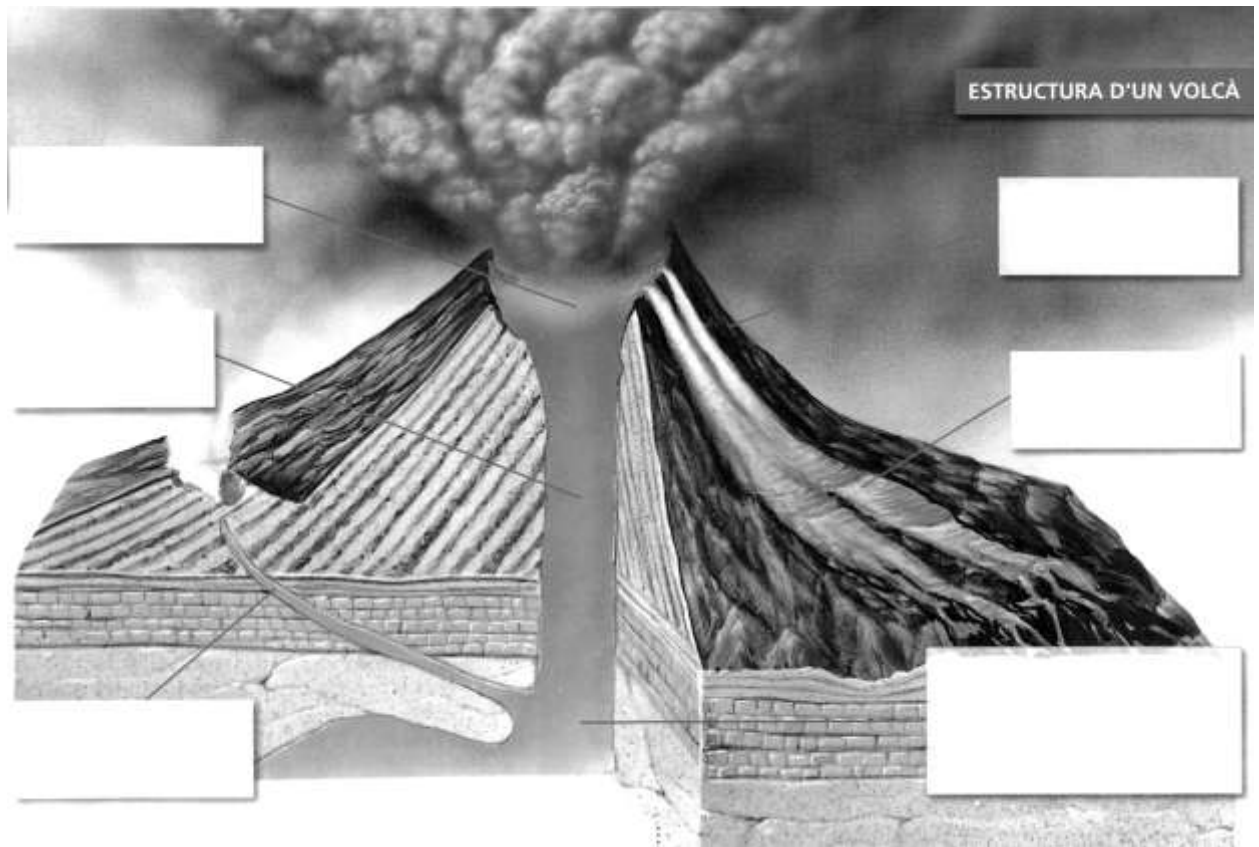
6.- Què és l'epicentre ?

7.- Què és un tsunami ?

8.- Escribeu el nom de les parts d'un terratrèmol.



9.- Anota el nom de les parts del volcà.



10.- Defineix:

**Cràter:**

**Magma:**

**Con volcànic:**

### 3.- Els agents externs de formació del relleu

1.- Quins són els agents externs de formació del relleu?

2.- Com actua l'aigua de la pluja en la formació del relleu?

3.- Com actua el gel en la formació del relleu?

4.- Com actua l'aigua quan reacciona químicament amb les roques?

5.- Com actuen les aigües marines en la formació del relleu?

6.- Quin treball fa el vent sobre el relleu?

8.- Com contribueix la vegetació sobre la formació del relleu?

9.- Com intervé l'ésser humà en la transformació del medi físic?

### Les formes de relleu

10.- Defineix:

**dorsal :**

**illa:**

**arxipèlag :**

**istme:**

**península :**

**cap :**

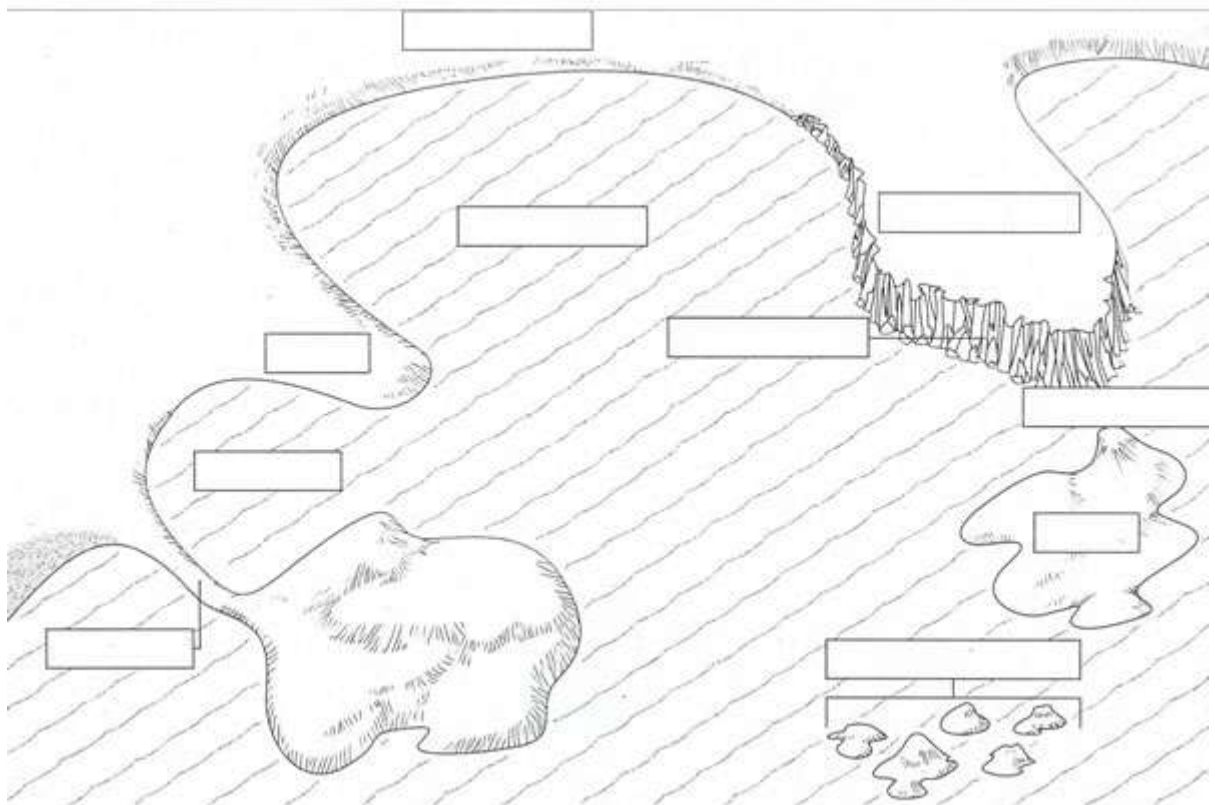
**golf :**

platja :

Penya-segat :


Fossa marina:

11.- Situa en el dibuix els següents noms : **golf - badia - cap - península - istme - illa - arxipèlag - platja - estret - penya segat**



12.- Defineix les següents paraules: **serralada - massís - plana - turó - depressió - vall - altiplà.**

13.- Situa en el mapa els següents noms: serralada - volcà - vall - muntanya - plana - altiplà - turó - serra



14.- Quina diferència hi ha entre una plana abissal i una plataforma continental?

15.- En què es diferencia un fiord d'una ria?

#### **4. Els continents**

1.- Quin és el continent més gran?....

I el més petit? ...

2.- Calcula quantes vegades és més gran la superfície d'Àsia que la d'Espanya.

**The Physical World**  
Continents and Oceans

Provided by: graphicmaps.com

Name the Continents			Name the Oceans	
1	4	6	8	11
2	5	7	9	12
3			10	

**5. El relleu continental**

1.- Situa en el planisferi els següents números :

Relleu ( negre ) : 1 Serralada Escandinava – 2 Himàlaia – 3 Muntanyes Rocalloses – 4 Caucas – 5 Andes – 6 Urals – 7 Apenins – 8 Pirineus – 9 Alps – 10 Càrpats – 11 Balcans - 12 Atles - 13 Monts Zagros – 14 Kun Lun – 15 Desert del Sahara – 16 Desert del Kalahari – 17 Grans Planes – 18 Altiplà del Brasil – 19 Riff Valley - 20 Tibesti – 21 Pampa – 22 M.Drakensberg - 23 Gran Serralada Divisoria – 24 Apalatxes - 25 Sibèria

2.- Quines són les grans serralades del continent americà ?

3.- Localitza les grans planes. Quines són i on es troben?



**1.- Situa en el planisferi els següents números :**

Costes ( blau ) : 1 O. Pacífic – 2 O. Atlàntic – 3 O. Índic – 4 O. Glacial Àrtic – 5 O. Glacial Antàrtic – 6 mar del Nord – 7 mar Mediterrània – 8 mar Negra – 9 mar Roja – 10 mar Caspi – 11 mar Bàltica – 12 mar Carib (Antilles ) – 13 golf de Mèxic – 14 golf de Bengala – 15 golf Pèrsic – 16 golf de Guinea – 17 cap de Bona Esperança – 18 cap Guardafuí – 19 Pen. del Labrador – 20 cap d'Hornos – 21 estret de Bering – 22 estret de Gibraltar – 23 Pen. de l'Hindustan – 24 Pen. de Florida – 25 Pen. de Califòrnia – 26 Pen. Ibèrica – 27 Pen. d'Aràbia – 28 Pen. d'Indo-Xina – 29 Pen. de Corea – 30 Pen. de Kamtxatka .

2.- Busca 10 de les penínsules que hi ha al mapa i escriu-ne els noms. Anota també el nom del continent de què formen part.

*Pen. del Yucatan                      Amèrica*

3.- Quines són les illes més importants del mar Mediterrani ?

4.- A quin oceà hi ha un nombre d'illes més gran ? ...

**Pàg 43 Completa el mapa d'Europa**

**Sistemes muntanyosos :** Monts Ural – Càrpats – Pirineus – Balcans - Alps – Caucas – Apenins

**Cims :** Elbrus – Mont Blanc – Etna – Teide

**Planes :** de l'Europa Occidental - del Mar Bàltic - Atlàntica

**Estrets i canals :** Gibraltar - de la Mànega - Dardanels – Bòsfor

**Rius :** Volga – Danubi – Ural – Dnièper - Rin – Tajo – Po

**Mars :** Mediterrani – Bàltic – Negre – Caspi – Nord – Noruega – Barentsz – Adriàtic

**Caps :** Matapan – Nord – Reykjanes

**Golfs:** Biscaia – Bòtnia

**Illes :** Gran Bretanya – Còrsega

2.- Quin és el cim més alt d'Europa ?...

**Pàg. 45 Situa aquests noms en el mapa de relleu d'Espanya. (negre)**

Depressió de l'Ebre – Depressió del Guadalquivir

Submeseta Nord - Submeseta Sud

Pirineus - Sistema Ibèric - Serralada Cantàbrica - Serralades Bètiques - Sierra Morena -

Massís Galaic - Sistema Central - Serralades Costaneres - Montes de Toledo

PICS: Teide - Aneto - Mont Perdut - Mulhacén - Teleno - Moncayo - Peñalara -

Almanzor - Sagra - Puig Major - Torre Cerredo

2.- Quina és la unitat més important del relleu peninsular? ...

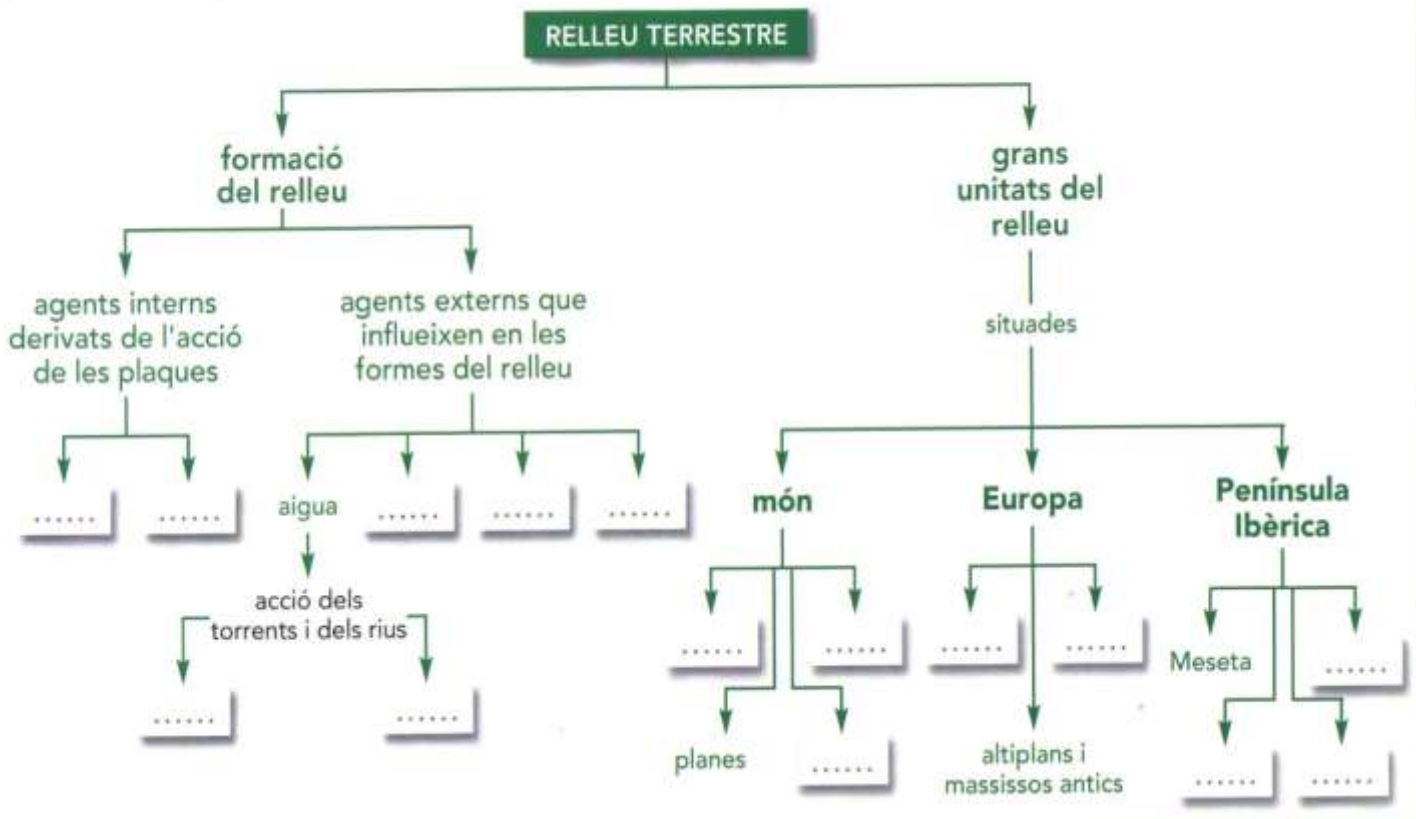
3.- Quines serralades envolten la Meseta ?

4.- Com són les costes?

5.- En què es diferencia el relleu de les illes Canàries del de les illes Balears?

**ACTIVITATS COMPLEMENTÀRIES**

Copia el mapa conceptual al quadern i completa'l:



2.- Aprèn a fer una gràfica de barres.

3.- Localitza en el mapa ( pàg.43)

- a) Tres cadenes muntanyoses joves del sud d'Europa.  
-  
-  
-
- b) Les dues cadenes muntanyoses que separen el continent europeu de l'asiàtic.  
-  
-
- c) Una gran plana que s'estén des de Bèlgica fins a Rússia. ...
- d) Tres massissos muntanyosos antics.  
-  
-  
-
- e) Tres penínsules del sud del continent europeu i tres del nord.  
-  
-  
-  
-  
-
- f) Les dues illes més grans del mar Mediterrani.  
-  
-

Copia i completa l'esquema al quadern:

