



LA PREHISTÒRIA

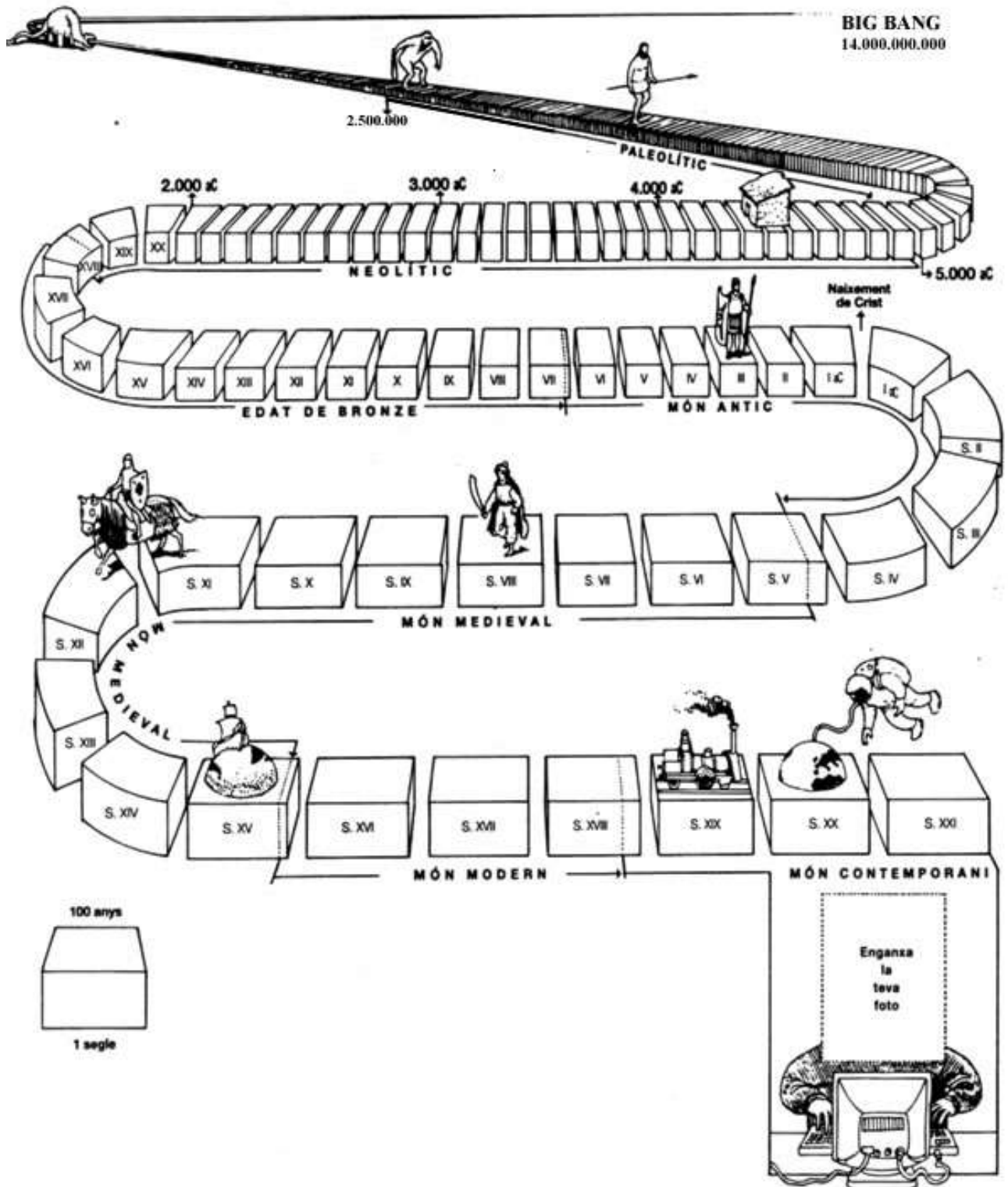
Pàgs. 132-133

1.- Què és la Prehistòria?

2.- Què és el Paleolític?

3.- Què és el Neolític?

4.- Analitza el mapa de la pàg. 132 i explica a quina zona del món podem situar el naixement de la humanitat i a quin lloc va sorgir per primera vegada l'agricultura.



Pàgs. 134-135

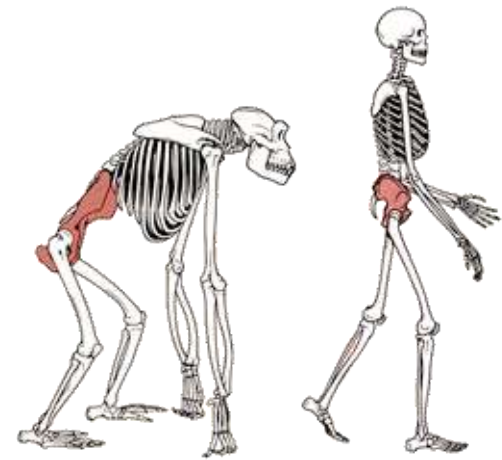
1.- Què va passar a la Terra fa 6 milions d'anys ?

2.- Què varen fer alguns primats d'Àfrica ?

3.- Com varen aconseguir sobreviure aquests primats?

4.- A què anomenem **hominització**?

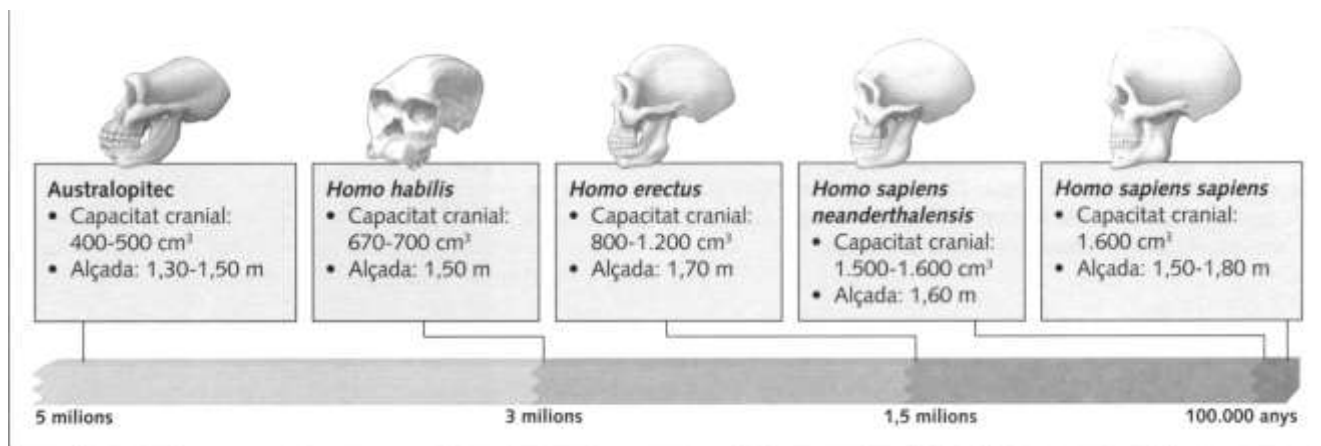
5.- Quins avantatges va comportar la posició vertical i la marxa bípeda? (2)



6.- Què va comportar la posició del cap en equilibri damunt el tronc?

7.- Per què va disminuir la mida de la mandíbula i de les dents?

8.- Quins altres canvis es varen produir en els homínids? (4)



4. AUSTRALOPITHECUS :



- On van aparèixer ?
- Quan ?
- Què els diferenciava de les altres espècies ?

5. HOMO HABILIS :



- On van aparèixer ?
- Quan ?
- Què els diferenciava de les altres espècies ?

HOMO ERECTUS : (Homo Ergaster – Homo Antecessor)



- On van aparèixer ?
- Quan ?
- On va viure?
- Què els diferenciava de les altres espècies ?

HOMO NEANDERTHAL :



- On van aparèixer ?
- Quan ?
- On va viure?
- Què els diferenciava de les altres espècies ?



HOMO SAPIENS :

- **On va aparèixer ?**
- **Quan ?**
- **On va viure?**
- **Què els diferenciava de les altres espècies ?**

Pàgs. 136-137

1.- Què vol dir que els éssers humans del Paleolític eren depredadors ?

2.- Com aprofitaven les seves preses?

3.- Què vol dir que eren nòmades?

4.- Com devia descobrir el foc l'homo erectus?

5.- Quines utilitats tenia el foc per l'home? (5)

-
-
-
-
-

6.- Com va aprendre a encendre el foc?

7.- Què és un bifaç?

8.- Amb quin material es fabricava? Quines característiques presenta aquesta pedra?

9.- Amb quins altres materials es fabricaven també els estris?

10.- Observa el dibuix de la pàg. 137; identifica aquests estris.



11.- Observa el dibuix de la pàg. 137 :

- Quines formes d'hàbitat pots veure en aquesta il·lustració?

- Descriu quines activitats es feien habitualment en un campament paleolític. (9)

-
-
-
-
-
-
-
-
-
-

- Quin procediment fan servir els dos personatges per fer foc?

Pàgs. 138-139

1.- D'on van sorgir les primeres creences religioses?

2.- Quan van començar els éssers humans a enterrar els morts?

3.- Com eren aquests enterraments ?

4.- Què s'entén per aixovar funerari?

5.- Quins varen ser els primers homes que varen pintar a les parets de les coves? Què pintaven?

6.- Per què pintaven?

7.- Què és l'art **moble**?

8.- Què decoraven?



9.- Què eren les **venus**?

10.- Quines d'aquestes pintures corresponen al Paleolític.



Pàgs. 140-141

1.- Què és el Neolític?

2.- Com va començar l'agricultura?

3.- Com va sorgir la ramaderia?

4.- Quina nova tècnica es va inventar en aquesta època? Què va permetre?

5.- Com va sorgir la ceràmica?

6.- Quines altres activitats varen aparèixer en aquesta època?

7.- A on es va originar l'agricultura i la ramaderia?

Pàgs. 142-143

1.- Què vol dir que l'home es va convertir en sedentari?

2.- Com eren els poblats neolítics?

3.- Com eren les cases?

4.- Què eren les deesses mare ?



5.- Com era la ciutat de Çatal Hüyük ?

Pàgs. 144 i 149


1.- Què són els megàlits ?

2.- Què és un menhir?

3.- Què és un dolmen?

4.- Què és un cromlec?

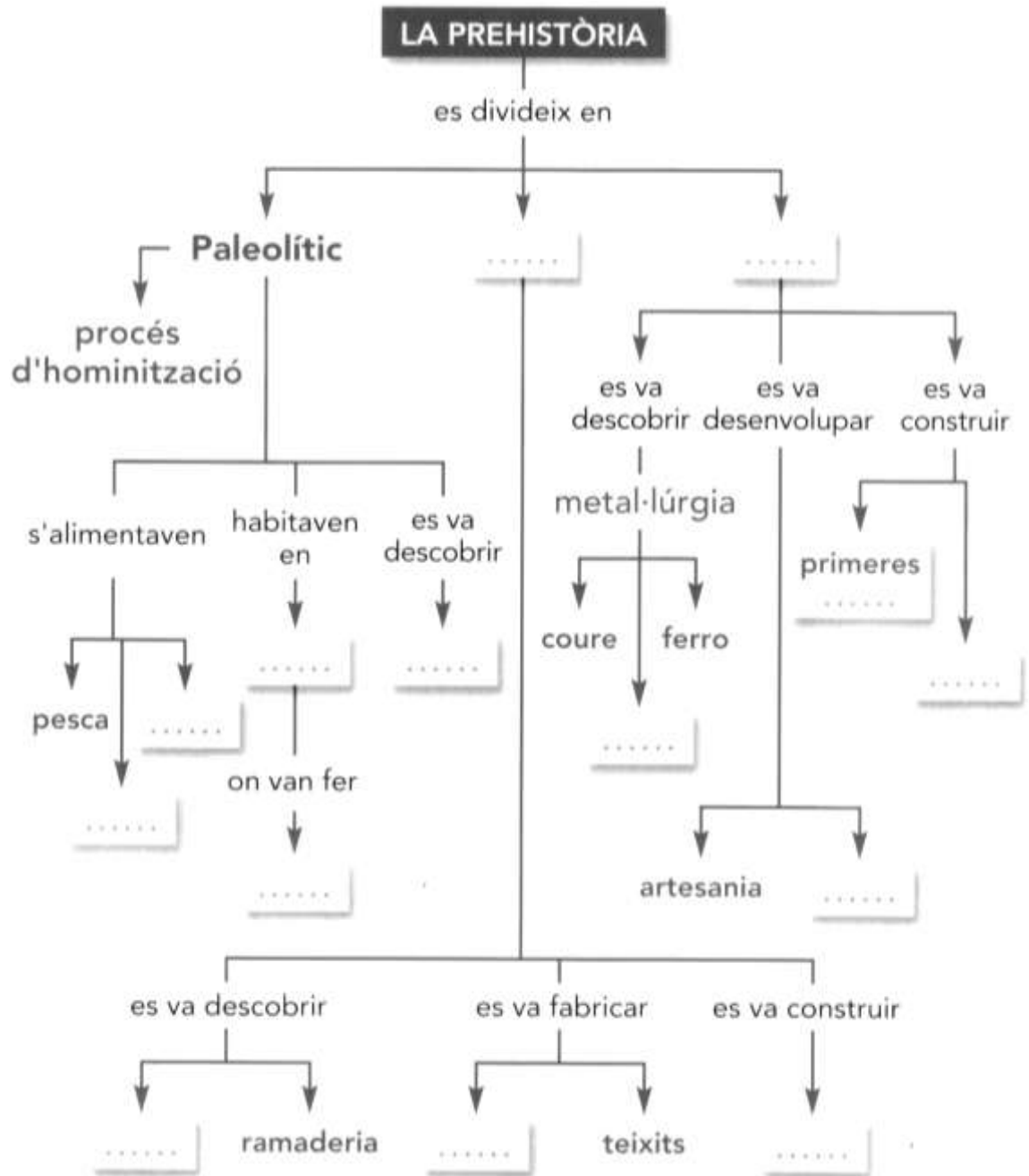
5.- Situa a sota de cada dibuix el seu nom.




6.- Quins són els monuments megalítics més abundants a Catalunya?

7.- Dibuixa la cova megalítica de “Los Millares”.

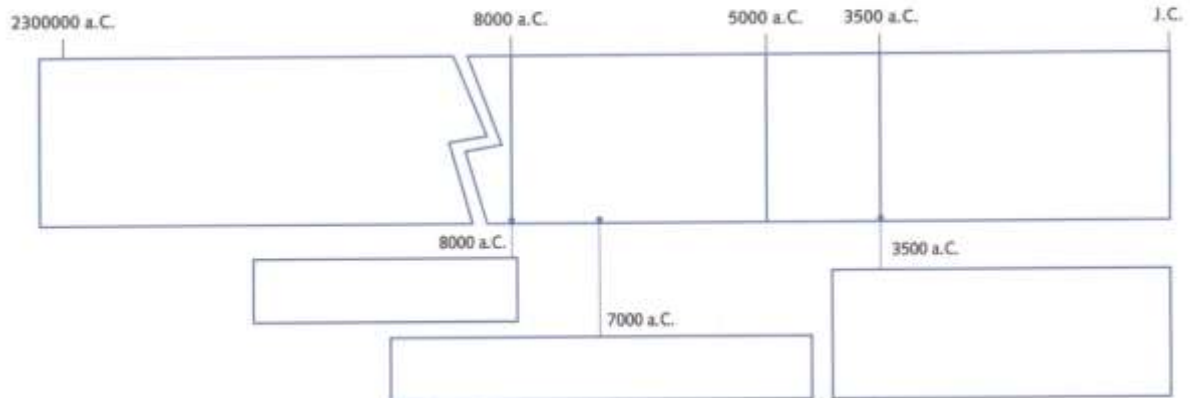
1.- Completa el mapa conceptual.



2.- Escriu el nom de cada espècie a sota del seu dibuix.



- Escriu als espais corresponents els diversos períodes que surten a l'eix i pinta'ls cadascun amb un color diferent.
- Escriu al costat de les dates alguns dels esdeveniments més importants de la Prehistòria.



3.- Què és el Paleolític?

4.- Com vivien els éssers humans en aquesta època?

5.- Què és l'art rupestre?

6.- Quins canvis es varen produir durant el Neolític?

7.- Observa l'exercici 8 de la pàg. 151 i contesta:

Objectes	Nom	Funció	Materials	Ordre
A				
B				
C				
D				
E				

8.- Completa aquesta taula:

	PALEOLÍTIC	NEOLÍTIC
On habitaven		
De què vivien		
Estris		
Manifestacions artístiques		

9.- Llegeix el text “Les pintures rupestres” de la pàgina 147 i contesta:

a) Quins dos tipus de pintura rupestre podem trobar a la Península Ibèrica?

b) Com són les pintures de la zona cantàbrica?

c) Com són les pintures de la zona llewantina?

d) Com són la majoria de pintures que trobem a Catalunya?

10.- Encercla les pintures del Neolític (art llewantí).

