

### LA CIUTAT MEDIEVAL

#### **Pàgs. 42 - 43**

1.- Quins canvis van experimentar les ciutats europees entre els segles XII i XIV ?

2.- Per què els reis es varen aliar amb la burgesia ?

3.- Quina era la situació d'Europa a partir de mitjan segle XIV ?

#### **Pàgs 44 – 47**

1.- Quines circumstàncies van fer possible l'augment dels intercanvis comercials i el renaixement de la vida urbana a partir del segle XII ?

2.- Quines innovacions tècniques es varen introduir en l'agricultura ?

3.- Observa el dibuix de la pàg. 44 i contesta?

- a) Què és la rotació de conreus triennal?
- b) Quin avantatge representa respecte a la rotació biennal?

4.- Què va permetre l'increment de la producció agrícola ?

5.- Què varen fer els pagesos davant el creixement demogràfic ?

a)

b)

6.- Què varen fer els pagesos amb l'excedent d'aliments que produïen ?

7.- Què eren els burgs? Qui eren els burgesos?

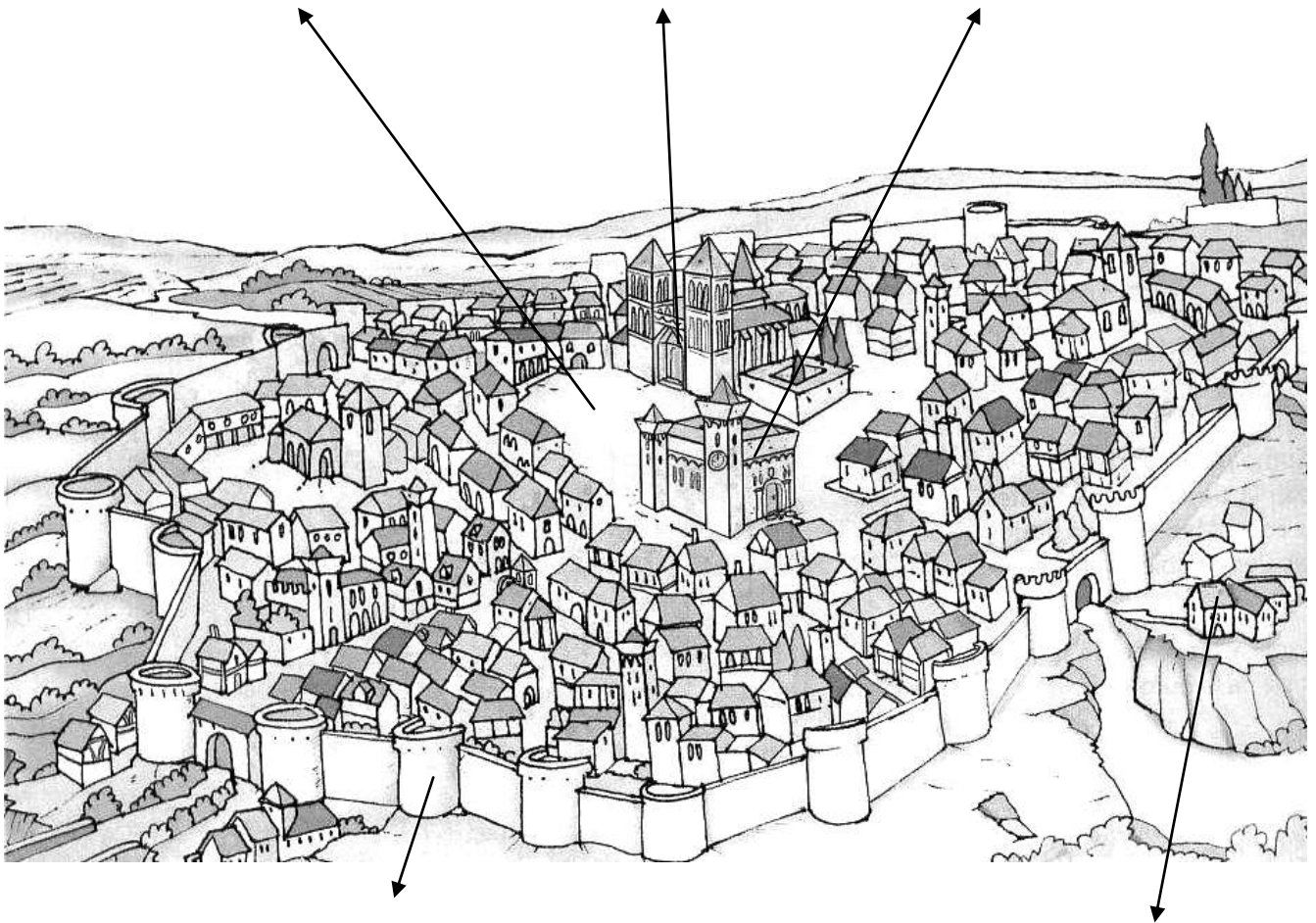
8.- Com eren les ciutats medievals? **Pàg. 46**

9.- Quin era l'espai urbà central? Quins edificis es situaven al seu voltant ?

10.- Com eren els carrers?

11.- Quins problemes presentaven les ciutats medievals?

12.- Completa el dibuix : muralla – raval – plaça del mercat – catedral – ajuntament



**Pàgs. 48 – 49**

1.- Què era el taller?

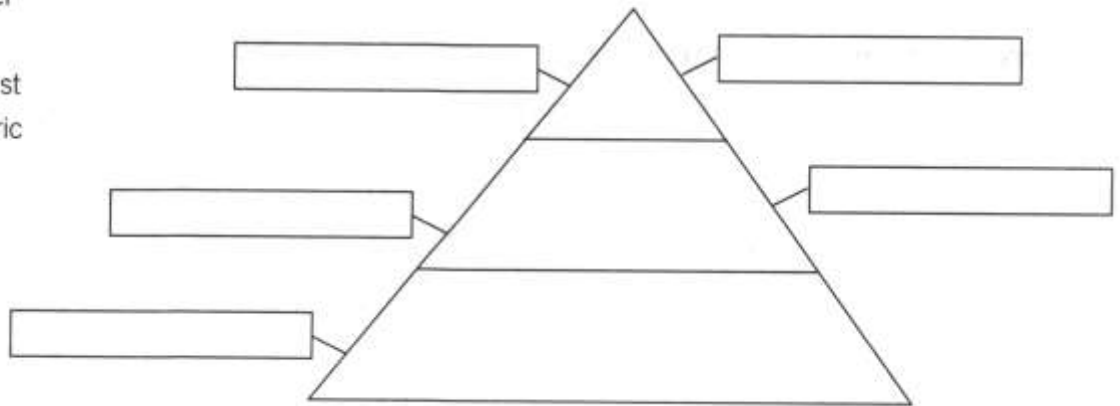
2.- Com s'organitzaven els artesans? Per què?

3.- Quines eren les principals normes d'un gremi ?

4.- Defineix: **mestre artesà, oficial i aprenent.**

Situa els personatges següents en el lloc que els correspon en la piràmide social. Tingues en compte que com més amunt són més poder tenen.

- Mestre d'ofici
- Captaire
- Fuster modest
- Comerciant ric
- Botiguer



5.- Què era el mercat ?

6.- Què era una fira ?

7.- Per què el comerç marítim era més important que el terrestre ?

8.- Explica com era la ruta del Mediterrani.

9.- Busca informació sobre la **Hansa** i explica que era.

10.- Qui eren els **burgesos** ?

11.- Quina era la base de la seva riquesa?

12.- Quins grups podem distingir entre els burgesos ?

13.- Quins altres grups vivien a les ciutats medievals ?

14.- Què eren els calls ?

15.- Qui governava les ciutats ?

16.- Per què varen aparèixer les universitats?

**Ampliació.** Explica que eren el **trivi** i el **quadri**.

**Pàgs. 52 - 53**

1.- Per què abans del segle XII el rei tenia un poder escàs ?

2.- Què va passar a partir del segle XII ?

3.- Quins privilegis varen oferir els reis als burgesos ?

4.- Què varen rebre a canvi ?

5.- Què eren les corts o parlaments medievals ?

6.- Qui es va enfrontar a la Guerra dels Cents Anys ? Per què ?

**Pàgs. 54-55**

1.- Per què la fam es va estendre per Europa a principis del segle XIV ?

2.- Quins danys provocaven les guerres entre els senyors feudals?

3.- Busca informació sobre la **Pesta Negra** i contesta:

- a. Quan va arribar la pesta a Europa?
- b. Quins animals la van transmetre ?
- c. Per què es va estendre tan despres ?

4.- Quins efectes va tenir el descens de la població al camp?

5.- Què varen fer els senyors ?

6.- Per què els pagesos es varen revoltar?

7.- Per què les classes populars de la ciutat es varen revoltar ?

8.- Quines millores exigien ?

**Ampliació.** Llegeix la lectura de la pàg. 55 i contesta la pregunta.

a.

**Pàgs. 56 - 57**

1.- Què és el gòtic?

2.- Quins són els edificis més representatius del gòtic ?

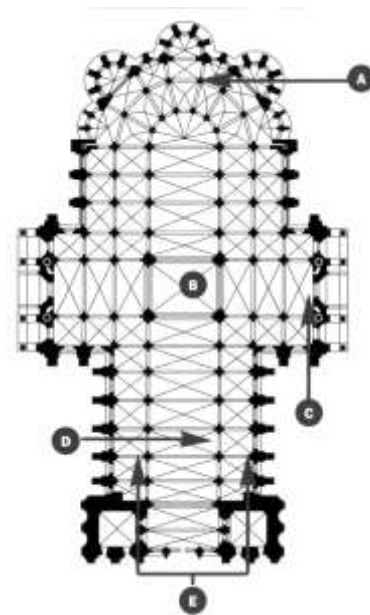
3. Quines són les característiques principals de l'arquitectura gòtica ? (6)

- 
- 
- 
- 
- 
- 

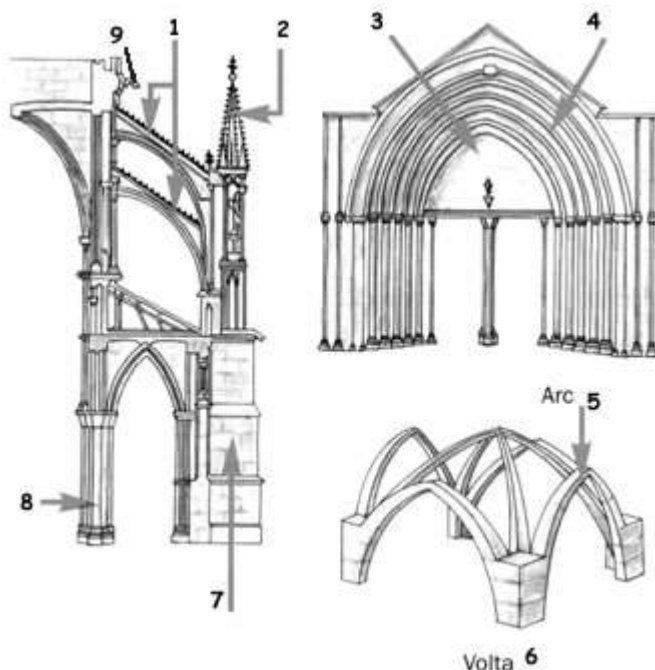
4.- Com és la planta més típica de les catedrals gòtiques?

5.-Relaciona cadascuna de les lletres d'aquest dibuix amb : nau central , creuer , absis , naus laterals i transsepte

- A
- B
- C
- D
- E



6.-Completa els noms d'aquests elements constructius de l'arquitectura gòtica : columna – pinacle – arc apuntat – timpà – arcbotants – contrafort – volta de creueria – gàrgola – arquivoltes



- 1.
- 2.
- 3.
- 4.
- 5.
- 6.
- 7.
- 8.
- 9.

7.- Què eren els vitralls ?

8. – Què eren les gàrgoles ?

9.- Què és una figura exempta ?

10.- Observa aquesta verge gòtica i escriu 4 característiques que la diferenciïn d'una verge romànica.



11.- Quines noves característiques presenta la pintura gòtica ?

- 
- 
- 
- 
- 

12.- Per què a les esglésies gòtiques hi trobem menys pintures que a les romàniques ?

13.- Què eren les **taules** o **retauls** ? On se solien situar a les esglésies?

### **SINTETITZA**

1.- Quins canvis agrícoles i demogràfics van permetre el renaixement urbà ?

2.- Com eren les ciutats medievals?

3.- Explica quina activitat feien els artesans i els comerciants ?



4.- Quin grup social nou es va desenvolupar a les ciutats ? ...

5.- Quins trets va tenir la crisi dels segles XIV i XV ?

6.- Quines característiques presenta l'arquitectura gòtica ?

- 
- 
- 
- 
- 
- 

7.- Llegeix el text de la pàg. 60 i contesta les preguntes :

a. Quines condicions s'exigien al mestre artesà ?

b. Quin era el seu horari de treball ? Qui el fixava

Uneix cada conceptes amb la seva definició:

- |            |   |
|------------|---|
| a) Moreria | 1. Barri d'una ciutat cristiana ocupat per població jueva |
| b) Burgès  | 2. Associació d'artesans d'un mateix ofici                |
| c) Gremi   | 3. Habitant de la ciutat                                  |
| d) Jueria  | 4. Barri d'una ciutat cristiana habitat per musulmans     |

Busca en la sopa de lletres 6 oficis l'edat mitjana

R	A	T	I	N	T	O	R	E	R	O
O	T	F	E	J	I	N	T	O	O	K
G	Ñ	L	L	A	U	N	E	R	F	L
A	G	A	P	T	F	O	R	T	E	R
F	O	R	N	E	R	H	A	E	D	O
I	P	U	P	A	R	A	D	I	R	O
V	F	Y	U	E	S	U	F	X	P	L
A	T	U	S	A	C	A	M	I	R	U
U	C	S	I	S	P	A	L	D	R	O
B	A	T	A	N	E	R	S	O	E	R
F	U	S	T	E	R	T	N	R	I	O