

QUADERN CA1

1. Escriu cinc coses que faries durant tot un dia si no tinguessis cap aparell audiovisual (TV, consola, ordinador..) a casa.

EA 1

1
(0-5)

2. Quan estàs davant les pantalles, et plantejges destinar-hi un temps limitat per poder fer altres coses, sense que a casa t'ho diguin, i per poder variar d'activitat?

Mai o quasi mai	
Alguna vegada	
Força	
Sempre	

EA 1

2
(0-5)

TOT EA1

Total
1 i 2
(0-10)

3. Ara visionaràs uns clips de vídeo. Estigues atent i després de cadascun posa una creu al format que correspon.

Clip 1	Relat de ficció	
	Informatiu	
	Publicitat	
	Videojoc	
Clip 2	Relat de ficció	
	Informatiu	
	Publicitat	
	Videojoc	
Clip 3	Relat de ficció	
	Informatiu	
	Publicitat	
	Videojoc	
Clip 4	Relat de ficció	
	Informatiu	
	Publicitat	
	Videojoc	
Clip 5	Relat de ficció	
	Informatiu	
	Publicitat	
	Videojoc	

TOT EA5

3
(0-10)



4. Relaciona amb el mateix número cadascuna d'aquestes tasques realitzades en una producció radiofònica amb la persona que ho fa. (Alguna persona es quedarà sense tasca)

PERSONA QUE HO FA	
1	Productor
2	Presentador
3	Corresponsal
4	Tècnic de so
5	Director de programa
6	Documentalista
7	Lingüista


TASCA	
Recull i envia tota la informació interessant que es produeix fora de l'emissora	
S'encarrega de la locució	
S'encarrega dels equips tècnics de l'estudi, taula de so, magnetòfons...	
Màxim responsable d'un programa no informatiu	
S'encarrega de trobar els convidats o buscar les fonts d'informació per als redactors	

TOT EA 3

4
(0-10)



5. Col·loca el número que correspon a aquestes parts de la càmera de vídeo.
(Et quedarà algun número sense col·locar)



Botó per gravar (rec)	
Bateria	
Zoom	
Visor	



EA 9

5
(0-2)

6. Has d'engegar i fer que apareguin les imatges del reproductor de DVD que està apagat. El DVD, ja el tens a dintre. Encercla el botó o botons que premeries.



7. Has de gravar-te la veu a la gravadora de l'ordinador, encercla el botó que pitjaries.



8. Posa el mateix número als conceptes i definicions que corresponguin. Et quedarà algun concepte sense definició.

CONCEPTE	
1	Trespeus o trípod
2	Objectiu
3	Memòria digital
4	Bateria
5	Rec
6	Escàner
7	DVD
8	SMS

DEFINICIÓ	
Dispositiu electrònic , utilitzat per a emmagatzemar les dades procedents de càmeres digitals, agendes electròniques, ordinadors portàtils, reproductors de música, vicecònsols o altres dispositius electrònics.	
Acumulador d'electricitat que es col·loca a certs aparells perquè funcionin.	
Lent o conjunt de lents que permet veure les imatges amb la mida i les característiques que es vol.	
Aparell electrònic que pot explorar un objecte, foto o una part del cos punt per punt i fer-ne una imatge que es pot veure en pantalla.	
Missatge de mòbil	

EA 9

6
(0-2)



EA 9

7
(0-1)



EA 9

8
(0-5)



TOT EA9

Total
5,6,7 i
8



0-10)

9. A continuació tens una pàgina extreta d'un còmic dels Simpson. Llegeix-lo i observa'l amb detall. Cada vinyeta té un número. A continuació posa el número de vinyeta que correspon a aquests recursos visuals, si és que hi són.

- Tipus de pla:

TIPUS DE PLA	NÚMERO VINYETA
a) Pla General	
b) Pla Conjunt	
c) Pla sencer	
d) Pla mig	
e) Primer pla	

- Tipus d'angulació

TIPUS D'ANGULACIÓ	NÚMERO VINYETA
a) Picat	
b) Contrapicat	

I. Si has trobat algun picat en el còmic, amb quina intenció l'ha posat l'autor?

II. Si has trobat algun contrapicat en el còmic, amb quina intenció l'ha posat l'autor?

III. Amb quina intenció ha posat l'autor algun dels plans que has trobat. Especifica el número en la resposta. (Ex. El pla de la vinyeta 5 perquè...)

EA6

9
(0-5)



10.A quina d'aquestes fotos li posaries aquest títol? Posa una creu en el requadre, al costat de la lletra que correspon amb la foto.

I. MOLT INTERESSATS PER LA PARTIDA DE FUTBOLÍ.



a)



b)



c)



d)

a):
b):
c):
d):

EA 6

10-I
(0-2,5)

II. LA PISCINA ESTAVA PLENA I FEIA BON DIA



a)



b)



c)



d)

a):
b):
c):
d):

EA6

10-II
(0-2,5)

10
(0-5)

TOT EA 6

Total:
9 i 10
(0-10)

11. A l'escola s'ha decidit organitzar un concurs de fotografia. Hi ha aquestes fotos preseleccionades i tu formes part del jurat per escollir les dues guanyadores.


Quines dues creus que han de guanyar? Escriu el per què has triat aquestes dues fotos. **Esforça't a donar raons.** Has de convèncer a la resta del jurat. (Escriu, només, al costat de les dues fotos que creus que es mereixen el premi)














TOT EA7

11
(0-10)



TOTAL
QUAD
1
(0-60)

