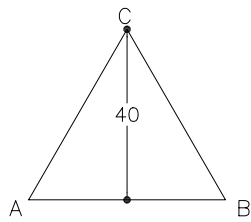
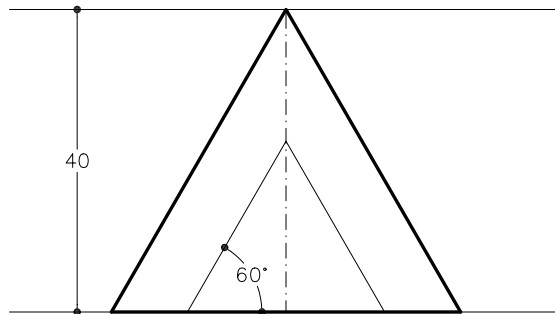


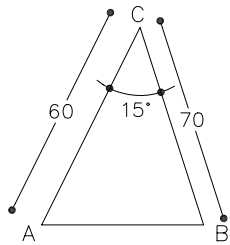
Dibuixeu un triangle equilàter coneixent-ne l'altura $h=40\text{mm}$.



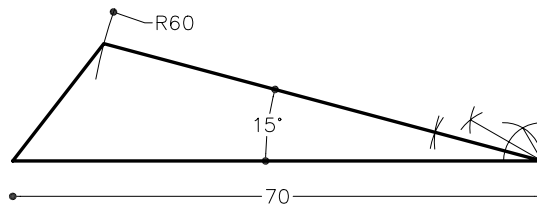
Croquis que no està dibuixat a escala



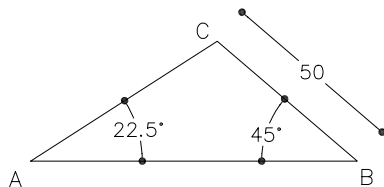
Dibuixeu un triangle coneixent-ne els costats $a=70\text{mm}$, $b=60\text{mm}$, i l'angle $C=15^\circ$.



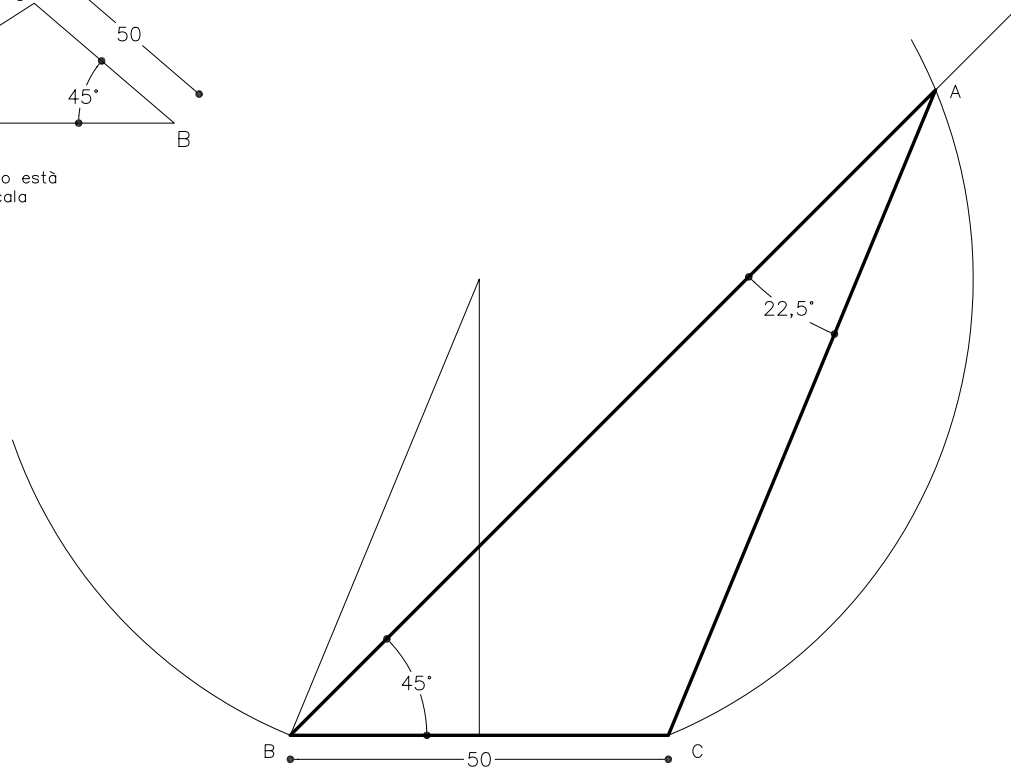
Croquis que no està dibuixat a escala



Dibuixeu un triangle coneixent-ne els angles $A=22.5^\circ$, $B=45^\circ$, i el costat $a=60\text{mm}$.



Croquis que no està dibuixat a escala



Material subjecte a una llicència CC BY-NC-SA. Es pot copiar i reutilitzar sempre que es faci sense afany de lucre i reconeixent-ne l'autora Marta Juvanteny Gorgals.

122_construccio_de_triangles_ex02