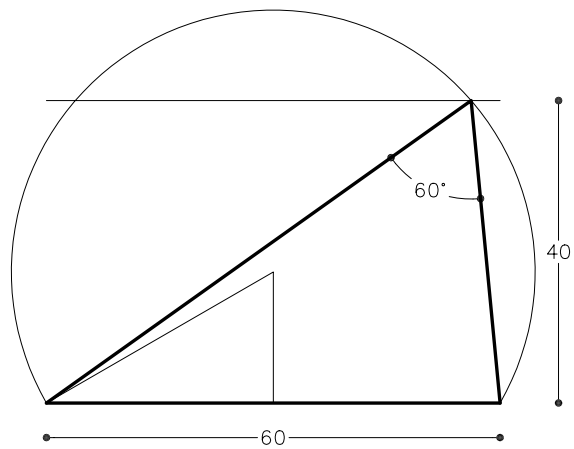
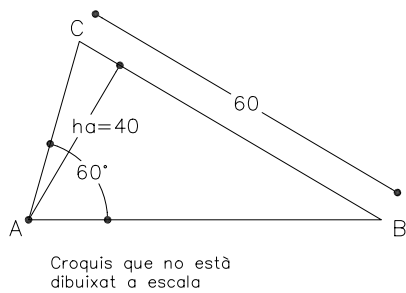
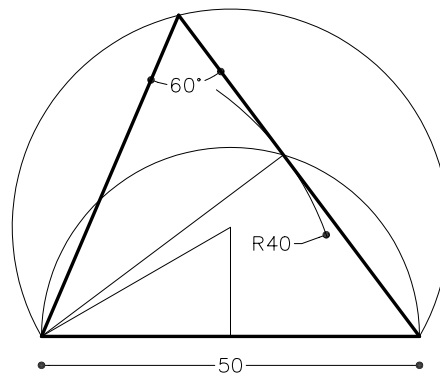
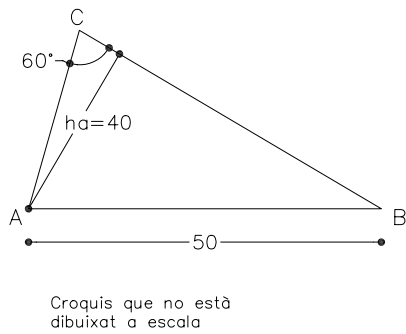


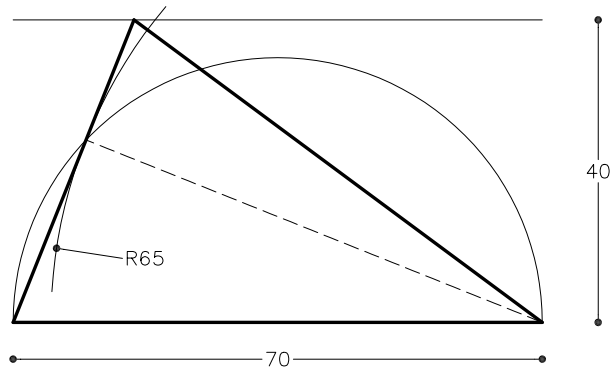
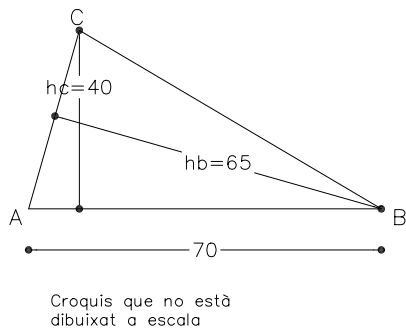
Dibuixeu un triangle coneixent-ne el costat $a=60\text{mm}$, l'altura $h_a=40\text{mm}$ i l'angle $A=60^\circ$.



Dibuixeu un triangle coneixent-ne el costat $c=50\text{mm}$, l'angle $C=60^\circ$ i l'altura $h_a=40\text{mm}$.



Dibuixeu un triangle coneixent-ne el costat $c=70\text{mm}$ i les altures $h_b=65\text{mm}$ i $h_c=40\text{mm}$.



Material subjecte a una llicència CC by-nc-sa. Es pot copiar i reutilitzar sempre que es faci sense afany de lucre i reconeixent-ne l'autora Marta Juvanteny Gorgals.