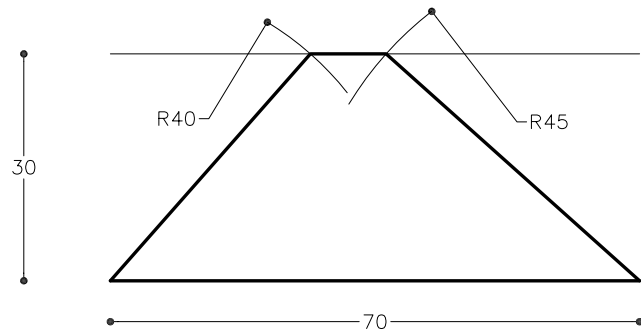
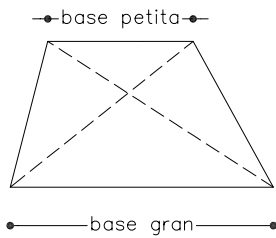
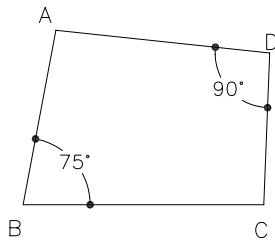


Dibuixeu un trapezi escalè coneixent-ne la base gran de 70 mm, la distància entre bases o altura de 30 mm i els costats no paral·lels de 40 mm i 45 mm.

Un trapezi escalè és un quadrilàter que té dos costats paral·lels i els seus angles i diagonals són diferents.



Dibuixeu el següent trapezoide sabent que $AB=55\text{mm}$, $BC=50\text{mm}$ i $AD=45\text{mm}$. (exercici similar proposat a les PAU del curs 1998–1999).



Un trapezoide és un quadrilàter que té tots els costats i els angles diferents.

