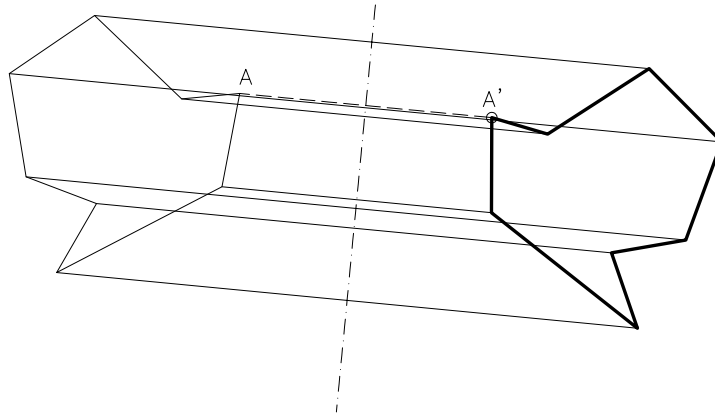
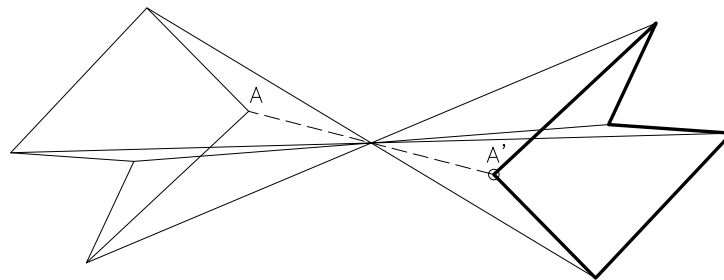


Dibuixeu una figura simètrica a la donada, considerant el dos punts A- A' de la simetria axial.



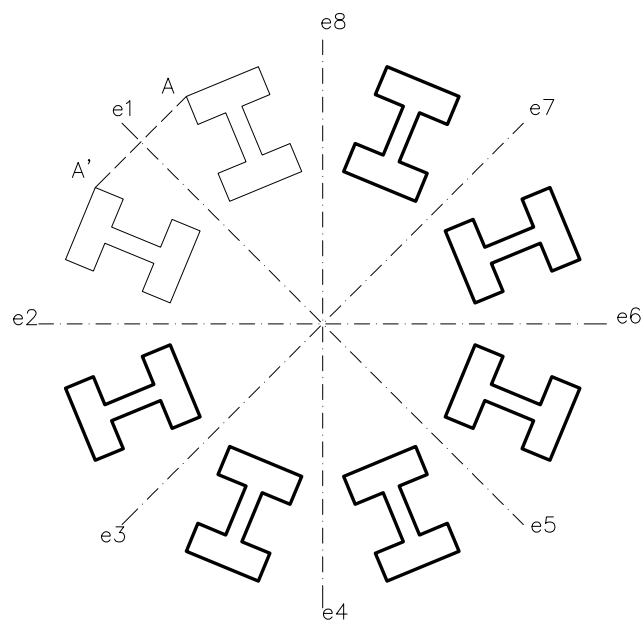
Dibuixeu una figura simètrica a la donada, considerant el dos punts A- A' de la simetria axial.

La simetria central també es pot resoldre fent un gir de 180° de la figura utilitzant el centre de simetria com a centre de gir.



Completeu la simetria radial de la figura.

La simetria radial s'obté a partir d'una simetria axial i un gir. L'eix de simetria gira un angle determinat al voltant d'un centre de gir O.



Exercicis per realitzar amb els instruments de dibuix manuals i/o amb DAO. En aquest cas s'han resolt amb les eines del DAO.