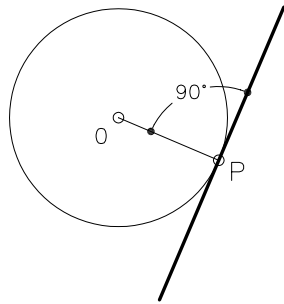
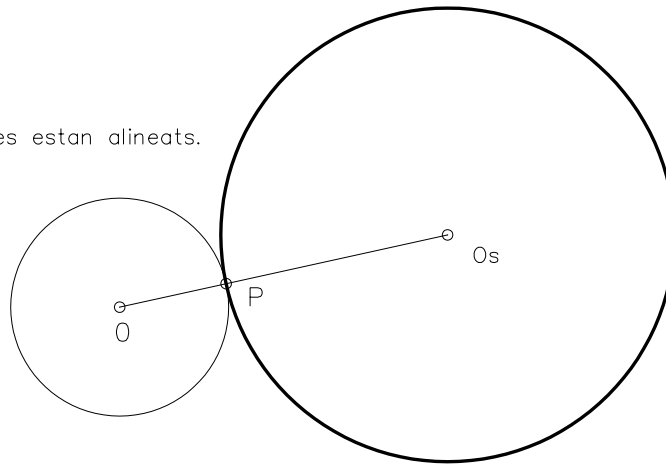


Dibuixeu la recta tangent a la circumferència donada, sabent que passa pel punt P.

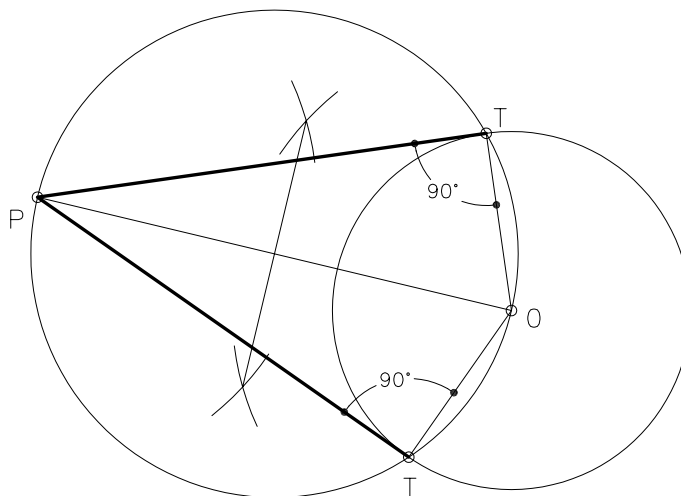


Dibuixeu una circumferència tangent a la donada que passi pel punt P, coneixent-ne el radi de 30 mm.

Els centres estan alineats.



Dibuixeu les rectes tangents a la circumferència donada i que passen pel punt P



S'han d'indicar sempre els punts de tangència.

Exercicis per realitzar amb els instruments de dibuix manuals i amb les ordres específiques del DAO.