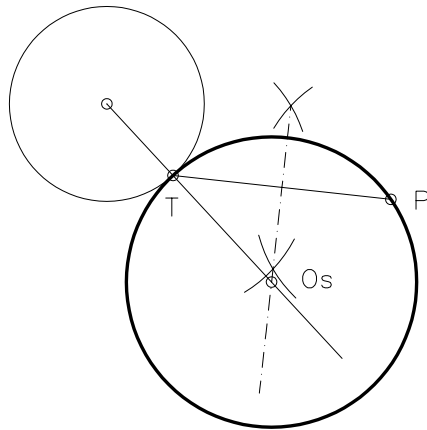
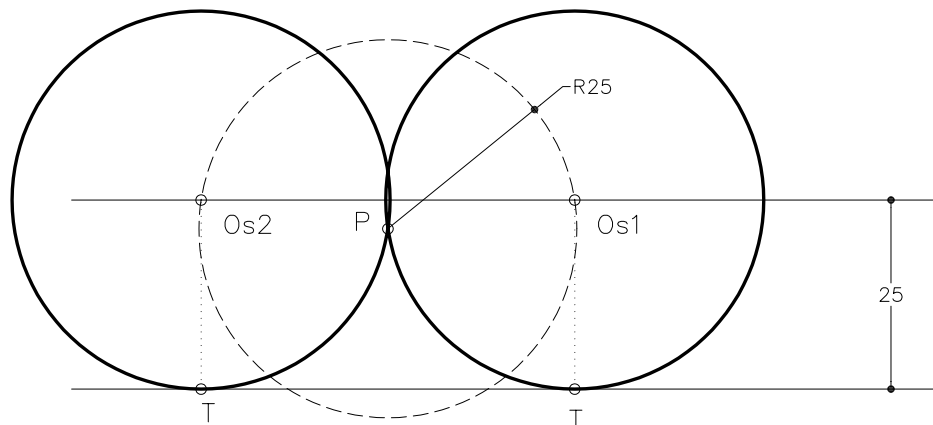


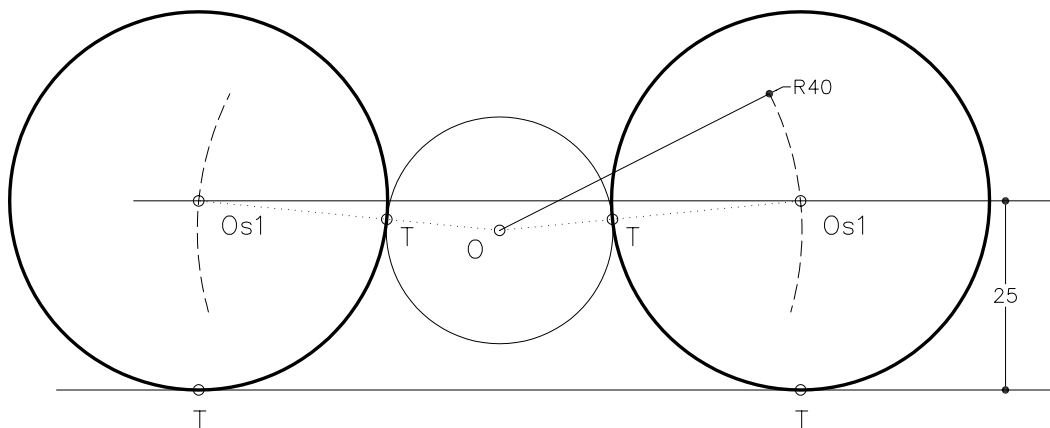
Dibuixeu la circumferència tangent a una altra de donada en un punt T sabent que passa pel punt P.



Dibuixeu les circumferències de radi 25 mm que passen pel punt P i són tangents a la recta donada.



Dibuixeu les circumferències de radi 25 mm tangents a la recta i a la circumferència donada.



S'han d'indicar sempre els punts de tangència.

Exercicis per realitzar amb els instruments de dibuix manuals i amb les ordres específiques del DAO.