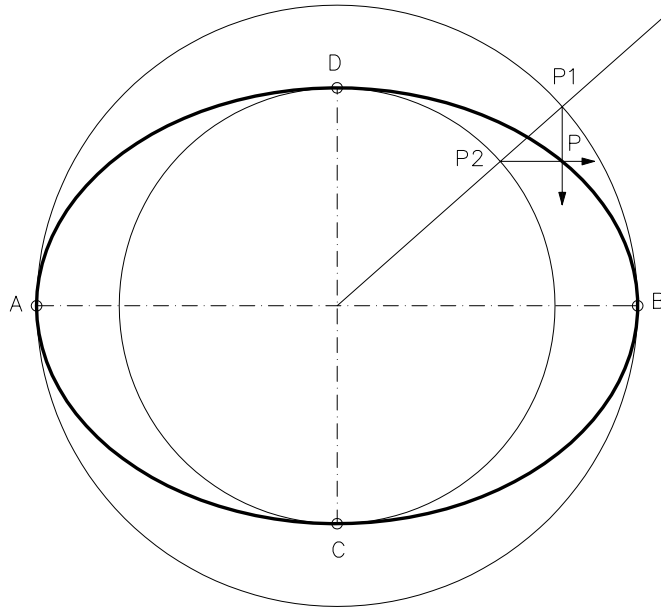
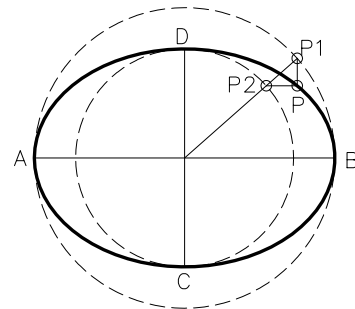
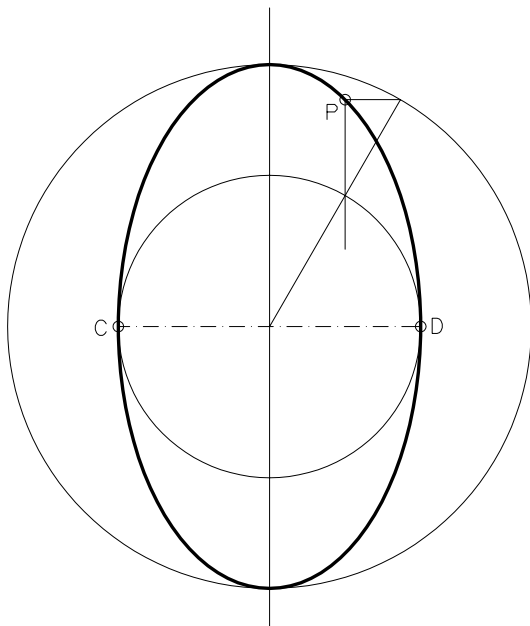


Dibuixeu l'el·lipse donats els dos eixos principals, utilitzant l'afinitat entre l'el·lipse i les circumferències principals.



Cal trobar 3 punts intermitjos en un quart d'el·lipse, els altres són simètrics.

Dibuixeu l'el·lipse coneixent l'eix menor i un punt de l'el·lipse.



La resolució es base en la afinitat per trobar :
-la circumferència principal menor -P2 i P1
-la circumferència principal major
-l'eix major

Material subjecte a una llicència CC BY-NC-SA. Es pot copiar i reutilitzar sempre que es faci sense afany de lucre i reconeixent-ne l'autora Marta Juvanteny Gorgals.

164_ellipses_ex02