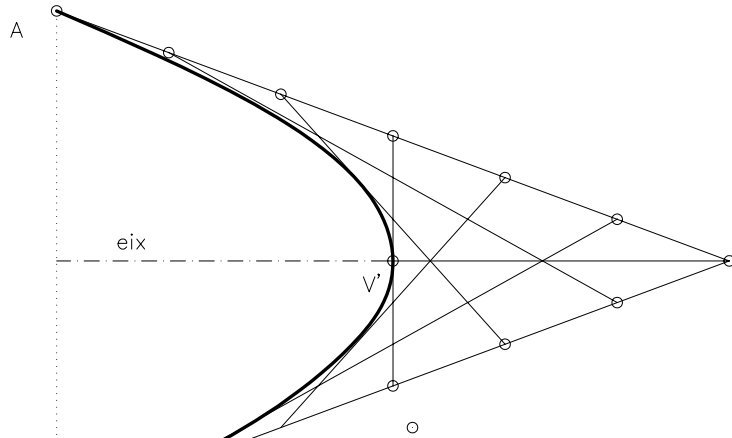
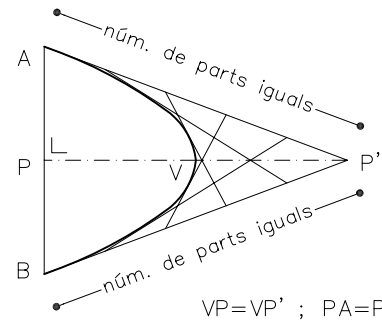


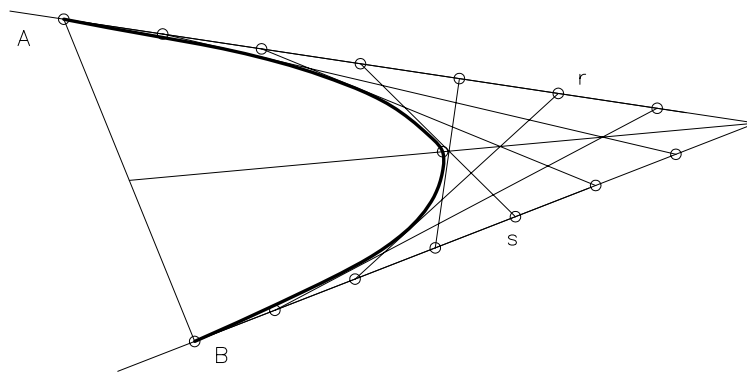
Dibuixeu la paràbola que passa per A i B i té el vèrtex V, utilitzant rectes tangents a la paràbola.
Exercicis per realitzar amb els instruments de dibuix manual.



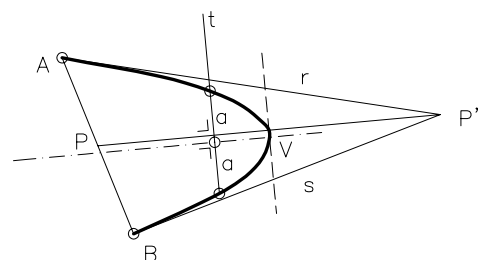
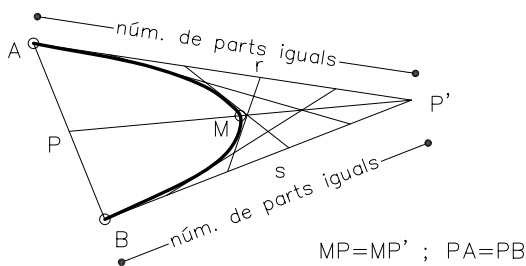
Mètode per dibuixar paràboles a partir de la intersecció de rectes tangents, coneixent el vèrtex, l'eix i un punt A de la paràbola.



Dibuixeu la paràbola que passa per A i B i és tangent a les rectes r i s.



Mètode per dibuixar paràboles a partir de la intersecció de rectes tangents, coneixent dos punts i les rectes tangents r i s.



Determinació del vèrtex i l'eix a partir d'una secant qualsevol t

Material subjecte a una llicència CC by-nc-sa. Es pot copiar i reutilitzar sempre que es faci sense afany de lucre i reconeixent-ne l'autora Marta Juvanteny Gorgals.

165_paraboles_ex02