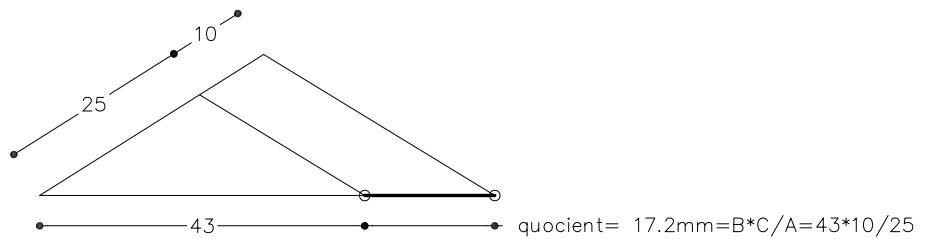
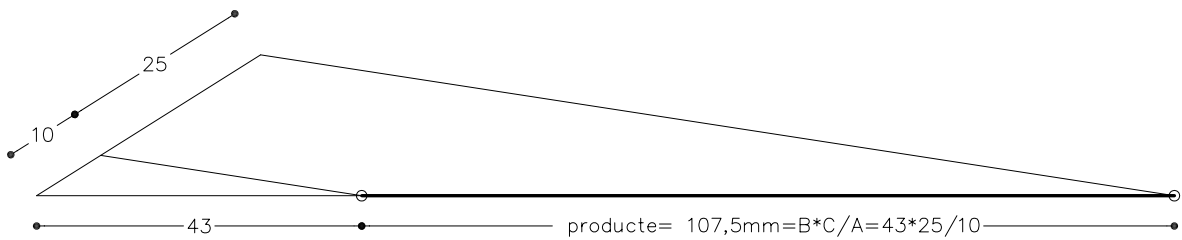
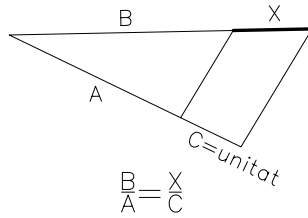
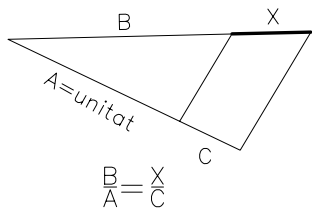
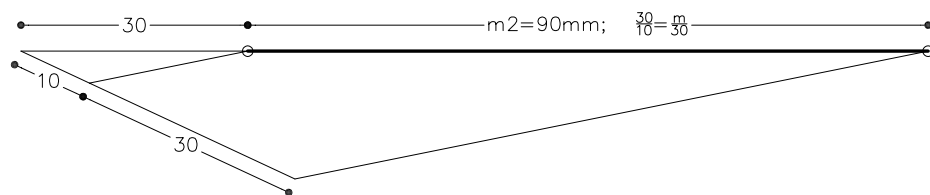
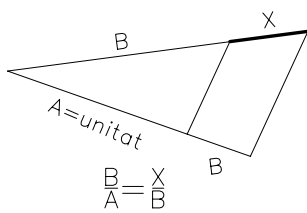


Determineu gràficament el producte i el quocient dels segments de 43 mm i 25 mm.



Determineu gràficament el segment  $m^2$  a partir d'un segment de 30 mm.



Material subjecte a una llicència CC BY-NC-SA. Es pot copiar i reutilitzar sempre que es faci sense afany de lucre i reconeixent-ne l'autora Marta Juvanteny Gorgals.

211\_segments\_ex04