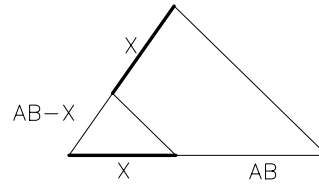
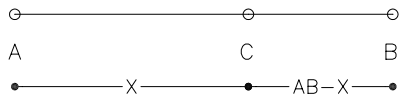


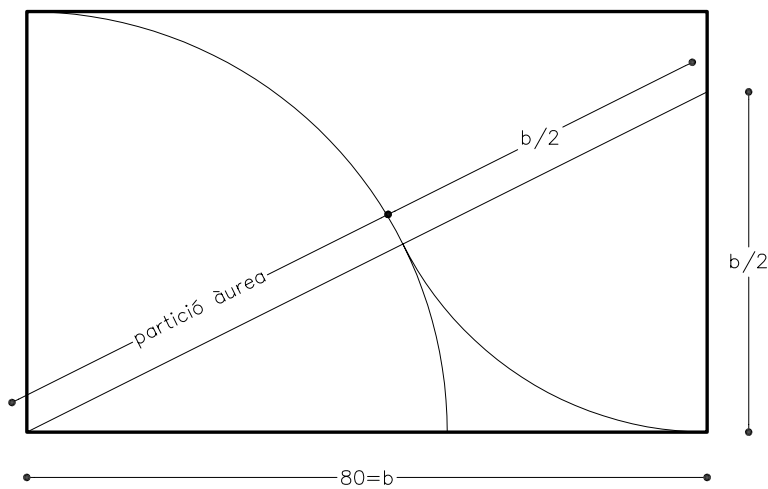
Determineu gràficament un rectangle auri coneixent-ne el costat més gran de 90 mm.

La secció àuria d'un segment AB és aquella porció AC que és mitjana proporcional entre la part menor i el total AB

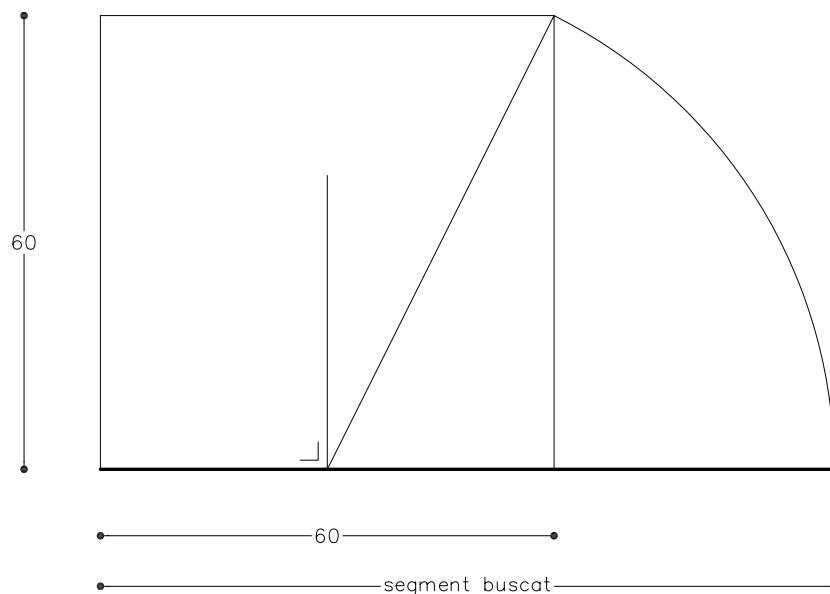


$$\frac{AB}{X} = \frac{X}{AB-X}$$

Un rectangle auri és el que el seu costat menor és la partició àuria del més gran.



Determineu gràficament el segment que té un altre segment de 60 mm com a partició àuria.



Material subjecte a una llicència CC by-nc-sa. Es pot copiar i reutilitzar sempre que es faci sense afany de lucre i reconeixent-ne l'autora Marta Juventeny Gorgals.

212_seccio_auria_ex01