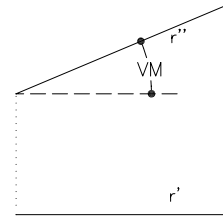
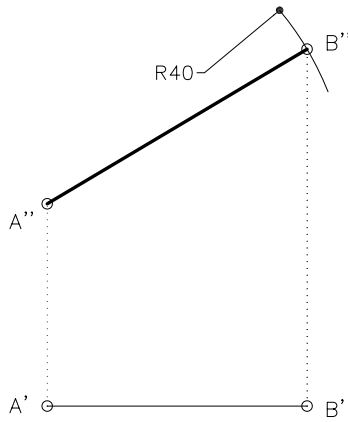
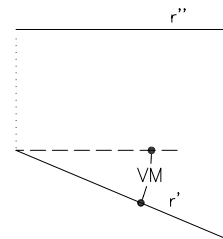
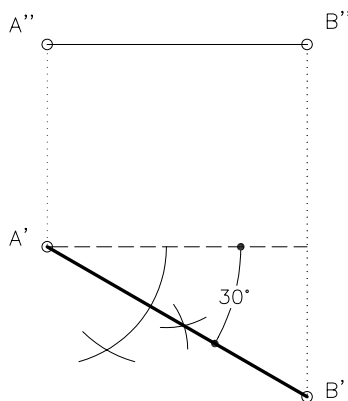


Trobeu la projecció vertical del punt B que està situat en una cota superior a A, sabent que la distància entre els punts A i B és de 40 mm.



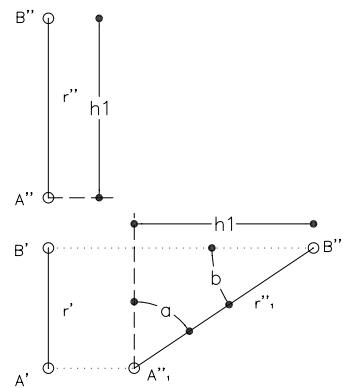
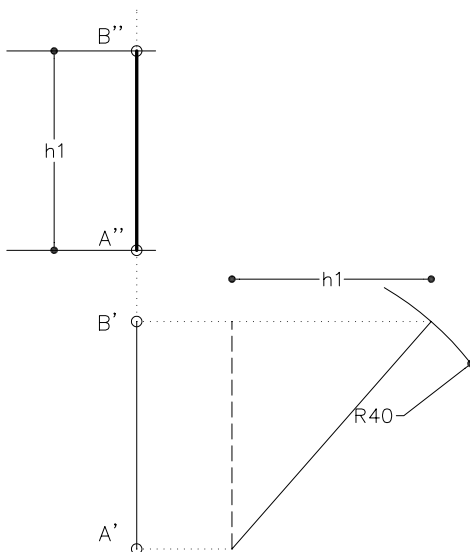
En rectes frontals, la projecció vertical mostra la veritable magnitud de la recta i l'angle que forma amb el pla horitzontal de projecció.

Trobeu la projecció horitzontal del punt B que està situat més a prop que A, sabent que forma un angle de 30° amb el pla vertical de projecció.



En rectes horitzontals, la projecció horitzontal mostra la veritable magnitud de la recta i l'angle que forma amb el pla vertical de projecció.

Trobeu la projecció vertical del punt B sabent que el segment AB medeix 50 mm i el punt A és el que té la cota més baixa.



En rectes de perfil, la projecció sobre un pla de perfil mostra la veritable magnitud de la recta i de l'angle que forma amb el pla horitzontal i vertical de projecció.