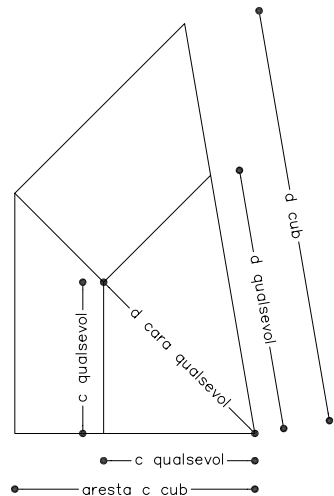
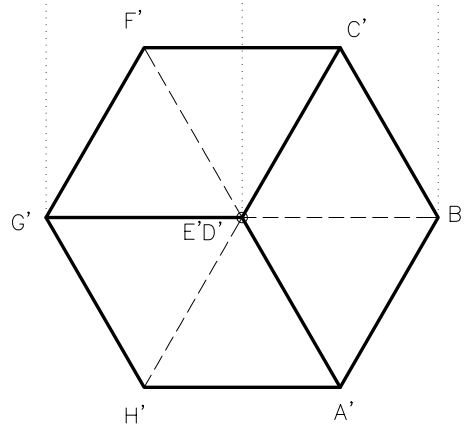
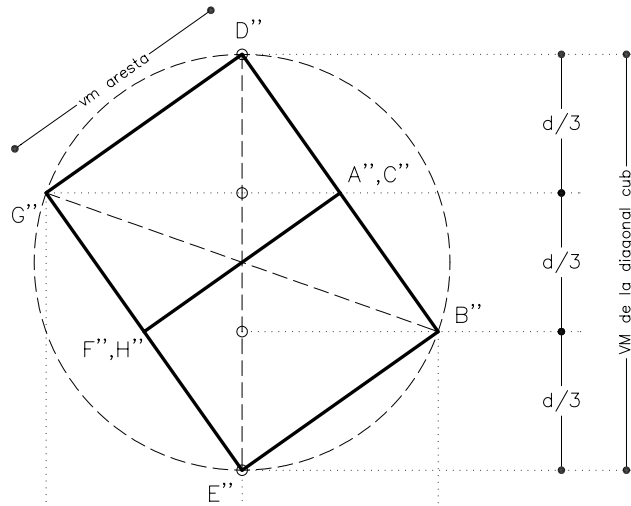


Dibuixeu la projecció vertical del cub coneixent-ne la seva projecció horitzontal i una de les diagonals perpendicular al pla horitzontal de projecció. Diferencieu les parts vistes i les ocultes.

La diagonal BG  
 està en VM en  
 projecció vertical



Material subjecte a una llicència CC by-nc-sa. Es pot copiar i reutilitzar sempre que es faci sense afany de lucre i reconeixent-ne l'autora Marta Juvanteny Gorgals.

456\_cubs\_ex05