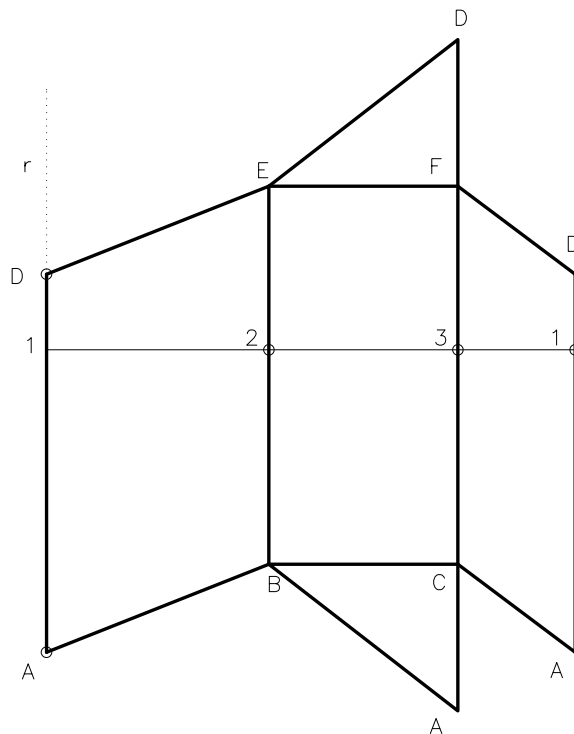
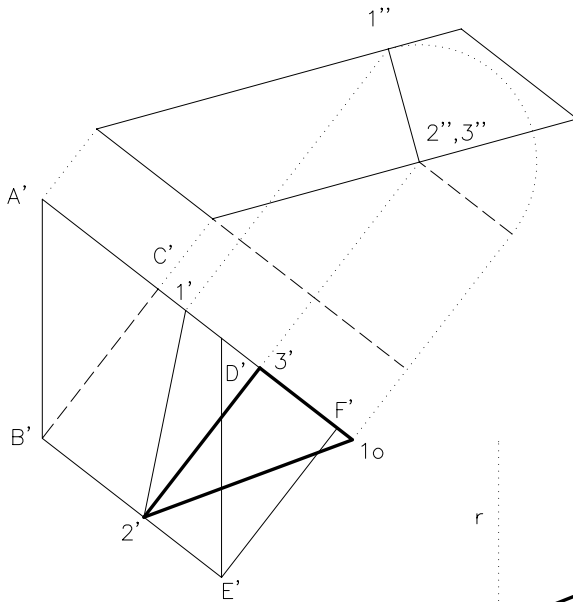
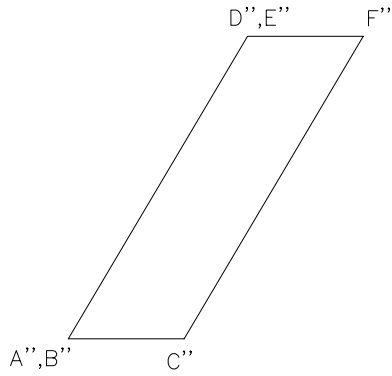


Dibuixeu el desenvolupament complet del prisma de bases ABC i DEF, obrint per l'aresta AD i situant-la sobre la semirecta r a partir del punt A, corresponent al punt A del prisma. Seguiu l'ordre alfabètic i disposeu les cares a la dreta de r. Dibuixeu les bases juxtaposades a la cara del costat BC (exercici similar proposat a les PAU del curs 2004–2005).



Material subjecte a una llicència CC BY-NC-SA. Es pot copiar i reutilitzar sempre que es faci sense afany de lucre i reconeixent-ne l'autora Marta Juvanteny Gorgals.

482_prismes_ex02