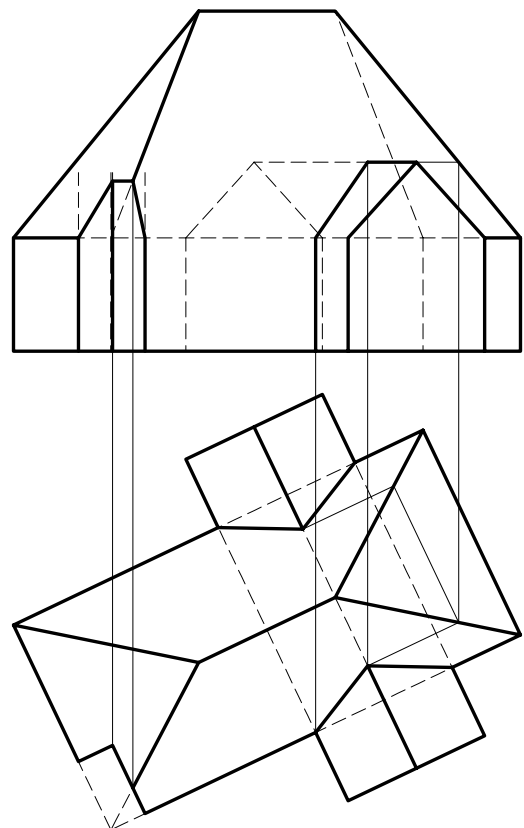
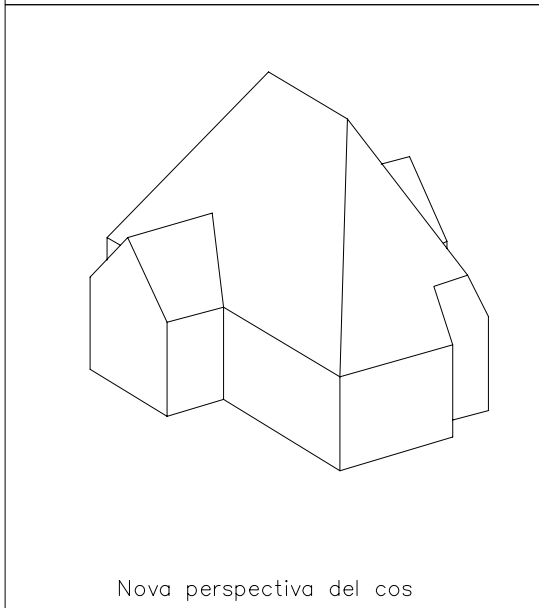
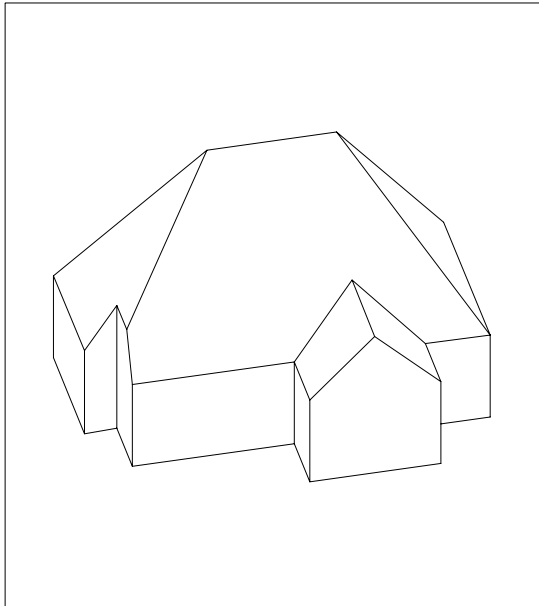


Dibuixeu les projeccions dièdriques del cos que s'obté de la intersecció dels diferents cossos, tal com mostra la perspectiva axonomètrica. Determineu les interseccions en les dues projeccions, assenyalant únicament les parts vistes. Construïu el sòlid resultant en tres dimensions amb DAO i col·loqueu una altra perspectiva volumètricament comprensible del cos, en l'espai lliure del paper a cap escala específica concretant únicament les línies vistes.



Material subjecte a una llicència CC by-nc-sa. Es pot copiar i reutilitzar sempre que es faci sense afany de lucre i reconeixent-ne l'autora Marta Juvanteny Gorgals.

491\_interseccions\_ex03