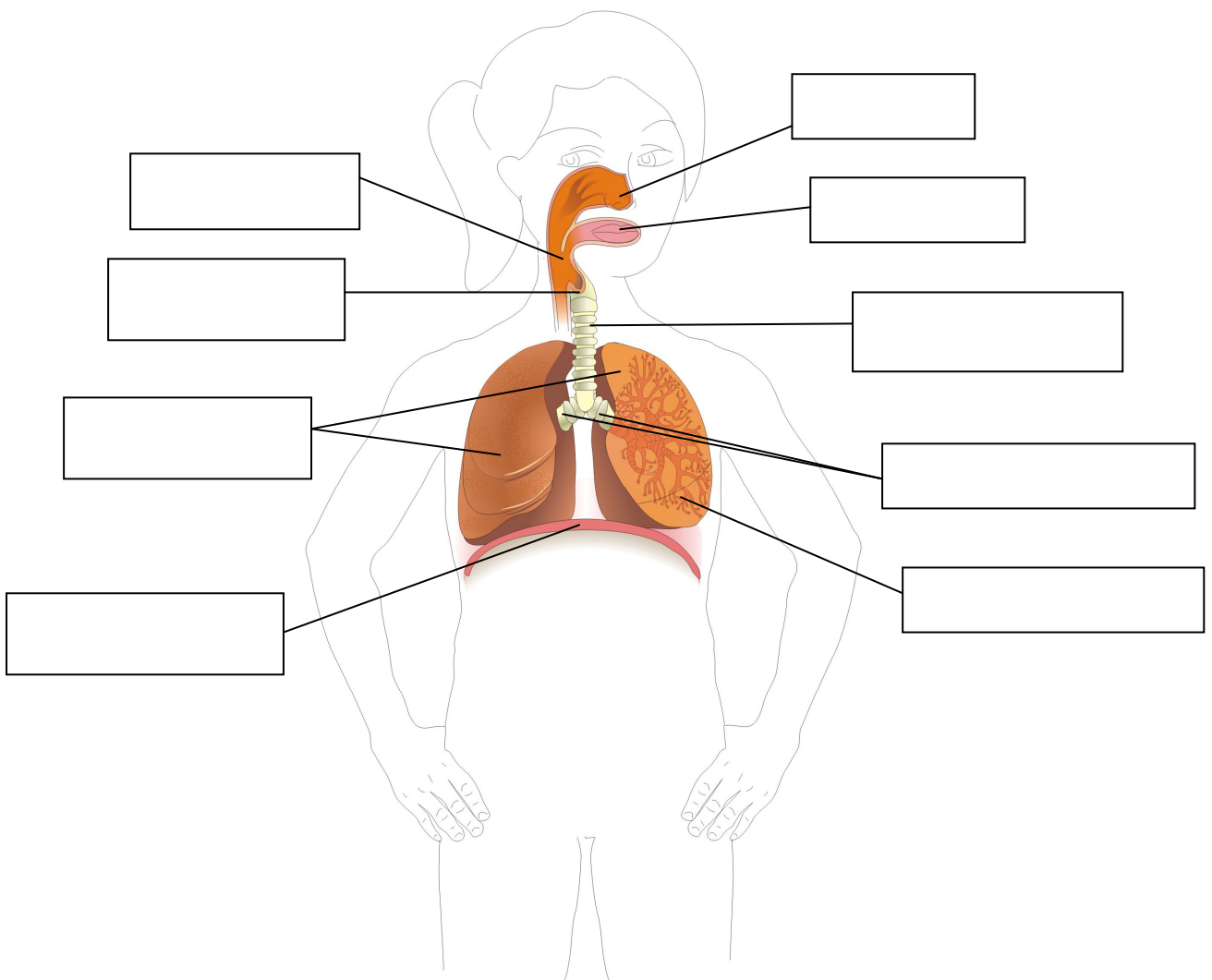


# Avaluació Tema 4 L'aparell respiratori


Nom .....

Data ..... 3r curs

1- Escriu el nom dels òrgans



2- Escriu el camí que fa l'aire



N\_ / b\_c\_, f\_\_\_\_\_e, l\_ \_i\_g\_  
tr\_\_\_\_\_a, b\_\_\_\_qu\_\_\_\_, pu\_\_\_\_\_.

3- Completa amb


Agafem \_\_\_\_\_, deixem anar \_\_\_\_\_, oxigen

El cos necessita \_\_\_\_\_.


En la inspiració \_\_\_\_\_ aire.

En l'expiració \_\_\_\_\_ l'aire.

4- Dibuixa



El nas



la boca



Els bronquis



els pulmons