

Nom

Data

4rt curs

Avaluació

Tema 7

Les màquines

1-Dibuixa:


| Una palanca | Una politja |
|-------------|-------------|
| | |

2-Completa

Potencia

resistència

fulcre



3-Dibuixa objectes que facin servir:

| politjes | |
|----------|--|
| | |



| rodes | |
|-------|--|
| | |

| palanques | |
|-----------|--|
| | |

4- Completa: té motor



no té motor



El martell



El cotxe



La bicicleta.....



La rentadora