

Heu d'intentar resoldre els cinc exercicis primers i triar-ne un entre els dos últims.

1. Simplifiqueu i racionalitzeu quan calgui de manera que en els resultats no apareguin decimals ni exponents negatius ni fraccionaris:

$$a) \frac{\sqrt[4]{x^2} \sqrt[6]{x} \sqrt{xy}}{\sqrt[3]{xy^2}} \qquad b) \frac{\sqrt{50} + \sqrt{2}}{\sqrt{8}} - \frac{4}{\sqrt{2}}.$$

$$a) \frac{\sqrt[4]{x^2} \sqrt[6]{x} \sqrt{xy}}{\sqrt[3]{xy^2}} = x^{\frac{1}{2} + \frac{1}{6} + \frac{1}{2} - \frac{1}{3}} \cdot y^{\frac{1}{2} - \frac{2}{3}} = x^{\frac{3+1+3-2}{6}} \cdot y^{\frac{3-4}{6}} = \frac{x^{\frac{5}{6}}}{y^{\frac{1}{6}}} = \frac{\sqrt[6]{x^5 y^5}}{\sqrt[6]{y y^5}} = \boxed{\frac{\sqrt[6]{x^5 y^5}}{y}}.$$

$$b) \frac{\sqrt{50} + \sqrt{2}}{\sqrt{8}} - \frac{4}{\sqrt{2}} = \frac{5\sqrt{2} + \sqrt{2}}{2\sqrt{2}} - \frac{4\sqrt{2}}{2} = \frac{6\sqrt{2}}{2\sqrt{2}} - 2\sqrt{2} = \boxed{3 - 2\sqrt{2}}.$$

2. Resoleu l'equació: $\frac{6}{x^2 - 1} - \frac{9}{x^2 + 2x + 1} = 1$.

$$\begin{aligned} \frac{6}{x^2 - 1} - \frac{9}{x^2 + 2x + 1} = 1 &\stackrel{(*)}{\implies} 6(x + 1) - 9(x - 1) = (x - 1)(x + 1)^2 \\ &\implies -3x + 15 = x^3 + x^2 - x - 1 \implies x^3 + x^2 + 2x - 16 = 0 \end{aligned}$$

(*) Tenim en compte que $\text{m.c.m.}(x^2 - 1, x^2 + 2x + 1) = (x - 1)(x + 1)^2$.

Apliquem la regla de Ruffini per resoldre l'equació,

$$\begin{array}{r|rrrr} & 1 & 1 & 2 & -16 \\ 2 & & 2 & 6 & 16 \\ \hline & 1 & 3 & 8 & 0 \end{array}$$

L'única arrel és $x = 2$, perquè el polinomi $x^2 + 3x + 8$ no en té en ser el seu discriminat $3^2 - 4 \cdot 8 \cdot 1 = -23 < 0$.

3. Sigui el polinomi $p(x) = x^4 - 12x^3 + 36x^2$. Trobeu els valors de la x tals que $p(x) > 0$, amb l'ajut dels gràfics de rectes i/o paràboles.

En ser x^2 un factor comú, obtenim la primera descomposició:

$$p(x) = x^4 - 12x^3 + 36x^2 = x^2(x^2 - 12x + 36).$$

Cerquem les arrels del segon factor:

$$\begin{aligned} x^2 - 12x + 36 = 0 &\implies x = \frac{6 \pm \sqrt{36 - 36}}{1} = \frac{6 \pm 0}{1} = \begin{cases} 6 \\ 6 \end{cases} \\ &\implies x^2 - 12x + 36 = (x - 6)^2 \end{aligned}$$

Per tant, la descomposició definitiva és $p(x) = x^2(x - 6)^2$. Representem l'esquema gràfic dels factors i n'estudiem els signes:

Gràfic dels factors			
Signe dels factors	+•+	+•+	+•+
Signe de p(x)	⊕	⊕	⊕

Per tant, $p(x) > 0 \iff x \in \mathbb{R} - \{0, 6\}$.

4. Trobeu el coeficient numèric del terme de grau 14 del desenvolupament del binomi

$$(2\sqrt{x} - x)^{16}.$$

Anomenem T_k el terme que ocupa el lloc k . Llavors,

$$T_k = \binom{16}{k-1} (2\sqrt{x})^{17-k} (-x)^{k-1} = \binom{16}{k-1} 2^{17-k} (-1)^{k-1} x^{\frac{1}{2}(17-k)+k-1}$$

Imposem que el grau sigui igual a 14:

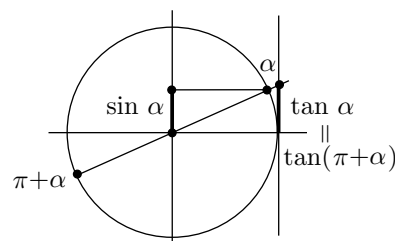
$$\frac{1}{2}(17-k) + k - 1 = 14 \iff 17 - k + 2k - 2 = 28 \iff k = 13.$$

Per tant,

$$\text{Coeficient de } T_{13} = \binom{16}{12} 2^4 (-1)^{12} = \binom{16}{4} 16 = \frac{16 \cdot 15 \cdot 14 \cdot 13}{4 \cdot 3 \cdot 2} \cdot 16 = \boxed{29120}.$$

5. Considereu $0 < \alpha < \frac{\pi}{2}$ tal que $\sin \alpha = \frac{2}{5}$. Trobeu sense calculadora el valor exacte de $\tan(\pi + \alpha)$, amb l'ajut de la circumferència trigonomètrica.

A partir de la figura adjunta obtenim



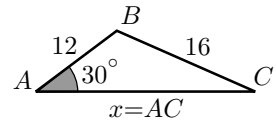
$$\tan(\pi + \alpha) = \tan \alpha = \frac{\sin \alpha}{\cos \alpha} = \frac{\frac{2}{5}}{+\sqrt{1 - \left(\frac{2}{5}\right)^2}} = \frac{\frac{2}{5}}{\sqrt{\frac{21}{25}}} = \frac{2}{\sqrt{21}} = \frac{2\sqrt{21}}{21}.$$

6. Des d'un punt A es veuen dos punts B i C sota un angle de 30° . La distància entre A i B és de 12 km, i la distància entre B i C és de 16 km.

- Trobeu la distància entre A i C .
- Demostreu el teorema utilitzat.

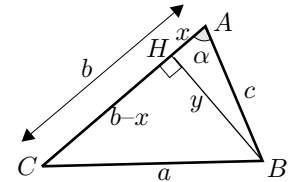
a) Apliquem el teorema del cosinus al triangle $\triangle ABC$ de la figura

$$\begin{aligned}
16 &= \sqrt{12^2 + x^2 - 2 \cdot 12 \cdot x \cdot \cos 30^\circ} \\
\iff 256 &= 144 + x^2 - 12\sqrt{3}x \iff x^2 - 12\sqrt{3}x - 112 = 0 \\
\iff x &= \frac{6\sqrt{3} \pm \sqrt{108 + 112}}{1} = \frac{6\sqrt{3} \pm \sqrt{220}}{1} = \begin{cases} 6\sqrt{3} + 2\sqrt{55} \\ 6\sqrt{3} - 2\sqrt{55} \end{cases}
\end{aligned}$$



La distància és de $\boxed{6\sqrt{3} + 2\sqrt{55} \approx 25.2247 \text{ km}}$.

b) Considerem el triangle ABC amb un angle $\alpha = \widehat{BAC}$ agut. En traçar l'altura des de B , obtenim des dels triangles rectangles ABH i CBH ,



$$c^2 = x^2 + y^2, \quad a^2 = (b-x)^2 + y^2, \quad \cos \alpha = \frac{x}{c}.$$

Llavors,

$$a^2 = b^2 - 2bx + x^2 + y^2 = b^2 - 2bx + c^2 = b^2 + c^2 - 2bc \cos \alpha.$$

7. Resoleu les qüestions següents:

a) Demostreu que

$$\cos(3x) = \cos^3 x - 3\sin^2 x \cos x.$$

Indicació: Pot ser útil escriure $\cos(3x) = \cos(2x + x)$.

b) Trobeu els valors de x , —en graus, minuts i segons—, tals que

$$\cos(3x) - \sin(2x) = 0.$$

Indicació: Podeu utilitzar l'apartat anterior.

a) Utilitzem les fórmules del cosinus de la suma i del sinus i cosinus de l'angle doble.

$$\begin{aligned}
\cos(3x) &= \cos(2x + x) = \cos(2x) \cos x - \sin(2x) \sin x \\
&= (\cos^2 x - \sin^2 x) \cos x - 2 \sin x \cos x \sin x = \cos^3 x - \sin^2 x \cos x - 2 \sin^2 x \cos x \\
&= \cos^3 x - 3 \sin^2 x \cos x.
\end{aligned}$$

b) Utilitzem la identitat de l'apartat anterior.

$$\begin{aligned}
\cos(3x) - \sin(2x) = 0 &\iff \cos^3 x - 3 \sin^2 x \cos x - 2 \sin x \cos x = 0 \\
&\iff \cos x (\cos^2 x - 3 \sin^2 x - 2 \sin x) = 0 \\
&\iff \cos x (-4 \sin^2 x - 2 \sin x + 1) = 0
\end{aligned}$$

$$\iff \begin{cases} \cos x = 0 \\ \sin x = \frac{1 \pm \sqrt{5}}{-4} \end{cases} \iff$$

$$\begin{aligned}
&x = 90^\circ + n \cdot 180^\circ \\
&x = -54^\circ + n \cdot 360^\circ \\
&x = 234^\circ + n \cdot 360^\circ \\
&x = 18^\circ + n \cdot 360^\circ \\
&x = 162^\circ + n \cdot 360^\circ
\end{aligned}$$