

1. Considereu els punts $A(1, 1)$, $B(2, 3)$ i $C(4, 3)$. Trobeu:
- L'equació explícita de la recta que passa per C i és paral·lela a la recta que conté A i B .
 - La distància de C a la recta r que conté A i B .
 - L'angle \widehat{CAB} .
 - L'equació i la descripció del lloc geomètric dels punts P tals que

$$d(P, A) = d(P, s), \quad \text{en què } s \text{ és la recta que passa per } B \text{ i } C.$$
 - El centre i el radi de la circumferència que passa per A , B i C .

a) En ser $\overrightarrow{AB} = (2 - 1, 3 - 1) = (1, 2)$, l'equació punt-pendent és:

$$y - 3 = \frac{2}{1}(x - 4), \quad \text{d'on obtenim l'explícita } \boxed{y = 2x - 5}.$$

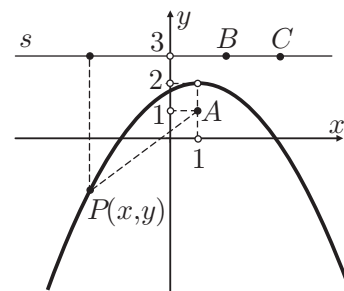
b) La recta r té l'equació contínua $\frac{x - 1}{2 - 1} = \frac{y - 1}{3 - 1}$, d'on s'obté la implícita $2x - y - 1 = 0$.

Llavors, $d(C, r) = \frac{|2 \cdot 4 - 3 - 1|}{\sqrt{2^2 + (-1)^2}} = \frac{4}{\sqrt{5}}.$

c) $\widehat{CAB} = \arccos \left| \frac{\overrightarrow{CA} \cdot \overrightarrow{CB}}{|\overrightarrow{CA}| \cdot |\overrightarrow{CB}|} \right| = \arccos \left| \frac{(3, 2) \cdot (1, 2)}{|(3, 2)| \cdot |(1, 2)|} \right| = \arccos \frac{7}{\sqrt{65}} = \boxed{29^\circ 44' 41.57''}.$

d) L'equació de la recta s que conté B i C és $y = 3$. Llavors, els punts $P(x, y)$ que pertanyen al lloc han de satisfer

$$\begin{aligned} d(P, A) = d(P, s) &\iff \sqrt{(x - 1)^2 + (y - 1)^2} = |y - 3| \\ &\iff x^2 - 2x + 1 + y^2 - 2y + 1 = y^2 - 6y + 9 \\ &\iff -4y = x^2 - 2x - 7 \iff \boxed{y = -\frac{1}{4}x^2 + \frac{1}{2}x + \frac{7}{4}}. \end{aligned}$$



Descripció del lloc:

$\boxed{\text{paràbola de focus } A(1, 1), \text{ directriu } s : y = 3 \text{ i vèrtex } V(1, 2)}$.

e) Buscarem les mediatrises de AB i BC . La seva intersecció serà el centre i la distància d'aquest a qualsevol dels tres punts serà el radi.

Mediatriu de AB : Punt mitjà de $AB = (\frac{1+2}{2}, \frac{1+3}{2}) = (3/2, 2)$.

$\overrightarrow{AB} = (2 - 1, 3 - 1) = (1, 2)$. Per tant, l'equació és

$$(1, 2) \cdot (x - 3/2, y - 2) = 0 \iff x - 3/2 + 2y - 4 = 0 \iff 2x + 4y - 11 = 0.$$

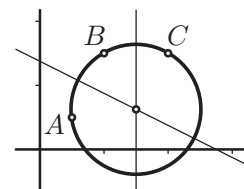
Mediatriu de BC : Punt mitjà de $BC = (\frac{2+4}{2}, \frac{3+3}{2}) = (3, 3)$.

$\overrightarrow{BC} = (4 - 2, 3 - 3) = (2, 0)$. Per tant, l'equació és

$$(2, 0) \cdot (x - 3, y - 3) = 0 \iff 2(x - 3) = 0 \iff x = 3.$$

Centre (intersecció de les dues mediatrises): $x = 3 \implies y = \frac{-2 \cdot 3 + 11}{4} = \frac{5}{4} \implies \boxed{\left(3, \frac{5}{4}\right)}$.

Radi: $d\left(\left(3, \frac{5}{4}\right), (1, 1)\right) = \sqrt{(3 - 1)^2 + \left(\frac{5}{4} - 1\right)^2} = \sqrt{4 + (1/16)} = \boxed{\sqrt{65}/4}.$

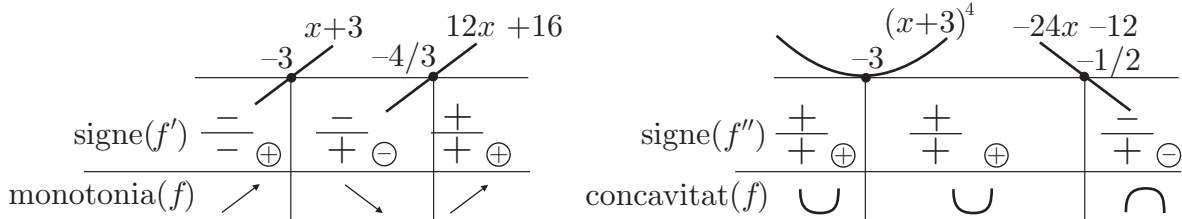


2. Considereu la funció $f(x)$ i les seves derivades:

$$f(x) = \frac{2x^2 - 8}{(x + 3)^2}, \quad f'(x) = \frac{12x + 16}{(x + 3)^3}, \quad f''(x) = \frac{-24x - 12}{(x + 3)^4}.$$

- Estudieu el signe de $f'(x)$ i la monotonia i els extrems de $f(x)$.
- Estudieu el signe de $f''(x)$ i la concavitat i els punts d'inflexió de $f(x)$.
- Trobeu les asímptotes horitzontal i verticals de $f(x)$ mitjançant el càlcul de límits.
- Representeu $f(x)$ gràficament a partir de la informació recollida en els apartats anteriors i els talls amb els eixos.

a) i b) En els esquemes adjunts s'estudia gràficament el signe de cadascun dels factors implicats en les derivades i el resultat final després d'operar-los.

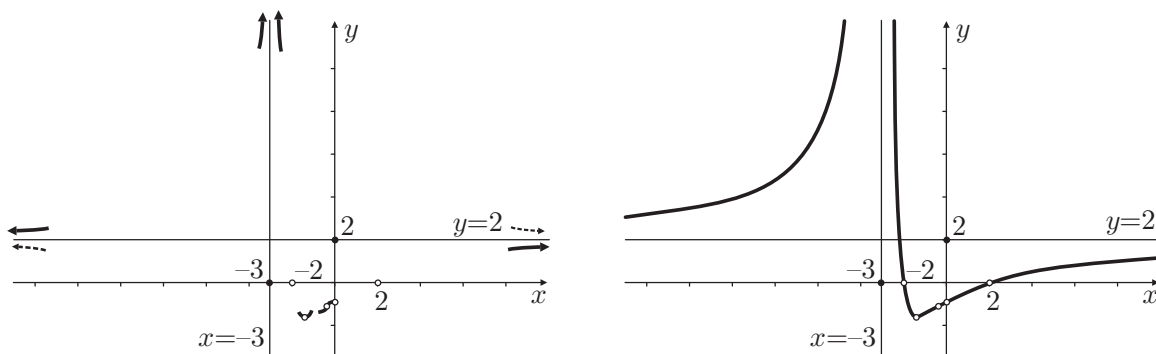


- f monòtona creixent en $(-\infty, -3) \cup (-4/3, +\infty)$.
- f monòtona decreixent en $(-3, -4/3)$.
- En ser $f'(-4/3) = 0$ i canviar la monotonia, f té un mínim local en $x = -4/3$ i el seu valor és $f(-4/3) = -1.6$.
- f còncava amunt en $(-\infty, -3) \cup (-3, -1/2)$.
- f còncava avall en $(-1/2, +\infty)$.
- En ser $f''(-1/2) = 0$ i canviar la concavitat, f té un punt d'inflexió en $x = -1/2$ i el seu valor és $f(-1/2) = -1.2$.

c) Asímtota hor.: $\lim_{x \rightarrow \pm\infty} f(x) = \left(\frac{+\infty}{+\infty} \right) = \lim_{x \rightarrow \pm\infty} \frac{2 - \frac{8}{x^2}}{\left(1 + \frac{3}{x}\right)^2} = \frac{2 - 0}{(1 + 0)^2} = 2 \Rightarrow \boxed{y = 2}$.

Asímtota vert.: $\lim_{x \rightarrow -3} f(x) = \frac{18 - 8}{(-3 + 3)^2} = \frac{10}{0^+} = +\infty \Rightarrow \boxed{x = -3}$.

d) En calcular $f(0)$ i $f(x) = 0$, resulten els talls $(0, -8/9)$, $(-2, 0)$ i $(2, 0)$.



3. Considereu les funcions $f(x) = \frac{1}{x-1}$ i $g(x) = \arctan x$. Trobeu,

- La funció derivada $f'(x)$ mitjançant la definició en llenguatge de límits.
- La funció derivada $f'(x)$ mitjançant els teoremes de càlcul de derivades.
- El tipus de discontinuïtat que $f(x)$ presenta en $x = 1$, raonadament.
- L'equació de la recta tangent al gràfic de $f(x)$ en el punt d'abscissa $x = 3$ i representeu gràficament la funció $f(x)$ i aquesta recta tangent.
- La funció derivada de $(g \circ f)(x)$.
- La funció derivada $g'(x)$ a partir de la derivada de la funció $h(x) = \tan x$.

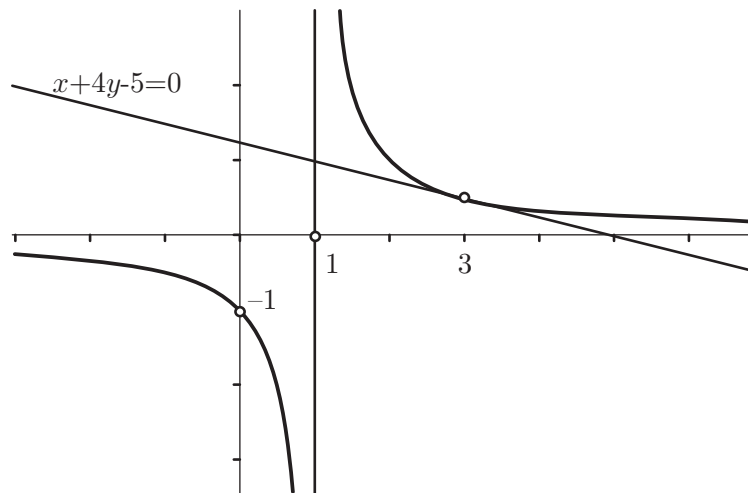
$$\begin{aligned} \text{a) } f'(x) &= \lim_{h \rightarrow 0} \frac{f(x+h) - f(x)}{h} = \lim_{h \rightarrow 0} \frac{\frac{1}{x+h-1} - \frac{1}{x-1}}{h} = \lim_{h \rightarrow 0} \frac{x-1 - x-h+1}{h(x+h-1)(x-1)} \\ &= \lim_{h \rightarrow 0} \frac{-h}{h(x+h-1)(x-1)} = \lim_{h \rightarrow 0} \frac{-1}{(x+h-1)(x-1)} = \boxed{-\frac{1}{(x-1)^2}}. \end{aligned}$$

$$\text{b) } f(x) = (x-1)^{-1} \implies f'(x) = (-1)(x-1)^{-2} \cdot 1 = \boxed{-\frac{1}{(x-1)^2}}.$$

$$\text{c) } \begin{cases} \lim_{x \rightarrow 1^-} \frac{1}{x-1} = \frac{1}{0^-} = -\infty \\ \lim_{x \rightarrow 1^+} \frac{1}{x-1} = \frac{1}{0^+} = +\infty \end{cases} \implies f \text{ té una discontinuïtat asimptòtica en } x = 1.$$

$$\text{d) } f(3) = 1/2, f'(3) = -1/4 \implies \text{recta tangent: } y - 1/2 = -1/4(x-3) \iff \boxed{x + 4y - 5 = 0}.$$

Sabem que el gràfic de f és una hipèrbola equilàtera d'asímptotes $x = 1$ i $y = 0$.



$$\text{e) } (g \circ f)(x) = \arctan\left(\frac{1}{x-1}\right) \implies (g \circ f)'(x) = \frac{1}{1 + \left(\frac{1}{x-1}\right)^2} \cdot \left(\frac{-1}{(x-1)^2}\right) = \boxed{\frac{-1}{1 + (x-1)^2}}.$$

$$\text{f) } g = h^{-1} \implies g'(x) = (h^{-1})'(x) = \frac{1}{h'(h^{-1}(x))} = \frac{1}{1 + \tan^2(\arctan x)} = \boxed{\frac{1}{1 + x^2}}.$$