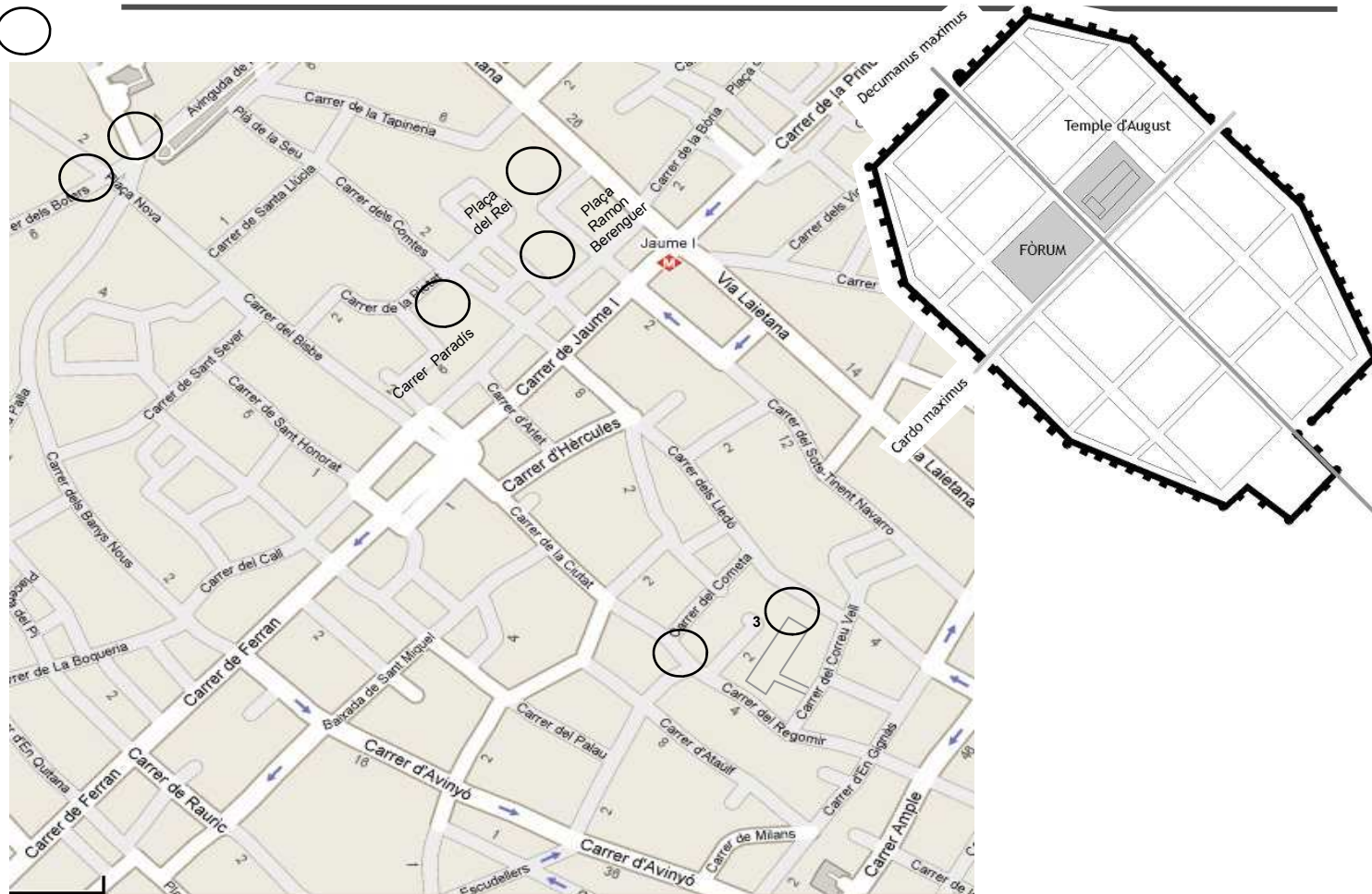




- Amb l'ajut de l'esquema traça a sobre l'ortofotomapa el contorn de la ciutat romana.
- Al plànol de Barcelona mira el nom dels carrers actuals que corresponen al *Cardo* i *Decumanus* màxims, així com els que –aproximadament– coincideixen amb el perímetre de Bàrcino.




- Localitza els llocs visitats anotant el seu número (mira les pàgines centrals) en aquest plànol:



# COLONIA IULIA AVGVSTA FAVENTIA PATERNA BARCINO

Cap a l'any 10 aC, sota el regnat d'August a Roma, es funda la colònia IULIA AVGVSTA FAVENTIA PATERNA BARCINO.



Maqueta del Temple d'August de Barcelona (MHC)

La ciutat neix al voltant del que -a l'època medieval- es coneixeria com a *Mons Tàber*. Les primeres muralles no eren gaire potents, doncs servien per identificar un nucli urbà amb tots els elements clàssics de la ciutat romana: una plaça pública o fòrum, amb el Temple d'August presidint-lo a la cruïlla dels dos carrers principals) el *decumanus* i *cardo maximi*. Les 10 hectàrees que ocupava Bàrcino es dividien en carrers que formaven una quadrícula: els *decumani* (carrers longitudinals) i els *cardi* (transversals). A la ciutat, on hi havia uns 2.000 habitants, arribava aigua per dos aqüeductes procedents de Collserola i el riu Besòs.

Encara avui dia podem veure restes d'aquesta muralla; s'estenia al llarg d'un perímetre de 1.270m i estava formada per murs d'uns 9m d'alçada per 3'5m de gruix i un seguit de torres quadrades (la majoria), arrodonides (com les que formaven la porta de l'extrem NW del *decumanus maximus*) i poligonals.

També podem veure restes del principal temple de Bàrcino, el Temple d'August, i restes arqueològiques d'una factoria de *garum* i salaó, una bugaderia i tintoreria (*fullonica* i *tinctoria*) i una bodega situades al subsòl del Museu d'Història de la Ciutat.



Llegeix els plafons informatius del temple romà d'August i contesta:

- De quin segle és la construcció del temple?
- A qui estava dedicat?
- Quines parts es conserven del temple?



A la porta del Centre Excursionista de Catalunya, al carrer Paradís num. 10, hi ha una pedra de molí que ens indica que ens trobem en el punt més alt de la ciutat romana. Anota el nom d'aquest petit cim i la seva alçada sobre el nivell del mar.

Mons  
Alçada:



### 8 Muralla i torres de defensa:

Podem contemplar un fragment de muralla i dues torres aprofitades posteriorment (s. XIV) per construir la casa March.  
> C/ Correu Vell



8

# BARCINO

1



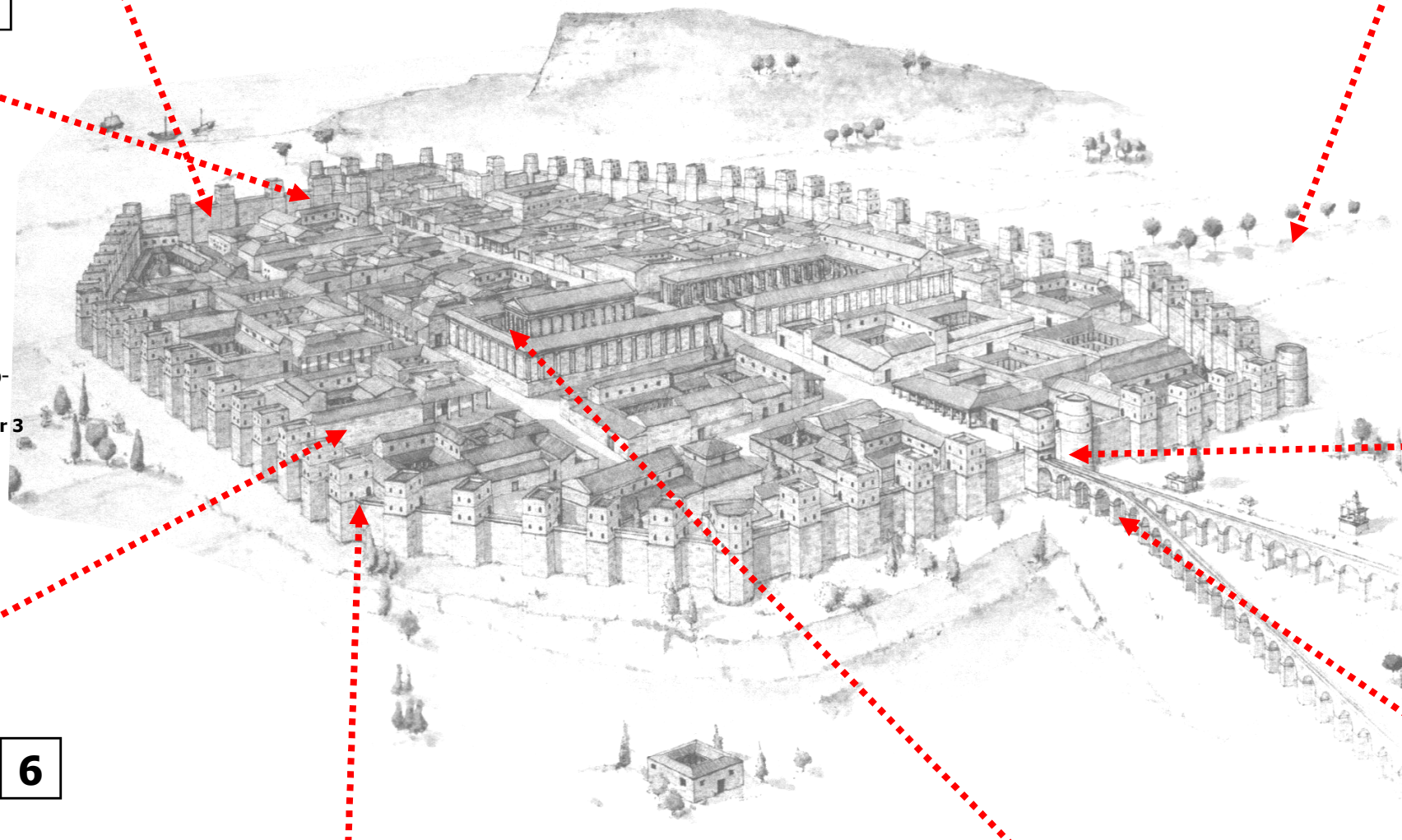
**1 Necròpoli romana:** el cementiris s'havien de situar fora muralles; la majoria de tombes són del tipus anomenat "cupae".  
> Plaça Vila de Madrid.



7

### 7 Muralla i porta d'entrada:

Podem veure el pas per vianants a l'interior de l'edifici del Pati Llimona. Aquestes restes corresponen a la primera muralla de Bàrcino (s. I).  
> C/ Regomir 3



2



**2 Porta Decumanus Maximus:** era el principal accés a Bàrcino des del Nord. Podem veure dues torres semicilíndriques i una porta més petita a la dreta per on entraven els vianants.  
> Plaça Nova.




6

### 6 Tallers i factories:

Entrant pel Cardo maximo trobem la zona on es concentren una bugaderia (*fullonica*) i tintoreria (*tinctoria*), una factoria de *gàrum* (salsa de peix) i una bodega. Actualment podem visitar les restes al subsòl del Museu d'Història de la Ciutat.  
> Plaça del Rei (Museu d'Història de la Ciutat)

5

**5 Tram de muralla i torres de defensa:** corresponents a la segona muralla de Bàrcino (s IV). A sobre es van construir la capella de Santa Àgata i el Palau Reial Major deu segles després.  
> Plaça Ramon Berenguer



4

**4 Temple d'August:** era l'edifici principal del fòrum (plaça pública). Es conserven quatre columnes, corresponents a la cantonada posterior dreta.  
> Carrer Paradís (Centre Excursionista de Catalunya)



3



**3 Aqüeductes:** dos aqüeductes portaven aigua a la ciutat; un des de Collserola i l'altre des del riu Besòs. Els podem veure parcialment reconstruïts.  
> Plaça Nova.



Acoloreix el període històric corresponent a BÀRCINO:

Línia del temps...

Edat Antiga

Edat Mitjana

Edat Moderna

Edat Contemp

