

Camp d'Aprenentatge Empúries



TERRAPRIM D'EMPORDÀ



Dossier de Treball

Data:	Alumne/a:
Grup o curs:	Centre:



Aquest Dossier de Treball és un recull de materials diversos susceptibles de ser usats com a treball posterior a l'activitat sobre el Terraprim d'Empordà per a Primària.

S'hi inclouen fitxes pròpies dels quaderns de camp que probablement hagin usat durant la sortida, a més d'altres versions disponibles del mateix quadern de camp, i tot d'activitats relacionades.

S'ha d'entendre que és més un compendi exhaustiu de possibilitats que no un amuntegament inacabable de tasques repetitives.


La idea del dossier és, doncs, que el professorat, un cop acabada l'activitat, hi trobi un seguit de propostes de treball posterior, per tal que aprofiti les que l'interessin. No seria lògic ni coherent fer-lo servir com un dossier per a realitzar-lo completament.

Cal advertir que hi ha pàgines amb formats i mides diferents, cosa que afectarà la manera d'imprimir-ho.

Si el centre fa alguna activitat diferent de la d'aquest dossier i ens vol fer arribar una còpia, el CdA la inclouria en aquest repositori.

Comentem el que veiem al llarg del recorregut

SANT PERE PESCADOR



SALDET



¿Quins són els temples romànics més propers al lloc on vius?

VENTALLÓ





SANT MORI

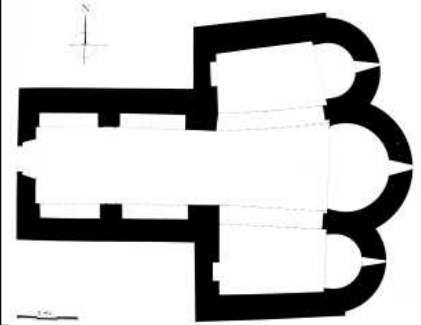


¿Quins són els edificis o elements gòtics més propers a la zona on vius?

SANT MIQUEL DE FLUVIÀ



SANT TOMÀS DE FLUVIÀ



¿Quina part del recorregut t'ha interessat més?

¿Quin episodi de la vida de la Comtessa és? ¿on s'esdevé? Uneix amb fletxes.



Coneixença i ball
de la Comtessa
i el Gegant a



Llàgrimes de la
Comtessa a
l'església de



Negociació entre
la Comtessa i el
Coronel Pierresfort
a _____



Entrevista entre
la Comtessa i el
Pastor de Batipalmes
a _____



Comentem què hem treballat a cada lloc:

6. A Sant Tomàs de Fluvià

1. A Sant Pere Pescador




2. A Saldet

5. A Sant Miquel de Fluvià

4. A Sant Mori

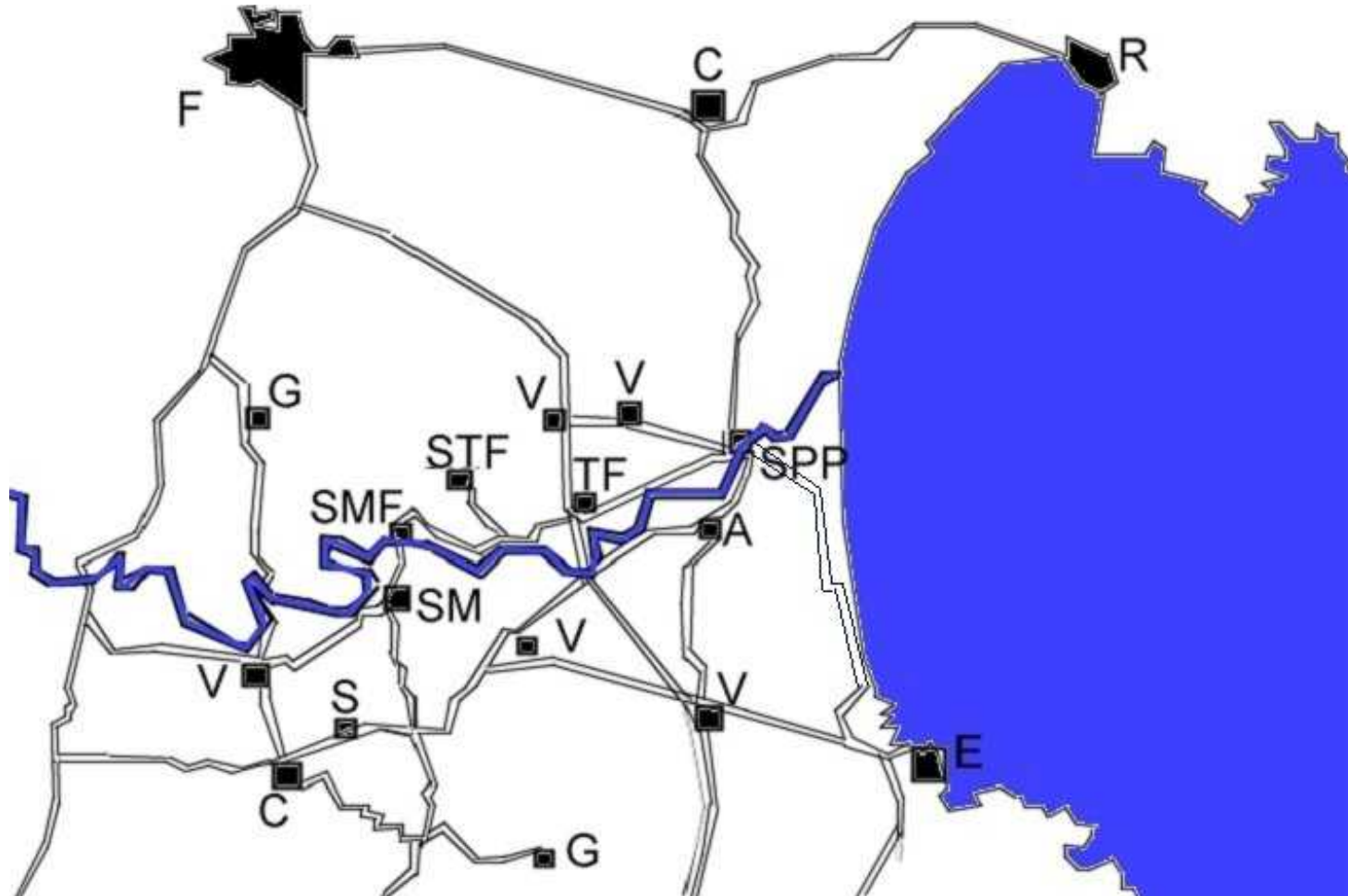
3. A Ventalló

RUTA DE LA COMTESSA DE MOLINS PEL TERRAPRIM D'EMPORDÀ





RUTA DE LA COMTESSA DE MOLINS



Hem sortit de _____

(marca-ho amb el núm. 1)

Hem anat fins a _____

(marca-ho amb el núm. 2)

passant per _____

Després hem visitat _____

(marca-ho amb el núm. 3)

Després hem anat a _____

(marca-ho amb el núm. 4)





Després de dinar hem visitat _____

(marca-ho amb el núm. 5)

I finalment hem tornat fins a _____ ¿Hi surt al mapa?

SANT PERE PESCADOR

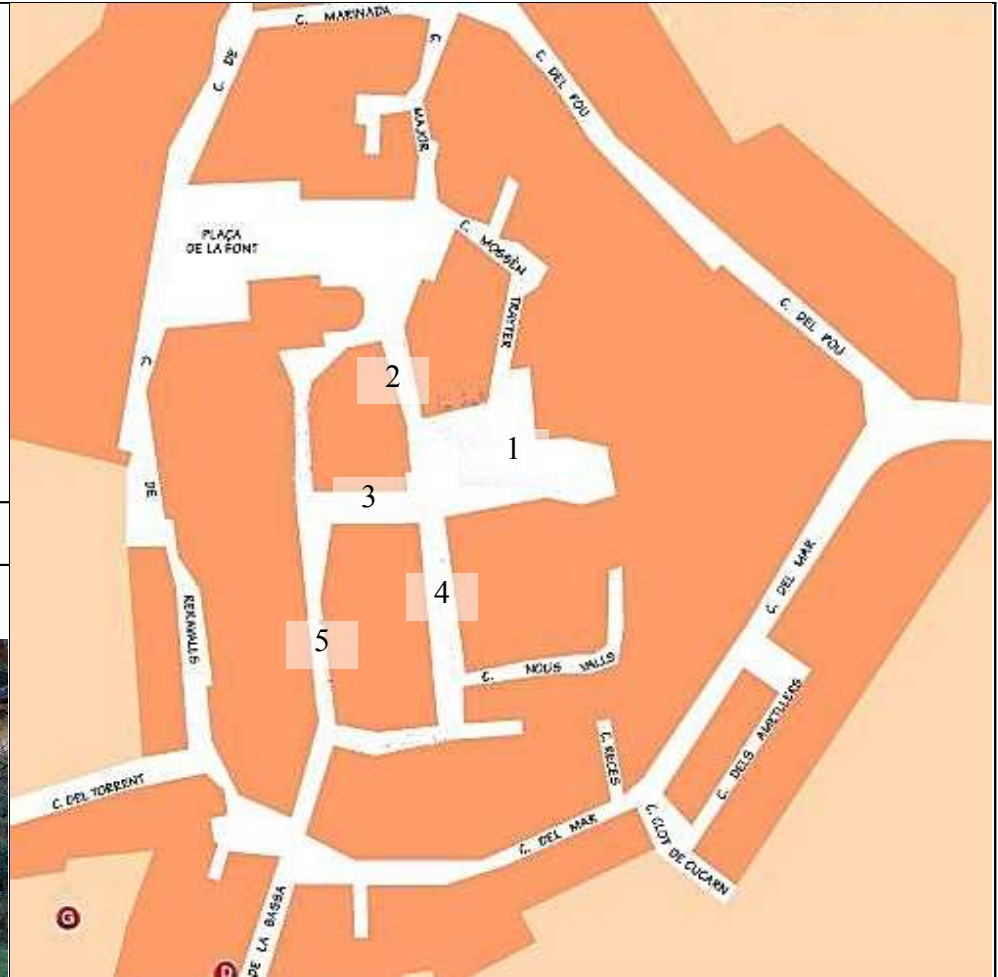
Escriu el nom del que hem vist, visitat o comentat:

Dibuixa la muralla i el Portalet:



VENTALLÓ




Escriu el nom dels carrers que hi falten:

1. _____ 2. _____ 3. _____
4. _____ 5. _____

SANT MORI



Dibuixa què veia el Pastor de Batipalmes des de la seva finestra del castell.



SANT MIQUEL DE FLUVIÀ



Explica per què fa pocs anys que s'ha tornat a posar la Verge gòtica a l'església de Sant Miquel de Fluvià.



RUTA DE LA COMTESSA DE MOLINS

Data: _____

Nom: _____

¿On hem dinat?

¿Quins pobles hem visitat?

¿De quines paraules n'has estat guardià? ¿En quin poble l'has pogut explicar?

Paraula: _____ Poble: _____

Paraula: _____ Poble: _____

¿Què t'ha agradat més?

¿Què t'ha agradat menys?



RUTA DE LA COMTESSA DE MOLINS PELS TERRAPRIMS DE L'EMPORDÀ

Nom i cognoms:

Centre:

Curs i grup:

Data:



RUTA DE LA COMTESSA DE MOLINS

SANT PERE

PESCADOR

Situa els elements de què parlem en el seu moment històric. Fes fletxes i escriu-hi el nom més adequat.

I aC	I	II	III	IV	V	VI	VII	VIII	IX	X	XII	XIII	XIV	XV	XVI	XVII	XVIII	XIX	XX	XXI
------	---	----	-----	----	---	----	-----	------	----	---	-----	------	-----	----	-----	------	-------	-----	----	-----




--	--	--

RUTA DE LA COMTESSA DE MOLINS

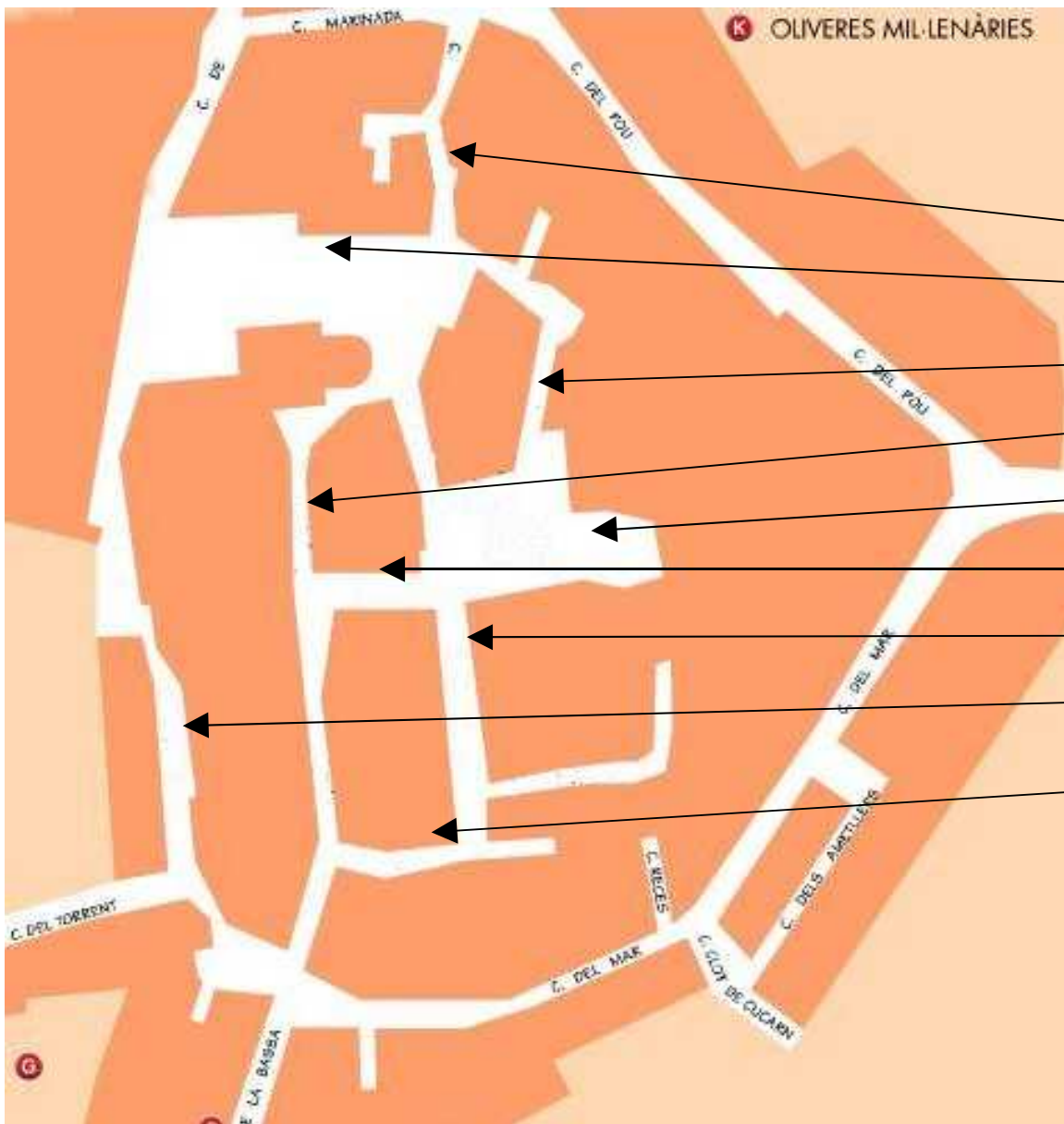
SALDET

Escriu les característiques principals de l'arquitectura romànica que hem comentat.



RUTA DE LA COMTESSA DE MOLINS

VENTALLÓ



Escriu el nom dels carrers i places del nucli antic de Ventalló.

Assenjala amb una creu on està situada la Casa del Delme.

Terraprim

Camp d'Apren

CdA Empúries

RUTA DE LA COMTESSA DE MOLINS

SANT MORI

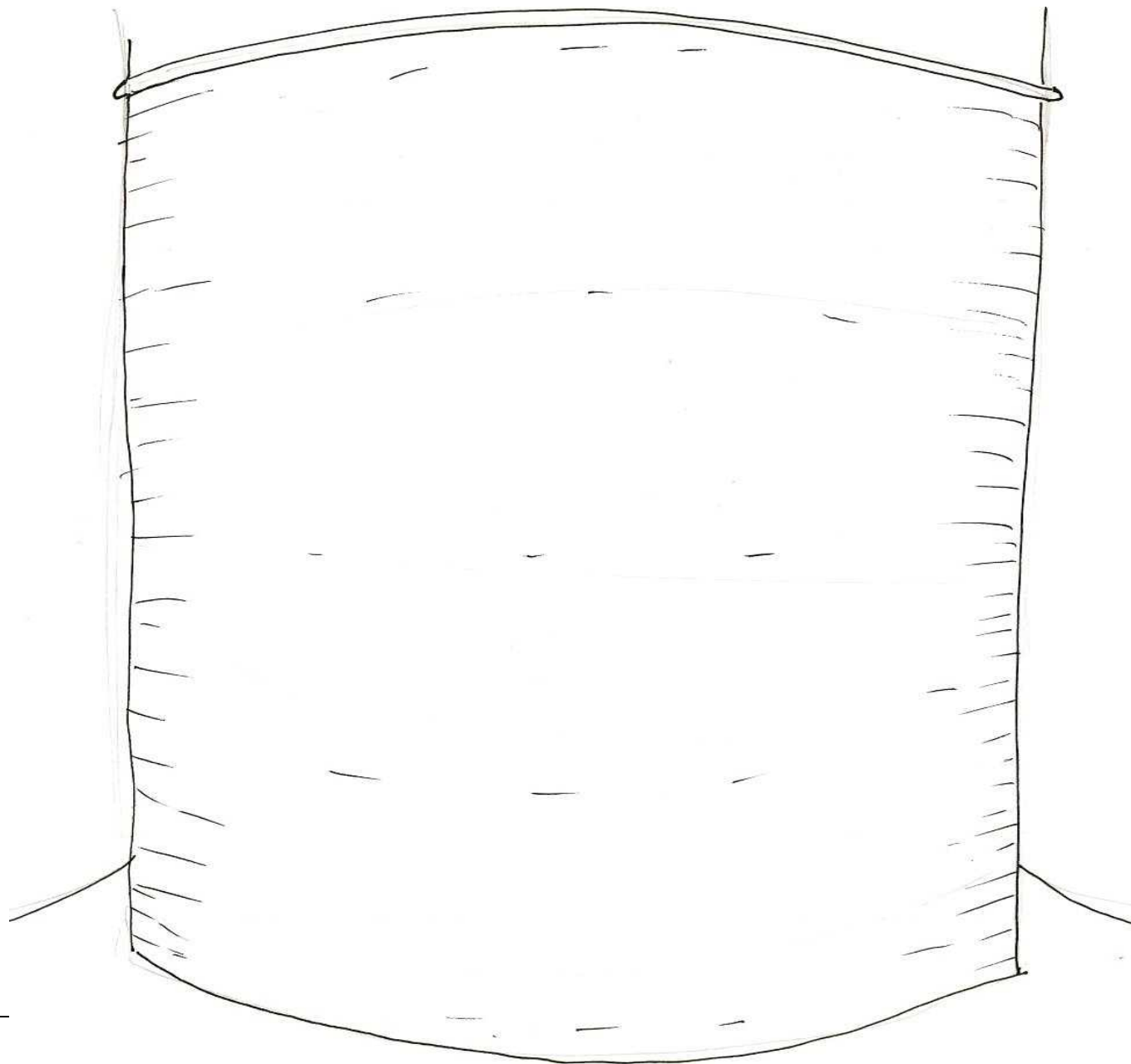
Completa el dibuix de la Creu de Terme de Sant Mori
i dibuixa com t'imagines el Camí Ral que hi passava a la vora.



RUTA DE LA COMTESSA DE MOLINS

Fixa't com està decorada
la part exterior de l'absis.
D'aquesta decoració
s'anomena d'estil **llombard**.
Prova de reproduir-ho en
aquest dibuix.


SANT MIQUEL DE FLUVIÀ



RUTA DE LA COMTESSA DE MOLINS

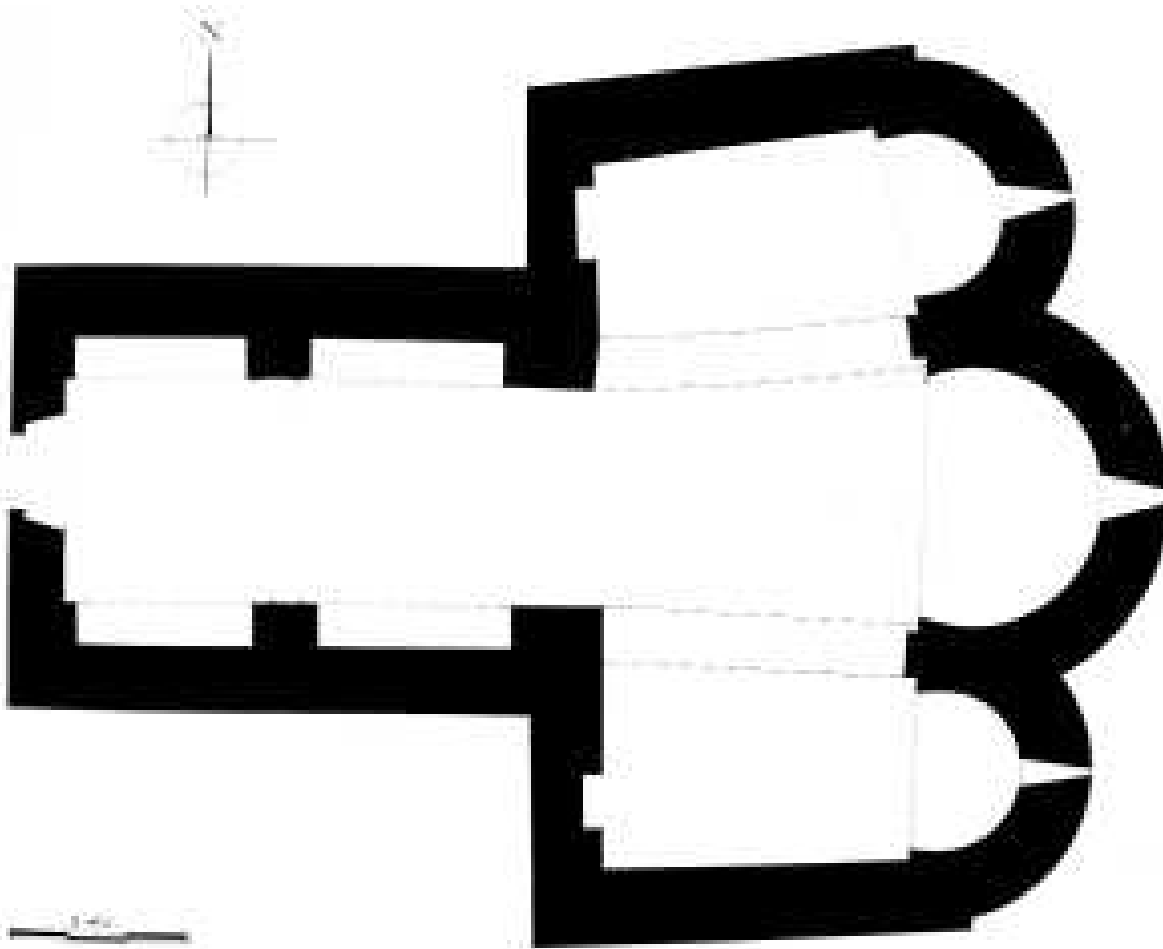
SANT TOMÀS DE FLUVIÀ

Escriu el nom dels personatges que apareixen a les pintures de l'absis de l'església de Sant Tomàs.



RUTA DE LA COMTESSA DE MOLINS

Aquesta és la planta de l'església de Sant Tomàs de Fluvià.



La portalada és d'un sol arc de
_____ i és

Sobre la portalada hi ha un petit

És d'una nau però la capçalera té tres _____.

Hi ha indicis que estava projectada per tenir _____ naus.

L'absis central té una mica forma de _____.

Sortint, a l'esquerra hi ha la

Sortint, a la dreta hi ha el

_____.

