



PAISATGE

|

ORIENTACIÓ

Ruta 1



Nom: _____



 Generalitat de Catalunya
Departament d'Ensenyament
Serveis Territorials a Lleida



Mar Balagué
Neus Bardina
Laura Breu
Esther Gras
Irene Borja

Per classificar un paisatge, has de tenir en compte els grups d'elements que hi ha i el grup predominant.

❖ *El paisatge observat en el seu conjunt és* _____

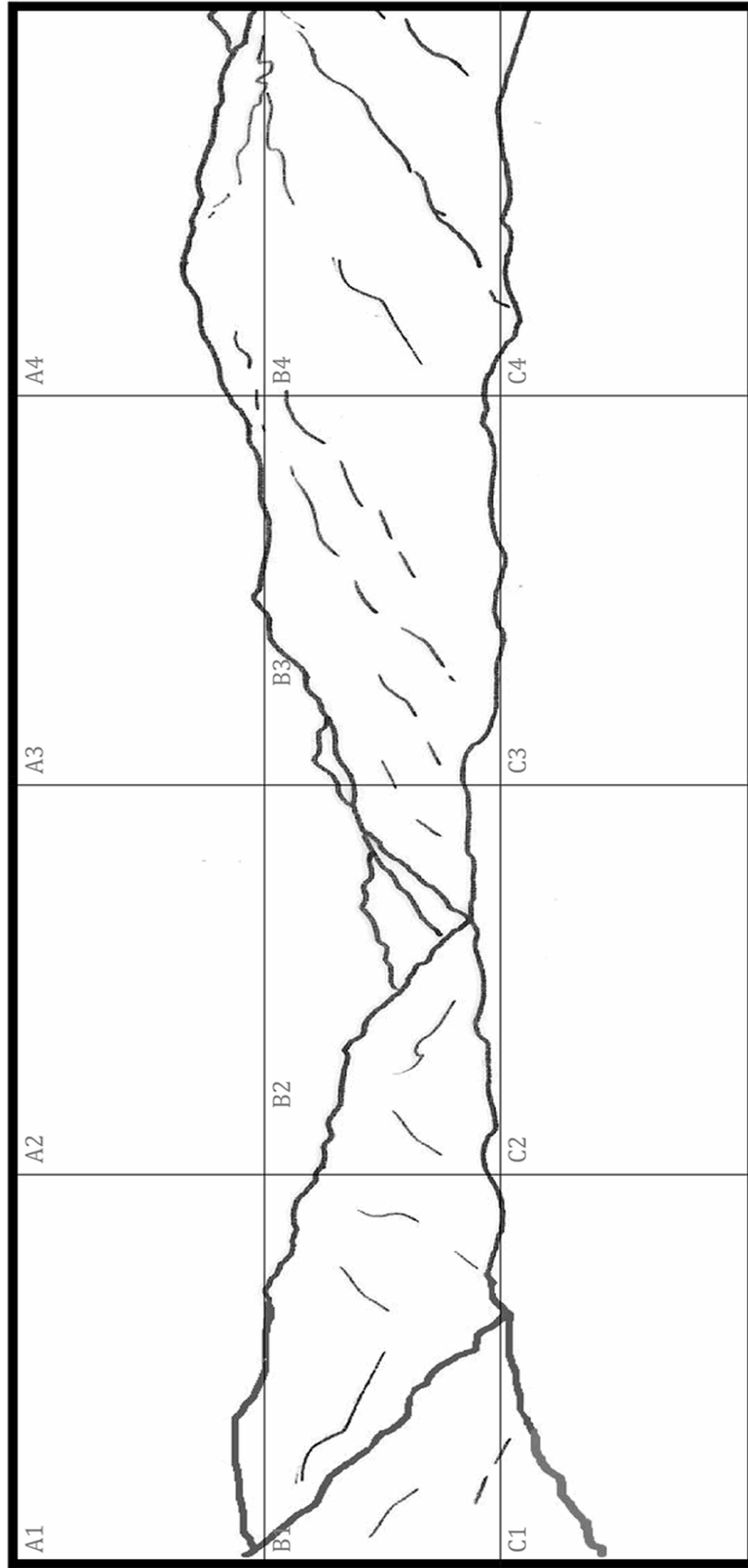
Com creus que devia ser abans? _____

5





i en el futur, com penses que pot evolucionar? _____

Quina sensació et transmet aquest paisatge? _____





❖ Completa el dibuix d'aquest paisatge fent servir els següents símbols:







➤ **Abiòtics: elements no vius.**

	Neu		Roca
	Aigua	

➤ **Biòtics: elements vius.**

	Arbres f. caduca		Arbres f. perenne
	Herba/ arbust	

➤ **Antropològics: elements introduïts per l'home.**

	Cases		Vies de comunicació
	Prats	

L'heroica Caterina Albert, esposa del comte de Pallars Hug Roger III, destacà per la mítica i llegendària defensa que feu en les Valls d'Àneu. A pesar de les escomeses i del setge que va patir durant molt temps pels partidaris del rei, la Comtessa, donant mostres d'un valor extraordinari, resistí dins el Castell de València fins a l'últim moment, en que ja no pogué fer res més per aquest castell i per aquesta terra tant estimada del seu Pallars....i doncs, que devia fer-la tan especial aquesta terra? que devia veure-hi en ella?

Voleu descobrir-ho? No serà fàcil, haureu de treballar força per arribar a trobar la resposta, seguiu les instruccions i les pistes us duran a ella.

Preparats?

El GPS us indicarà el camí correcte, aneu seguint els tracks i feu parada als waypoints, la resposta a les preguntes que us plantejem us ajudaran a entendre els pensaments de la Comtessa.



Seguiu el camí que us durà al primer waypoint, un cop aquí i brúixola en mà, com es diu el poble situat a 230 graus? _____


Quantes lletres té el seu nom? , i el pic situat a 225° quantes en té?

Anem pel bon camí, de moment ja en teniu dues! Ara toca buscar el punt 2. A prop d'aquest waypoint hi ha un cartell, quin desnivell indica que té la ruta en quilòmetres?

El sender no para de pujar, toca parada per agafar aire, al waypoint 3 podreu seure una estoneta, agafeu el mapa i digueu, a quina alçada es troba Roca Blanca (240°)? el poble de La Guingueta d'Aneu (170°)?

Atenció, serieu capaços de dir a quina distància, en quilòmetres, es troba el poble d'Escalarre? , i el pic de Boliera en metres?


Anem fins al pròxim punt, veieu les restes del Castell de València? Escolteu atentament la llegenda.



Quin deu ser el riu d'on treien les truites? _____
Indiqueu quantes lletres té el seu nom complet.

Molt bé, anem per bon camí! Arribeu-vos al waypoint 5.

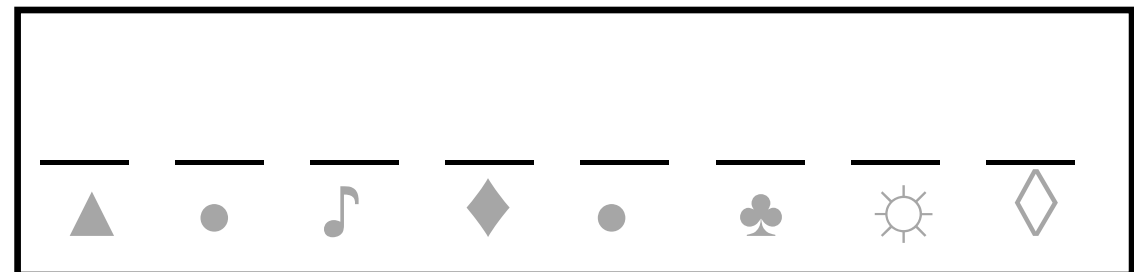
Això ja s'acaba, esteu a punt d'aconseguir el total de les pistes per tenir la resposta final. El pròxim punt us farà rumiar una mica, diu l'endevinalla:



*"El meu nom el porta un riu,
tot i no tenir res de parentiu;
tinc fills rodons i petits,
tot i que no els trencareu pas amb
els dits"*

Quants en conteu a la corba?

Ja ho tenim, ara només us queda fer funcionar la testa a tota màquina i resoldre l'enigma!



34= O	5250= S	2,5= G
	3= P	33= Y
	10= A	
	6= I	0,120= E
55= D	920= T	69= R