

1

FITXA 2

CONCEPTES FONAMENTALS

REFORÇ

NOM: _____ CURS: _____ DATA: _____

RESOL

1 Relaciona cada concepte amb la definició corresponent.

- | | |
|--|---------------------------|
| a) Sistema polític que es caracteritza perquè el rei concentra tots els poders. | 1) Il·lustració. |
| b) Conjunt de relacions socials, econòmiques i polítiques que caracteritzen les monarquies europees del segle XVIII. | 2) Parlamentarisme. |
| c) Moviment intel·lectual que es va desenvolupar a Europa en el segle XVIII, caracteritzat per una confiança il·limitada en el poder de la raó per resoldre els problemes de l'ésser humà. | 3) Liberalisme polític. |
| d) Doctrina que defensava el proteccionisme econòmic i la intervenció de l'estat en l'economia. | 4) Antic Règim. |
| e) Forma d'organització social característica de l'Antic Règim. S'havia originat durant l'edat mitjana i dividia la societat en tres ordres o estaments: el clergat, la noblesa i el poble. | 5) Despotisme il·lustrat. |
| f) Sistema polític implantat a Anglaterra al final del segle XVII, caracteritzat perquè el rei accepta el control del Parlament. | 6) Absolutisme. |
| g) Sistema polític que neix de l'aplicació de les idees il·lustrades per part de la monarquia absoluta. Els reis desitjaven que la societat evolucionés, però que la monarquia dirigís el procés, sense tenir en compte la societat. | 7) Fisiocràcia. |
| h) Associació professional d'artesans, que controlava la producció de manufactures i fixava unes condicions determinades per accedir a l'ofici i per elaborar els productes. | 8) Mercantilisme. |
| i) Doctrina que té com a principis bàsics la llibertat, la igualtat davant la llei i la propietat com a criteri de diferenciació social. | 9) Gremi. |
| j) Teoria econòmica segons la qual la riquesa d'un país depèn de l'agricultura. | 10) Societat estamental. |

2 Marca amb una X la resposta correcta.

- a) El sistema polític que regia la major part d'Europa en el segle XVIII era el/la:
 Absolutisme. Parlamentarisme. Despotisme il·lustrat.
- b) El liberalisme, base del parlamentarisme anglès, va ser enunciat per:
 Jacques Bossuet. John Locke. Jean Colbert.
- c) El tipus de govern d'alguns monarques absoluts, influïts per les idees de la Il·lustració, es coneix com a:
 Monarquia absoluta. Monarquia parlamentària. Despotisme il·lustrat.
- d) El concepte de separació de poders va ser desenvolupat per:
 Jacques Bossuet. Rousseau. Montesquieu.
- e) La base del liberalisme econòmic es troba en la teoria exposada per:
 Jean Colbert. François Quesnay. Adam Smith.
- f) La teoria de les relacions socials del liberalisme va ser exposada per:
 Voltaire. Rousseau. Adam Smith.



2

FITXA 10
EL TEMPS

REFORÇ

NOM: _____ CURS: _____ DATA: _____

RESOL

1 Marca amb una X la resposta correcta.

- a) L'anomenat *motí del te* a Boston contra l'intent del govern anglès de monopolitzar el comerç del te es va produir el:
 1760. 1773. 1776. 1783.
- b) La Declaració d'Independència dels Estats Units es va firmar el:
 4 de juliol de 1773. 4 de juliol de 1776. 4 de juliol de 1783.
- c) El Regne Unit va reconèixer la independència dels Estats Units el:
 1776. 1783. 1787.

REFORÇ I AMPLIACIÓ

2 Ordena cronològicament els esdeveniments següents.

	Número d'ordre
Es va redactar la Declaració dels Drets de l'Home i del Ciutadà.	
Es produí el cop d'estat del 9 de termidor, després del qual Robespierre fou jutjat i executat.	
Es va proclamar la República.	
Napoleó va transformar la República en Imperi.	
Els representants del Tercer Estat van passar a anomenar-se Assemblée Nacional.	
L'Assemblée Nacional va passar a anomenar-se Assemblée Constituent.	
La Convenció va jutjar Lluís XVI per traïció i el va executar a la guillotina.	
Es van reunir els Estats Generals.	
Els muntanyencs, dirigits per Robespierre, van aconseguir el poder.	
Es va proclamar la Constitució del 1791.	
Els ciutadans de París van assaltar la Bastilla.	
Napoleó va ser derrotat a Waterloo.	
Es va instaurar un Directori de cinc membres.	
Napoleó Bonaparte va fer el cop d'estat del 18 de brumari i es proclamà cònsol.	
Es va iniciar el Terror.	

3 Indica si són certes (C) o falses (F) aquestes afirmacions.

	C	F
Entre el 1814 i el 1824 s'independitzaren les colònies espanyoles a Amèrica, tret de Cuba i Puerto Rico.		
La primera onada revolucionària va començar el 1820 a Espanya: Riego es va aixecar contra la monarquia absoluta de Ferran VII.		
La revolució del 1830 va començar a França, on la monarquia absoluta de Carles X de Borbó va ser substituïda per la liberal de Lluís Felip d'Orleans.		
A Brussel·les es va produir un aixecament que va posar fi a la independència de Bèlgica respecte d'Holanda el 1831.		
L'any 1848 va ser el de menys intensitat revolucionària de tot el segle XIX a Europa.		
La revolució del 1820 va esclatar a França, on es va instaurar la Segona República.		

2

FITXA 11

CONCEPTES FONAMENTALS

REFORÇ

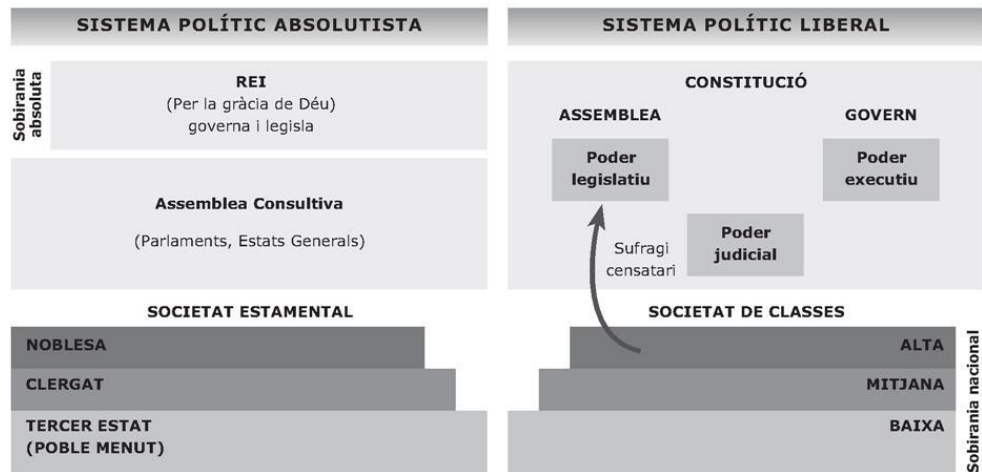
NOM: _____ CURS: _____ DATA: _____

RESOL

1 Uneix cada definició amb el concepte corresponent.

- | | |
|---|--------------------------|
| a) Els salaris dels treballadors i els preus dels productes s'ajustaran d'acord a la llei de l'oferta i la demanda. | 1) Liberalisme polític |
| b) Els ciutadans tenen un seguit de drets que el poder polític ha de respectar i fixar en una constitució. | 2) Restauració. |
| c) La nació és com un ésser viu amb una cultura, una llengua i una història comunes, i té dret a formar un estat. | 3) Liberalisme econòmic. |
| d) Imita els models artístics de l'antiguitat clàssica perquè els considera més purs i racionals. | 4) Romanticisme. |
| e) Defensa la supremacia de la imaginació, la fantasia i la creativitat sobre la raó. | 5) Neoclassicisme. |
| f) Època que es va iniciar després de la derrota de Napoleó, durant la qual van tornar al poder els monarques de l'Antic Règim. | 6) Nacionalisme. |

2 Observa aquests esquemes.



• Respon les preguntes.

- Què significa la paraula «sobirania»? Qui té la sobirania nacional en l'absolutisme?
- Què vol dir «sufragi censatari»?
- Quina diferència hi ha entre la societat estamental i la de classes?
- Què és el poder executiu? Qui té el poder executiu en el sistema liberal?
- Qui té el poder executiu en el règim absolutista?
- En quin grup social s'inclouria un comerciant ric en el règim absolutista? I en el règim liberal?
- Qui fa les lleis en el sistema absolutista? I en el liberal? Com es diu el poder de fer les lleis?



3

FITXA 16

REFORÇ

EL CONTEXT ESPACIAL I EL TEMPS

NOM: _____ CURS: _____ DATA: _____

RESOL

1 Completa aquestes frases amb les paraules i les dates del quadre.

Europa – 1760 – Primera Revolució Industrial – tres fases – Gran Bretanya – Tercera Revolució Industrial
Segona Revolució Industrial – Alemanya – 1870 – segle XX – França – Bèlgica

El procés d'industrialització té característiques i conseqüències diferents segons el país i l'època en la qual es va donar. Es distingeixen _____:

- La _____, que va començar cap el _____ a _____.
- La _____, que va començar cap el _____.
- La _____, que s'està produint en l'actualitat.

Entre el 1820 i el 1840 les innovacions de la primera revolució industrial es van estendre per _____.

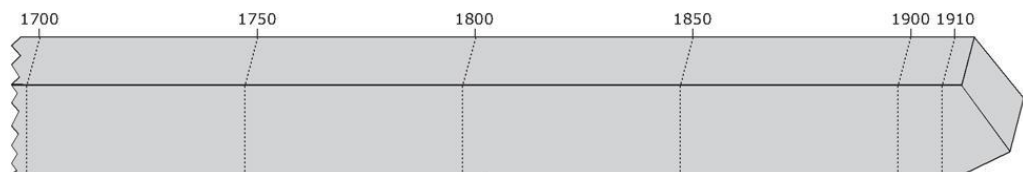
Els països més propers a la Gran Bretanya, com _____, _____ i _____, van ser els primers a seguir les seves petjades. A la resta de països europeus la industrialització es va donar en realitat en el _____.

2 Marca amb una X les afirmacions certes sobre el Regne Unit a l'inici de la Revolució Industrial.

- La població decreixia.
- La població creixia.
- No tenia recursos minerals.
- Tenia jaciments de ferro i abundant carbó mineral.
- No tenia un imperi a ultramar.
- Tenia moltes colònies a ultramar.
- El transport era molt difícil.
- Tenia molta facilitat de transport.
- El principal sector afectat per la industrialització va ser el tèxtil.
- El sector tèxtil no va resultar afectat per la industrialització.

3 Situa en la línia del temps les innovacions que s'assenyalen a continuació.

- 1769. Màquina de vapor, Watt.
- 1807. Vaixell de vapor, Fulton.
- 1814. Locomotora de vapor, Stephenson.
- 1896. Zepelí.
- 1837. Telègraf.
- 1870. Transport frigorífic.
- 1885. Automòbil.
- 1903. Aeroplà.
- 1879. Bombeta, Edison.
- 1876. Telèfon.



3

FITXA 17

CONCEPTES FONAMENTALS

REFORÇ

NOM: _____ CURS: _____ DATA: _____

RESOL

1 Indica si són certes (C) o falses (F) aquestes afirmacions relatives a la Revolució Industrial.

	C	F
A meitat del segle XVIII es va produir la Revolució Industrial: es van inventar màquines molt especialitzades, es van crear fàbriques i la producció es va orientar a la venda.		
La Revolució Industrial va néixer a Espanya, entre altres raons, per la manera de pensar de la burgesia, per l'abundància de carbó i per les innovacions tecnològiques que es van aplicar.		
En aquesta primera fase de la industrialització es van destacar dos sectors: la indústria química i la indústria elèctrica.		
L'aparició de la màquina de vapor i del ferrocarril va revolucionar els mitjans de transport.		
En el segle XIX, la industrialització es va estendre des del Regne Unit fins al continent europeu, primer a Alemanya, Bèlgica i França. Al mateix temps, l'organització econòmica va anar canviant i van néixer les societats anònimes i els bancs moderns.		
A partir del 1870 es va produir una Segona Revolució Industrial: es van començar a aplicar noves fonts d'energia, com l'electricitat i el petroli, van aparèixer la producció en sèrie i les cadenes de muntatge, i es va produir un procés de concentració empresarial.		
La Revolució Industrial va marcar el pas d'una societat industrial i urbana a una societat agrícola i rural, una societat de classes en què la burgesia es va convertir en la classe més poderosa.		
La industrialització va ser l'origen de l'esquerra econòmica entre els països desenvolupats i els països subdesenvolupats.		

2 Relaciona cada concepte amb la definició corresponent.

- | | |
|--|---------------------------|
| a) Barri planificat en la segona meitat del segle XIX, amb cases de bona qualitat, carrers ordenats i tot tipus de serveis, on vivien la burgesia i les classes mitjanes. | 1) Revolució demogràfica. |
| b) Nom amb què els teòrics marxistes van definir els obrers, les persones que treballaven a les fàbriques a canvi d'un salari. | 2) Fàbrica. |
| c) Gran creixement de la població a partir de la segona meitat del segle XVIII com a conseqüència del descens de la mortalitat gràcies, entre altres coses, a l'aparició de les primeres vacunes. | 3) Ludisme. |
| d) Establiment en què els obrers fan servir màquines per treballar. | 4) Eixample. |
| e) Corrent cultural que es va desenvolupar a meitat del segle XIX, tant en literatura com en pintura, que es caracteritza pel desig de reflectir la realitat tal com és. | 5) Proletariat. |
| f) Moviment obrer que va aparèixer a Anglaterra en el primer quart del segle XIX, que es va organitzar per destruir les màquines, que es consideraven culpables de l'augment de l'atur i del descens dels salaris. | 6) Realisme. |

3 Uneix cada personatge amb l'activitat que li correspon.

- | | |
|---------------------|---|
| a) Karl Marx. | 1) Pintor francès representant del realisme. |
| b) Bakunin. | 2) Va difondre la producció en sèrie. |
| c) Daumier. | 3) Representant de l'anarquisme. |
| d) Charles Dickens. | 4) Creador del marxisme o socialisme científic. |
| e) Henry Ford. | 5) Escriptor representant del realisme. |

4

FITXA 23

EL CONTEXT ESPACIAL

REFORÇ

NOM: _____ CURS: _____ DATA: _____

RESOL

1 Classifica els països següents en el lloc que els correspon.

Bèlgica - Romania - Bulgària - Alemanya - Sèrbia - Grècia
Montenegro - Itàlia - Albània

Obtenen la independència per la disgregació o la separació d'un imperi	Obtenen la independència per la unió de diversos estats

2 Relaciona els personatges següents amb el país corresponent.

- a) Bismarck. 1) La unificació d'Itàlia.
- b) Victor Manuel II.
- c) Guillermo I.
- d) Garibaldi.
- e) Cavour. 2) La unificació d'Alemanya.

3 Completa el text sobre la formació dels Estats Units amb els topònims i les expressions següents.

Califòrnia - Texas - Pacífic - Louisiana - expansió cap a l'Oest
Florida - Nou Mèxic

En la primera meitat del segle XIX, els Estats Units es van estendre per nous territoris. _____ i _____ van ser comprades a França i Espanya, respectivament; el Regne Unit va cedir Oregon, el mateix any en què va ser annexionada; i, després d'una guerra molt breu amb Mèxic, van ser incorporats _____ i _____, amb la qual cosa els Estats Units van arribar a la costa de l'oceà _____, que va ser ràpidament colonitzada. Aquesta _____ va proporcionar terra i recursos, i va forjar la identitat del poble dels Estats Units.

4 Situa els territoris següents a l'imperi colonial del qual van formar part.

Índia - Congo - Somàlia - Hong Kong - Gibraltar - Egipte - Filipines
Corea - Indoxina - Puerto Rico

Imperi colonial	Possessions
Imperi britànic	
Imperi francès	
Imperi belga	
Imperi alemany	
Imperi italià	
Rússia	
Estats Units	
Japó	



4

FITXA 24
EL TEMPS

REFORÇ

NOM: _____ CURS: _____ DATA: _____

RESOL

1 Completa la cronologia següent comparada amb aquests esdeveniments.

- Es va proclamar el regne d'Itàlia, el primer rei del qual va ser Víctor Manuel II, rei del Piemont.
- Prússia va vèncer Àustria a la batalla de Sadova i va crear la Confederació de l'Alemanya del Nord.
- Després de la victòria sobre França a la batalla de Sedan, els estats del sud es van unir a la Confederació.
- Després de la derrota d'Àustria davant de Prússia, Venècia va ser incorporada al regne d'Itàlia.
- Va néixer l'Imperi alemany, el II Reich.
- Després de la derrota de França per Prússia, els Estats Pontificis van ser incorporats al regne d'Itàlia.

La unificació italiana		La unificació alemanya
	1815	El territori alemany estava dividit en 39 estats. El congrés de Viena els va agrupar en la Confederació Germànica, presidida per Àustria.
	1848	Un Parlament reunit a Frankfurt va oferir la corona d'una Alemanya unificada al rei de Prússia, que no la va acceptar.
Cavour i Napoleó III es van entrevistar.	1858	
L'exèrcit francopiemonès va derrotar a les batalles de Magenta i Solferino els austríacs, que van cedir la Llombardia i el Piemont.	1859	
Garibaldi, al capdavant d'un exèrcit de voluntaris, els «camises roges», va conquerir els estats del sud.	1860	
	1861	
	1866	
	1870	
	1871	

2 Ordena cronològicament aquests fets.

	Número d'ordre
Abraham Lincoln va ser elegit president dels Estats Units.	
Louisiana i Florida van ser comprades a França i a Espanya, respectivament.	
Va començar la guerra de Secessió.	
Annexió de Nou Mèxic i Califòrnia després d'una breu guerra amb Mèxic.	
Onze estats del sud, partidaris de mantenir l'esclavitud, es van separar dels Estats Units i van formar la Confederació.	
Els estats del nord van guanyar la guerra i l'esclavitud va ser abolida.	

3 Completa aquestes frases amb dates següents: 1870, 1885, 1830.

- Des del _____ les potències europees van reprendre el procés d'expansió colonial.
- L'expansió imperialista es va accelerar a partir del _____.
- En la Conferència de Berlín de _____ les potències europees es van repartir el continent africà.



4

FITXA 25

CONCEPTES FONAMENTALS

REFORÇ

NOM: _____ CURS: _____ DATA: _____

RESOL

1 Uneix cada definició amb el concepte corresponent.

- | | |
|---|--------------------------------------|
| a) L'extensió del domini d'un país (metròpoli) sobre les colònies. | 1) Concepció cultural de nació. |
| b) Els ciutadans tenen una sèrie de drets que el poder polític ha de respectar i recollir en una Constitució. | 2) Imperialisme. |
| c) Moviment artístic que s'inspira bàsicament en la naturalesa, de la qual volia copiar les formes, mentre que la decoració adquireix una força inusitada, encara que sempre subordinada a la funcionalitat. | 3) Expressionisme. |
| d) La nació és un ésser viu, creat en el transcurs dels temps, amb una cultura, una llengua i una història comunes, que té dret a organitzar-se com a estat sobirà. | 4) Impressionisme. |
| e) Estil pictòric que pretén captar la impressió immediata que produeix la visió d'alguna cosa, mitjançant una tècnica de pinzellades soltes i colors purs, i que posa una atenció especial als efectes de la llum. | 5) Liberalisme. |
| f) Moviment que va sorgir a Anglaterra en la segona meitat del segle XIX, que defensa la concessió del dret de vot a la dona. | 6) Cubisme. |
| g) Estil pictòric que pretén reflectir els sentiments d'inquietud, temor i por de l'ésser humà. | 7) Concepció política de nació. |
| h) La nació es forma per la decisió voluntària d'un conjunt de persones. | 8) Sufragisme. |
| i) Estil pictòric que presenta els objectes i les figures des de diferents angles, cosa que distorsiona la realitat. | 9) Modernisme o <i>Art nouveau</i> . |

2 Marca quines van ser les principals potències colonials en el segle XIX.

- | | | | | |
|------------------------------------|--------------------------------------|----------------------------------|-----------------------------------|--------------------------------|
| <input type="checkbox"/> Alemanya. | <input type="checkbox"/> Austràlia. | <input type="checkbox"/> França. | <input type="checkbox"/> Bèlgica. | <input type="checkbox"/> EUA. |
| <input type="checkbox"/> Espanya. | <input type="checkbox"/> Regne Unit. | <input type="checkbox"/> Itàlia. | <input type="checkbox"/> Xina. | <input type="checkbox"/> Japó. |

3 Assenyala per quines causes les grans potències europees desitjaven apropiar-se de colònies.

- El fort creixement de la població.
- El fort descens de la població.
- La recerca de primeres matèries barates i de nous mercats per a les seves indústries.
- L'augment del temps de lleure.
- La recerca d'espais on poguessin invertir els seus capitals.
- La missió de civilitzar uns pobles que consideraven culturalment més endarrerits.
- La tasca missionera, tant de l'Església catòlica com de les protestants.
- El desig d'augmentar el prestigi d'un país i enfortir l'orgull nacional.
- La curiositat científica.



5

FITXA 30

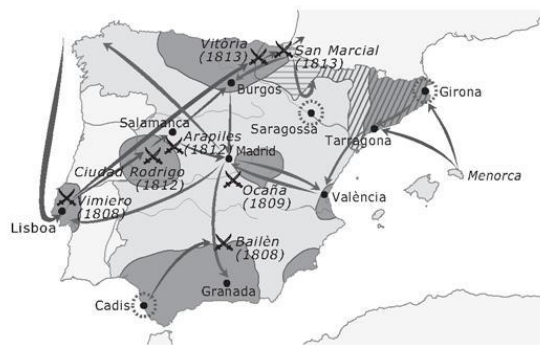
EL CONTEXT ESPACIAL

REFORÇ

NOM: _____ CURS: _____ DATA: _____

RESOL

1 Observa el mapa i respon les preguntes:



	Batalles		Zona de guerrilles
	Ciutats assetjades		Zona ocupada pels francesos l'agost de 1808
	Exèrcit francès		Últims territoris controlats pels francesos
	Exèrcit angloespanyol		

- Quines ciutats espanyoles van ser assetjades pels francesos?
- En quines àrees va dominar la guerrilla?
- Quines van ser les principals victòries espanyoles?

2 Uneix cada esdeveniment amb el lloc on es va produir.

- | | |
|--|---------------------------------------|
| a) Proclamació de la primera Constitució espanyola. | 1) Las Cabezas de San Juan (Sevilla). |
| b) Pronunciament dirigit per O'Donnell que va posar fi a la Dècada Moderada d'Isabel II. | 2) La Granja (Segòvia). |
| c) L'abraçada entre el general liberal Espartero i el general carlí Maroto va segellar la fi de la Primera Guerra Carlina. | 3) Bergara (Guipúscoa). |
| d) Es va proclamar cantó independent durant la Primera República. | 4) Cadis. |
| e) Aixecament militar que va obligar la regent Maria Cristina a lliurar el poder als progressistes. | 5) Vicálvaro (Madrid). |
| f) Pronunciament liberal dirigit pel coronel Riego. | 6) Cartagena. |

3 Assenyala en quines d'aquestes zones van tenir un nombre més alt de seguidors els carlins.

- | | | |
|-------------------------------------|------------------------------------|------------------------------------|
| <input type="checkbox"/> Andalusia. | <input type="checkbox"/> Galícia. | <input type="checkbox"/> Maestrat. |
| <input type="checkbox"/> País Basc. | <input type="checkbox"/> Castella. | <input type="checkbox"/> Navarra. |

4 Al segle XIX es van establir a Espanya les bases de la industrialització moderna. Marca quins en van ser els focus principals.

- | | | |
|-------------------------------------|-------------------------------------|------------------------------------|
| <input type="checkbox"/> Andalusia. | <input type="checkbox"/> Galícia. | <input type="checkbox"/> Madrid. |
| <input type="checkbox"/> País Basc. | <input type="checkbox"/> Catalunya. | <input type="checkbox"/> Castella. |

5 Assenyala si són certes (C) o falses (F) aquestes afirmacions sobre la població espanyola a les darreries del segle XIX.

	C	F
Hi va haver molt poca emigració espanyola a altres països.		
Molts espanyols van emigrar a altres països.		
La majoria dels emigrants provenia de Galícia, les Canàries i les regions cantàbriques.		
La major part de l'emigració va anar a l'Amèrica del Nord.		
La major part dels emigrants va anar a l'Amèrica Llatina (Argentina i Cuba, principalment).		



5

FITXA 31
EL TEMPS

REFORÇ

NOM: _____ CURS: _____ DATA: _____

RESOL

1 Relaciona cada període amb les dates correctes que va durar:

- | | |
|------------------------------------|---------------|
| a) Guerra de la Independència. | 1) 1875-1885. |
| b) Regència de Maria Cristina. | 2) 1808-1814. |
| c) Regència del general Espartero. | 3) 1840-1844. |
| d) Regnat de Ferran VII. | 4) 1868-1874. |
| e) Regnat d'Alfons XII. | 5) 1833-1840. |
| f) Regnat d'Isabel II. | 6) 1814-1833. |
| g) Sexenni Democràtic. | 7) 1844-1868. |

2 Ordena cronològicament aquests esdeveniments.

	Número d'ordre
Entrada a Espanya dels Cent Mil Fills de Sant Lluís.	
Sortida d'Espanya de les tropes napoleòniques.	
Arribada a Espanya d'Amadeu I de Savoia.	
Expulsió d'Espanya d'Isabel II.	
Proclamació de la Constitució de 1837.	
Aixecament popular del 2 de maig de 1808.	
Mort de Ferran VII.	
Proclamació de la Primera República.	
Regència de Maria Cristina.	
Proclamació d'Alfons XII com a rei: inici de la Restauració.	
Constitució de Cadis.	
Cop d'estat del general Pavía.	
Regència del general Espartero.	
Proclamació d'Isabel II com a reina.	
Pronunciament liberal dirigit pel coronel Riego.	

3 Completa el quadre de les constitucions amb les paraules i les dates del quadre.

Censatari – universal – moderada – progressista – 1812 – 1845 – 1869 – 1876

Any	Tipus de sufragi	Característiques	Ideologia
	Universal	Separació de poders	Progressista
1837	Censatari	La Corona podia vetar lleis i dissoldre el Parlament.	Progressista
		Sobirania compartida entre les Corts i el rei.	
		La més avançada del segle XIX.	
	No s'especifica	Sobirania compartida entre les Corts i el rei.	

- Quina va ser la primera Constitució? Quina és la que es va aplicar durant més temps?
- Quants textos constitucionals es van promulgar al llarg del segle XIX a Espanya?



5

FITXA 32

CONCEPTES FONAMENTALS

REFORÇ

NOM: _____ CURS: _____ DATA: _____

RESOL

1 Completa el text següent amb les paraules del requadre.

Guerra de la Independència – 2 de maig de 1808 – Constitució de 1812 – Corts de Cadis

L'ocupació francesa d'algunes ciutats i les abdicacions de Baiona van provocar la sublevació popular del _____ a Madrid, que va ser l'inici de la _____, un conflicte llarg i dur que va acabar el 1814 i durant el qual els sublevats reunits en les _____, van elaborar la _____, la primera constitució espanyola.

2 Relaciona cada esdeveniment amb les conseqüències que va tenir.

- | | |
|--|--|
| a) Entrada dels Cent Mils Fills de Sant Lluís. | 1) Cessió del tron d'Espanya a Napoleó. |
| b) Abdicació de Baiona. | 2) El poder passa als progressistes. |
| c) Pronunciament de Vicálvaro. | 3) Torna a entrar en vigor la Constitució de 1812. |
| d) Revolució de 1868. | 4) Anul·lació de la Llei sàlica. |
| e) Cop d'estat del general Pavía. | 5) Final de la Primera República. |
| f) Pronunciament de Riego. | 6) Tornada a l'absolutisme. |
| g) Pragmàtica Sanció. | 7) Isabel II es veu obligada a marxar d'Espanya. |

3 Situa aquests personatges amb el període històric que els correspon.

Serrano – Sagasta – Narváez – Prim – Amadeu I – O'Donnell – Cánovas

Regnat d'Isabel II	Sexenni Democràtic	Regnat d'Alfons XII

4 Marca amb una X la resposta correcta

- a) La constitució amb la que es va governar durant la Restauració va ser la de:
 1874. 1875. 1876. 1877.
- b) L'alternança en el govern de conservadors i liberals es coneix com:
 Caciquisme. Sistema de torns. Topinada.
- c) La manipulació dels resultats electorals es coneixia com:
 Caciquisme. Sistema de torns. Topinada.
- d) El sistema polític de la Restauració deixava fora:
 Els liberals. Els conservadors. Els anarquistes.
- e) El 1879 Pablo Iglesias va fundar:
 La Confederació Nacional del Treball (CNT).
 La Unió General de Treballadors (UGT).
 El Partido Socialista Obrero Español (PSOE).

5

FITXA 38

LA INDUSTRIALITZACIÓ A CATALUNYA

REFORÇ

NOM: _____ CURS: _____ DATA: _____



Catalunya va protagonitzar en el segle XIX un procés d'industrialització pioner a l'Estat espanyol i equiparable al que visqueren altres zones europees avançades. Basada en les transformacions econòmiques del segle XVIII, la industrialització va comportar una transformació profunda de la societat catalana i la seva singularització dins el context peninsular.

RESOL

1 Llegeix atentament i respon.

L'economia catalana va participar d'una forma molt intensa en el procés de difusió de la industrialització a les regions més avançades d'Europa des del seu focus original a la Gran Bretanya. En bona part, aquest dinamisme industrial va ser conseqüència, però també, fins i tot, causa, de la integració econòmica creixent que es duia a terme a Espanya. El marc institucional i uniforme adequat al lliure moviment dels factors de producció, promogut pel nou Estat liberal, definia nítidament una economia de mercat.

De tota manera, al conjunt del territori espanyol els progressos van ser lents i l'expansió econòmica, modesta. Catalunya es va anar constituint en l'autèntica «fàbrica d'Espanya» i el seu ritme expansiu resultava graduat per la demanda interna de la resta d'Espanya. La posada en servei de la xarxa ferroviària bàsica, al quinquenni 1861-1865, va facilitar la intensificació dels intercanvis Espanya endins.

Al mateix temps, les colònies de Cuba i Puerto Rico van tenir un paper important en el sistema exterior català, en absorbir una part substancial de les exportacions agrícoles. Van proporcionar, a més, una ocasió excepcional per a la formació de capital, que era transferit cap a Catalunya i que va alimentar la modernització econòmica. Van facilitar, addicionalment, saldos actius amb tercers països que es van aplicar a les importacions estratègiques per al desenvolupament de la industrialització: Gran Bretanya (energia, màquines), França (màquines) i els Estats Units (cotó).

[...]

La indústria tèxtil cotonera i llanera van encapçalar la revolució industrial i van incorporar de ple el sistema de fàbrica i la producció mecanitzada. El resultat va ser una continuada reducció dels preus i una millora de les qualitats. D'aquesta manera, el tèxtil va desplaçar gairebé del tot la producció artesanal i, amb ajuda dels aranzels de duanes, la importació dels tèxtils estrangers al mercat espanyols.

JORDI MALUQUER DE MOTES,
Història econòmica de Catalunya, 1998

- Resumeix les idees principals del text.
- Quin va ser, segons el text, el focus original de la industrialització?
- Quina relació hi ha entre la construcció del nou Estat liberal i la industrialització catalana?
- Quin significat et sembla que té l'expressió «Catalunya, fàbrica d'Espanya»?
- En quin sentit eren importants Cuba i Puerto Rico per a l'economia catalana?
- Quins van ser els sectors pioners en la industrialització catalana?

6

FITXA 45
EL TEMPS

REFORÇ

NOM: _____ CURS: _____ DATA: _____

RESOL

- 1 Assenyala si són certes (C) o falses (F) aquestes afirmacions referides als antecedents de la Primera Guerra Mundial.**

	C	F
El príncep hereu de l'imperi austrohongarès va ser assassinat a Sarajevo (Sèrbia).		
Àustria va declarar la guerra a Sèrbia.		
Rússia va iniciar la mobilització contra Àustria i Alemanya.		
Alemanya va declarar la guerra a Rússia, i després a França.		
La Gran Bretanya va declarar la guerra a Sèrbia.		

- 2 Marca amb una X la resposta correcta.**

- a) La Primera Guerra Mundial es va desenvolupar entre els anys:
 1900 i 1914. 1914 i 1918. 1914 i 1916. 1914 i 1920.
- b) L'armistici de Compiègne, que va posar fi a les hostilitats, es va signar:
 el 1917. el 1918. el 1919. el 1920.
- c) La Pau de París, o conjunt de tractats signats pels països vençuts, es va signar entre els anys:
 1917 i 1918. 1918 i 1919. 1919 i 1920. 1920 i 1921.
- d) La Societat de les Nacions va néixer l'any:
 1917. 1918. 1919. 1920.

- 3 Ordena aquests esdeveniments relacionats amb el desenvolupament de la Primera Guerra Mundial.**

	Número d'ordre
Els aliats van ocupar les posicions otomanes a Palestina, Síria, Aràbia i Iraq.	
Els Estats Units van entrar a la guerra després de l'enfonsament del transatlàntic Lusitania.	
Els russos van ser derrotats a Tannenberg i als llacs Masurians.	
Els britànics van ser derrotats a Gal·lípoli.	
Els alemanys van envair França, però van ser aturats a la batalla del Marne.	
Es va signar el tractat de Brest-Livotsk, pel qual Rússia va abandonar la guerra.	
Els alemanys van intentar trencar els fronts a la batalla de Verdun.	
Els britànics van intentar trencar els fronts a la batalla del Somme.	
Alemanya va acceptar l'armistici de Compiègne.	

- 4 Completa aquestes frases amb les dates del requadre.**

1929 - 1923

La readaptació de les economies europees a la pau va ser llarga i difícil, especialment a Alemanya. A partir del _____ es va produir un creixement de la producció, un descens de l'atur i una millora del nivell de vida als països europeus. Però el crac de la borsa de Nova York el _____ va provocar una greu crisi econòmica a escala mundial.



6

FITXA 46

CONCEPTES FONAMENTALS

REFORÇ

NOM: _____ CURS: _____ DATA: _____

RESOL

1 Completa aquest text amb les paraules del requadre:

Qüestió d'Orient – Triple Aliança – Pau Armada – Primera Guerra Mundial – Triple Entesa

Entre el 1890 i el 1914 es van formar a Europa dos blocs militars enfrontats: Alemanya, Àustria i Itàlia van crear la _____, mentre que França, Rússia i la Gran Bretanya van constituir la _____. En aquest període, conegut com la _____ el temor mutu, els interessos colonials i les ambicions d'Àustria i Rússia als Balcans (l'anomenada _____) van provocar el conflicte entre els dos blocs, que va desembocar en la _____.

2 Indica si són certes (C) o falses (F) aquestes frases referides a la Primera Guerra Mundial.

	C	F
La Primera Guerra Mundial va ser un conflicte de dimensions desconegudes fins aleshores.		
La Primera Guerra Mundial va ser un conflicte breu i molt localitzat.		
La batalla del Marne va ser una victòria de les tropes alemanyes.		
La batalla del Somme va ser una victòria de les tropes franceses.		
Els Estats Units van entrar en la Primera Guerra Mundial l'any 1917.		
Rússia es va retirar de la Primera Guerra Mundial l'any 1918.		
Els Imperis centrals no van poder resistir l'ofensiva aliada del 1918.		
En primer lloc es va rendir Turquia, després Àustria i finalment Alemanya.		
Pel Tractat de Versalles Alemanya va perdre totes les colònies i també territoris a Europa.		
La Societat de les Nacions, que va néixer el 1920, és l'antecedent de l'ONU.		

3 Completa aquest text amb les paraules del requadre.

1929 – borsa – inversors – extremisme – octubre – Alemanya – Hitler – dipòsits – accions – partit nazi

Les primeres baixades de les _____ van provocar el pànic entre els _____, que van intentar vendre-les ràpidament. El 24 d' _____ de _____ van sortir a la venda més accions que les que el mercat podia comprar i el seu valor es va ensorrar. L'enfonsament de la _____ va arrossegar els bancs que hi havien invertit els _____ dels clients.

El crac de la borsa de Nova York va provocar una crisi econòmica greu a escala mundial. La insolidaritat internacional per solucionar la crisi va afavorir l' _____ polític. El cas més important va ser el d' _____, on va triomfar el _____ dirigit per _____.

4 Marca amb una X les afirmacions certes sobre l'època posterior a la Primera Guerra Mundial.

- Va aparèixer la societat de consum i nous espectacles, com el cinema i els esports de masses.
- A gairebé tots els països va empitjorar la situació de la dona.
- Els mitjans de comunicació i d'oci van començar a jugar un paper de primer ordre.
- Es va produir una gran avenç de la ciència i una expansió dels corrents artístics d'avantguarda, sobretot de l'expressionisme, el surrealisme i l'abstracció.

7

FITXA 52 EL CONTEXT ESPACIAL

REFORÇ

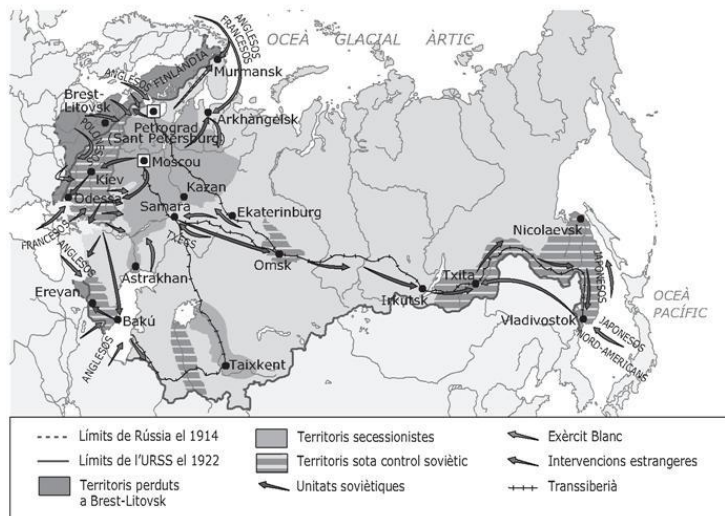
NOM: _____ CURS: _____ DATA: _____

RESOL

1 Analitza el mapa.

• Respon

- A quines zones havia triomfat la revolució bolxevic a principis del 1918? Anomena els principals núclis urbans dominats pels bolxevics.
- Quines regions van quedar fora del control bolxevic? Assenyal els nuclis més importants en mans dels contrarevolucionaris.



REFORÇ I AMPLIACIÓ

2 Observa el mapa i completa el quadre.



L'URSS en els seus orígens
L'URSS el 1924
L'URSS el 1929



FITXA 53
EL TEMPS

REFORÇ

NOM: _____ CURS: _____ DATA: _____

RESOL

1 Assenyalat si les afirmacions següents sobre la revolució russa son certes (C) o falses (F)

	C	F
La duresa de la repressió de les manifestacions contra l'entrada de Rússia el 1914 en la Primera Guerra Mundial, va augmentar el malestar social i va afavorir la unió de l'oposició al tsar.		
La Revolució de Febrer de 1917 va portar els bolxevics al poder.		
La Revolució de Febrer de 1917 va portar els menxevics al poder.		
La Revolució d'Octubre de 1917 va portar els bolxevics al poder.		
Tothom va acceptar el triomf de la Revolució d'Octubre de 1917.		
La Revolució d'Octubre de 1917 va originar el primer Estat socialista de la història.		

2 Ordena cronològicament els següents esdeveniments.

	Número d'ordre
Naixement de la Unió de Repúbliques Socialistes Soviètiques (URSS)	
Rússia entra a la Primera Guerra Mundial.	
Obrers, camperols i soldats formen soviets per tot el país.	
Manifestació del 23 de febrer de 1917 a Sant Petersburg.	
Mort de Lenin.	
Incorporació de Tadjikistan a l'URSS.	
Creació d'un govern provisional presidit per Kerensky.	
Establiment de la Nova Política Econòmica (NEP).	
Els bolxevics prenen el poder després de l'assalt al Palau d'Hivern.	
Incorporació de l'Uzbekistan i el Turkmenistan a l'URSS.	
Es firma el Tractat de Brest-Litovsk, pel qual Rússia surt de la guerra.	
Creació de la Tercera Internacional.	
Inici de la Guerra civil a Rússia.	
Lenin estableix l'anomenada dictadura del proletariat.	
L'Estat soviètic és reconegut per nombrosos països.	
Stalin és anomenat secretari general del Partit Comunista (PCUS).	

3 Ordena cronològicament els noms següents referits a la Revolució Russa.

	Número d'ordre
Stalin	
Lenin	
Kerensky	



8

FITXA 58

CONCEPTES FONAMENTALS

REFORÇ

NOM: _____ CURS: _____ DATA: _____

RESOL

- 1** Assenyala si són certes (C) o falses (F) aquestes afirmacions relatives a l'ascens del feixisme al poder als anys vint:

	C	F
Després de la Primera Guerra Mundial, Itàlia vivia una situació de forta crisi econòmica.		
Després de la Primera Guerra Mundial, Itàlia vivia una situació de bonança econòmica.		
Amb la crisi econòmica va augmentar la tensió social.		
Gran part de la població va començar a donar suport a partits extremistes.		
El <i>Fasci Italiani di Combattimento</i> va obtenir molts escons en les eleccions dels anys 1919 i 1921.		
Mussolini va organitzar la marxa sobre Roma per obtenir el poder.		

REFORÇ I AMPLIACIÓ

- 2** Relaciona cada personatge, partit o organisme amb el país corresponent.

- | | |
|---|------------------------|
| a) Adolf Hitler. | 1) La Itàlia feixista. |
| b) <i>Fasci Italiani di Combattimento</i> . | |
| c) La Gestapo. | |
| d) Benito Mussolini. | 2) L'Alemanya nazi. |
| e) Partit Nacionalsocialista. | |

- 3** Marca les característiques comunes del feixisme i el nacionalsocialisme.

- Intentar respondre, des de l'exaltació nacionalsocialista, a la frustració que va suposar la Primera Guerra Mundial.
- La base era una ideologia alhora antidemocràtica i anticomunista.
- L'Estat estava dirigit de forma totalitària per un líder totpoderós. Només hi havia un partit, de manera que no hi havia eleccions lliures.
- Desenvolupament del culte a la força i al militarisme.
- L'Estat intervenia també en l'economia, per tal d'aconseguir l'autarquia del país.
- L'Estat dominava la societat. Tota oposició era durament reprimida i es controlava l'educació i els mitjans d'informació.
- Desenvolupament d'una política d'expansió territorial molt agressiva.
- Antisemitisme.

- 4** Completa el text amb aquestes paraules:

jueus – raça ària – política antisemita – solució final – gitanos – camps de concentració

Per a Hitler, els alemanys pertanyien a la _____, que considerava la raça superior i que, per aquest motiu, s'havia d'imposar als «pobles inferiors», com ara els llatins, els eslaus, els _____ i, sobretot, els _____.

La mescla de races explicava la decadència en què havia caigut Alemanya. Per això calia tornar la puresa racial a la població i va implantar una _____ cada cop més dura. L'any 1942 va decidir aplicar l'anomenada _____. Tots els jueus i gitanos d'Alemanya i dels països conquerits van ser deportats a _____, on molts van morir.



9

FITXA 61

EL CONTEXT ESPACIAL

REFORÇ

NOM: _____ CURS: _____ DATA: _____

RESOL

- 1** Digues si aquestes afirmacions sobre la política expansiva alemanya en els anys trenta del segle XX són certes (C) o falses (F).

	C	F
Alemanya va envair Àustria.		
Alemanya va envair Dinamarca i Suècia.		
Alemanya va envair Noruega i Suècia.		
Alemanya va envair Dinamarca i Noruega.		
Alemanya va envair Txecoslovàquia.		
Alemanya va envair Bèlgica, però va respectar la neutralitat dels Països Baixos.		
Alemanya va envair Bèlgica i els Països Baixos.		
Alemanya va envair Polònia.		
Alemanya va envair França.		

- 2** Situa els països que van intervenir en la Segona Guerra Mundial en el lloc que els correspongui.

Alemanya – Regne Unit – França – Itàlia – Japó – Estats Units

Països aliats	Potències de l'Eix

- 3** Relaciona els noms d'aquestes batalles amb els llocs on es van produir.

- | | |
|-------------------|---------------------|
| a) El-Alamein. | 1) URSS. |
| b) Midway. | 2) França. |
| c) Stalingrad. | 3) Hawaii. |
| d) Normandia. | 4) Pacífic. |
| e) Pearl Harbour. | 5) Nord de l'Àfrica |

- 4** Completa les oracions amb els llocs del requadre.

Estats Units – Xina – Alemanya – França – Postdam – URSS – Berlín – San Francisco – Regne Unit

- En la conferència de _____ es va dividir _____ en quatre zones, administrades cadascuna pels Estats Units, _____, el Regne Unit i l'URSS, respectivament. La ciutat de _____ també es va dividir en quatre parts.
- A la Conferència de _____, celebrada el juny de 1945, es va redactar la Carta fundacional de l'Organització de les Nacions Unides, en la que es recullen els quatre objectius de l'organització: la defensa dels drets humans, el manteniment de la pau, la lliure determinació dels pobles i la cooperació entre pobles. Les decisions més importants les pren el Consell de Seguretat, en què cinc països (_____, _____, _____, _____ i França) tenen dret a veto.



9

FITXA 62
EL TEMPS

REFORÇ

NOM: _____ CURS: _____ DATA: _____

RESOL

1 Ordena cronològicament els esdeveniments següents.

	Número d'ordre
El Japó va envair Manxúria.	
Alemanya abandona la Societat de Nacions.	
Alemanya envaeix Àustria.	
Hitler és escollit canceller alemany.	
Alemanya envaeix Polònia.	
Neix l'Eix Roma-Berlín.	
Itàlia envaeix Etiòpia.	
El Regne Unit signa un pacte d'assistència amb Polònia.	
Alemanya envaeix Txecoslovàquia.	

REFORÇ I AMPLIACIÓ

2 Assenyalta si són certes (C) o falses (F) aquestes afirmacions.

	C	F
L'any 1939 Alemanya envaeix Polònia i comença la Segona Guerra Mundial.		
L'any 1939 Rússia envaeix Alemanya, fet que va originar la Segona Guerra Mundial.		
Després de la guerra civil espanyola, Espanya va participar en la Segona Guerra Mundial al costat de França i el Regne Unit.		
Després de la guerra civil espanyola, Espanya va participar en la Segona Guerra Mundial al costat d'Alemanya i Itàlia.		
Espanya es va mantenir neutral durant la Segona Guerra Mundial.		
En la primera fase de la guerra, és a dir, fins al final del 1941, Alemanya i els seus aliats (Itàlia i el Japó) van aconseguir unes victòries espectaculars.		
El 7 de desembre de 1941, després de l'atac aeri japonès a la base nord-americana de Pearl Harbour, els Estats Units i el Japó van entrar en la guerra.		
Des del 1942 les potències de l'Eix van aconseguir un seguit de victòries que van canviar el signe de la guerra fins a la derrota definitiva dels alemanys i els japonesos.		

3 Relaciona cada esdeveniment amb l'any en què es va produir (alguns fets repeteixen anys).

- | | |
|--|----------|
| a) Invasió alemanya de Polònia. | 1) 1941. |
| b) Llançament de la bomba atòmica sobre el Japó. | 2) 1943. |
| c) Derrota alemanya a la batalla de Stalingrad. | 3) 1939. |
| d) Desembarcament dels aliats a Normandia. | 4) 1940. |
| e) Invasió alemanya de Dinamarca i Noruega. | 5) 1944. |
| f) Atac japonès sobre Pearl Harbour. | 6) 1945. |
| g) Ofensiva alemanya sobre Stalingrad i el Càucàs. | 7) 1942. |
| h) Batalla d'El-Alamein. | |
| i) Conferència de Potsdam. | |
| j) Conferència de Jalta. | |



9

FITXA 63

CONCEPTES FONAMENTALS

REFORÇ

NOM: _____ CURS: _____ DATA: _____

RESOL

1 Marca amb una X la resposta correcta.

- a) La Segona Guerra Mundial es va iniciar arran de:
- La invasió alemanya de Polònia. L'atac japonès a Pearl Harbour.
- La invasió alemanya de Rússia. La creació del règim de Vichy.
- b) L'entrada definitiva dels Estats Units en la Segona Guerra Mundial, al costat dels aliats, es va produir a causa de:
- La invasió alemanya de Polònia. L'atac japonès a Pearl Harbour.
- La invasió alemanya de Rússia. La creació del règim de Vichy.
- c) Després de la Segona Guerra Mundial es va produir:
- La desintegració de l'URSS. La divisió d'Alemanya.
- El final de l'OTAN. L'enfortiment de l'URSS.

2 Relaciona les dues columnes.

- | | |
|-------------------|--|
| a) Blitzkrieg. | 1) D'aquesta conferència va sorgir l'acord de dividir Alemanya en quatre zones controlades pels aliats. |
| | 2) En aquesta conferència es va redactar la Carta fundacional de l'Organització de les Nacions Unides (ONU). |
| b) San Francisco. | 3) Matança sistemàtica dels individus d'un grup ètnic, social, etc., per motius racials, polítics, religiosos o econòmics, per exemple el dels jueus durant el nazisme. |
| c) Guerra freda. | 4) En aquesta Conferència es va signar l'acord per constituir l'Organització de les Nacions Unides (ONU). |
| | 5) Sistema de relacions internacionals entre el 1947 i el 1991. Aquest sistema es va caracteritzar per l'enfrontament entre dues superpotències, els Estats Units i la Unió Soviètica, i la divisió del món en dos blocs, cada un dels quals estava liderat per una superpotència, amb sistemes econòmics, polítics i socials oposats. |
| d) Genocidi. | 6) Estratègia militar consistent a concentrar els tancs i els avions en un punt de la línia adversària per desarticular-la completament i explotar l'èxit amb gran velocitat. |
| e) Potsdam. | |

3 Assenyala si aquestes afirmacions són certes (C) o falses (F).

	C	F
La Segona Guerra Mundial ha estat el conflicte més greu de tota la història de la humanitat.		
Hi van morir més de 60 milions de persones.		
La guerra va ser especialment cruenta a l'est d'Europa.		
L'hegemonia política mundial va passar a mans de l'URSS i els Estats Units.		
Els països vencedors van decidir crear l'Organització de les Nacions Unides.		
Les relacions entre els Estats Units i l'URSS es van tensar, fet que va originar la «guerra freda».		
L'Europa de l'est va sortir enfortida de la guerra.		
La capital alemanya va quedar dividida en quatre zones d'ocupació.		

10

FITXA 69

EL CONTEXT ESPACIAL

REFORÇ

NOM: _____ CURS: _____ DATA: _____

RESOL

1 L'any 1898 Espanya va perdre els últims territoris del seu antic imperi. Marca quins van ser aquests territoris.

- Mèxic. Cuba. Filipines.
 Puerto Rico. Veneçuela. Argentina.

2 Marca amb una X la resposta correcta:

- a) La insurrecció popular de Barcelona el 1909 per l'enviament de tropes al Marroc es coneix com:
- La crisi de 1909. La Setmana Tràgica. La crisi catalana.
- b) Una de les causes de la dictadura de Primo de Rivera va ser:
- La Setmana Tràgica. La derrota d'Annual. La crisi de 1909.

3 Digues si aquestes afirmacions sobre Segona República són certes (C) o falses (F)..

	C	F
En les eleccions municipals de 1931 els republicans van perdre en les grans capitals.		
En la constitució de 1931 es reconeixia la possibilitat de crear regions autònomes.		
El 1932 es va concedir l'autonomia al País Basc.		
A Casas Viejas (Cadis) es va produir un aixecament camperol contra la reforma agrària.		
La revolució d'octubre de 1934 va triomfar a Astúries.		

4 Fes les activitats.

- Pinta els dos bàndols en cada un dels mapes.
- Analitza aquests mapes sobre l'evolució dels fronts en la Guerra Civil.



- LA GUERRA CIVIL ESPANYOLA
- Territori ocupat per l'exèrcit de Franco
 Territori ocupat per l'exèrcit republicà
- 1 La Guerra Civil el mes de juliol del 1936
 - 2 Els fronts el mes de març del 1937
 - 3 Els fronts el mes de juliol del 1939

10

FITXA 70
EL TEMPS

REFORÇ

NOM: _____ CURS: _____ DATA: _____

RESOL

1 Relaciona cada període amb les dates corresponents.

- | | |
|----------------------------------|---------------|
| a) Segona República. | 1) 1902-1931. |
| b) Dictadura de Primo de Rivera. | 2) 1936-1939. |
| c) Guerra Civil. | 3) 1923-1930. |
| d) Regnat d'Alfons XIII. | 4) 1931-1936. |

2 Respon les preguntes d'acord amb els períodes de l'activitat anterior.

Encercla la resposta correcta.

a) Quants anys va durar el regnat d'Alfons XIII?	9	19	29	39
b) Quants anys va durar la dictadura de Primo de Rivera?	5	6	7	8
c) Quants anys va durar la Segona República	3	4	5	6
d) Quants anys va durar la Guerra Civil	1	2	3	4

3 Ordena aquests esdeveniments de la monarquia d'Alfons XIII.

	Número d'ordre
Setmana Tràgica.	
Derrota d'Annual.	
Govern de Berenguer.	
Cop d'estat de Primo de Rivera.	
Vaga general de 1917.	

4 Situa aquests esdeveniments en el període corresponent de la Segona República.

Reforma agrària – Assesinat de Calvo Sotelo – Revolució d'octubre – Autonomia de Catalunya
Reforma educativa – Aixecament a Casas Viejas – Proclamació de la República catalana

Bienni Reformista	Bienni Conservador	Front Popular

5 Completa les oracions sobre la Guerra Civil amb les paraules i les dates del requadre.

Març – 1936 – 18 de juliol – 1937 – octubre – 1939

- Les tropes espanyoles del nord d'Àfrica es van sublevar el 17 de juliol de _____.
- La sublevació es va traslladar a la península el _____.
- El 26 d'abril de _____ hi va haver el bombardeig de Guernica .
- Entre abril i _____ de 1937 les tropes de Franco van conquerir el front del nord.
- El gener de _____ les tropes franquistes van entrar a Barcelona.
- Fins _____ de 1939 les tropes de Franco no van entrar a Madrid.

10

FITXA 71

CONCEPTES FONAMENTALS

REFORÇ

NOM: _____ CURS: _____ DATA: _____

RESOL

1 Completa aquest text amb les paraules del requadre.

Joaquín Costa – Desastre del 98 – Regeneracionisme

La pèrdua de les últimes colònies (Cuba, Filipines i Puerto Rico), fet conegut com el _____, va provocar el pessimisme dels intel·lectuals espanyols. Com a conseqüència, va sorgir el _____, que va tenir com a màxim representant _____, que proposava efectuar reformes per superar l'endarreriment del país.

2 Assenyalta si són certes (C) o falses (F) aquestes afirmacions sobre el regnat d'Alfons XIII.

	C	F
Va continuar vigent la Constitució de 1876 i es va mantenir el sistema de torns.		
Els nous líders del partit conservador i del partit liberal van fomentar el caciquisme.		
Els nacionalistes, els republicans, el PSOE i els sindicats van guanyar força.		
La del 1917 va ser la principal crisi de l'època.		
El cop d'estat de Primo de Rivera no va comptar amb el consentiment del rei.		

3 Marca amb una X la resposta correcta.

- a) La Constitució de 1931 era: Monàrquica. Republicana.
b) S'hi reconeixia el sufragi: Censatari. Universal sense distinció de sexes.

4 Relaciona cada nom amb la nota biogràfica corresponent.

- a) Sanjurjo. 1) Cap del Govern i president de la República.
b) Alcalá Zamora. 2) President de la República.
c) Azaña. 3) President de la Generalitat de Catalunya.
d) Gil-Robles. 4) Líder de la CEDA (agrupació de centredreta).
e) Companys. 5) Militar que va organitzar un cop d'estat contra la República.

5 Marca amb una X les afirmacions certes sobre la Guerra Civil.

- El cop militar del 18 de juliol de 1936 va tenir el suport d'una part de l'exèrcit i dels partits d'esquerres.
 El cop d'estat va dividir Espanya en dues zones: la zona dominada pels revoltats, o nacionals, i la zona dominada pels republicans.
 Milers de voluntaris estrangers van venir també a defensar la República: són les Brigades Internacionals.
 En acabar el conflicte, pocs espanyols van marxar a l'exili.

6 Relaciona cada personatge amb la generació corresponent.

- a) Generació del 98. 1) Ortega y Gasset.
b) Generació del 14. 2) Federico García Lorca.
c) Generació del 27. 3) Miguel de Unamuno.
4) Antonio Machado.
5) Rafael Alberti.



11

FITXA 83
EL TEMPS

REFORÇ

NOM: _____ CURS: _____ DATA: _____

RESOL

1 Assenyala si són certes (C) o falses (F) aquestes afirmacions sobre la guerra freda.

	C	F
El final de la Segona Guerra Mundial va portar una pau estable.		
Així que va acabar la guerra es va fer palès l'antagonisme entre Estats Units i l'URSS.		
Els períodes de màxim enfrontament van ser entre 1947 i 1956 i des de 1977 a 1991.		
Entre 1956 i 1977 hi va haver una etapa de distenció o coexistència pacífica.		

REFORÇ I AMPLIACIÓ

2 Ordena cronològicament aquests esdeveniments.

	Número d'ordre
Estats Units posa en marxa el Pla Marshall.	
El president dels Estats Units Truman dóna suport als monàrquics grecs per impedir que els comunistes arribin al poder.	
Winston Churchill denuncia que ha caigut sobre Europa «un teló d'acer».	
L'URSS crea el COMECON (Consell d'Ajuda Econòmica Mútua).	

3 Relaciona cada un d'aquests esdeveniments amb la data en què va tenir lloc.

- | | |
|---|----------|
| a) L'URSS fa esclatar la seva primera bomba atòmica. | 1) 1957. |
| b) Els Estats Units arriben a la lluna. | 2) 1949. |
| c) L'URSS posa en òrbita el primer satèl·lit artificial, l'Sputnik. | 3) 1969. |

4 Completa les oracions amb els llocs i els anys del requadre.

1948 – 1953 – Xina – Berlín – 1949

- La Unió Soviètica va bloquejar el _____ occidental l'any _____.
- Mao Zedong va guanyar la guerra civil de la _____ el _____.
- L'any _____ es va firmar la pau de la guerra de Corea i la península es va dividir en dos països.

5 Llegeix els esdeveniments dels requadres. Identifica'ls i data'ls.

- a) Guerra del Vietnam. b) Construcció del mur de Berlín. c) Crisi dels míssils de Cuba.

EE.UU. intenta impedir que l'URSS instal·li míssils nuclears.	Estats Units envia soldats al Vietnam per evitar que Vietnam del Nord, comunista, conquereixi el Vietnam del Sud.	Un mur de ciment i formigó es construeix en una nit per dividir la ciutat.

6 Ordena cronològicament aquests presidents dels Estats Units.

	Nixon	Kennedy	Truman	Johnson
Número d'ordre				

11

FITXA 84

CONCEPTES FONAMENTALS

REFORÇ

NOM: _____ CURS: _____ DATA: _____

RESOL

1 Completa el text següent amb les paraules del requadre.

Estats Units – distensió – bloc comunista – Guerra Freda – la Unió Soviètica – coexistència pacífica

Anomenem _____ el sistema de relacions internacionals que es va estendre entre el 1947 i el 1994. Aquest sistema es va caracteritzar per l'enfrontament entre dues superpotències, els Estats Units i la Unió Soviètica, i la divisió del món en dos blocs, cada un dels quals estava liderat per una superpotència, amb sistemes econòmics, polítics i socials oposats: el _____, liderat per _____, i el bloc occidental-capitalista, liderat pels _____.

La guerra freda va passar per tres etapes principals: un període de màxima tensió entre el 1947 i el 1956; una etapa anomenada de _____ o _____ entre 1956 i 1977; i un rebrot de la Guerra Freda des d'aleshores fins a la desintegració del bloc comunista.

2 Uneix les dues columnes.

- | | |
|--|------------------------|
| a) Conjunt de mesures econòmiques impulsades pels Estats Units per a la reconstrucció dels països europeus. | 1) OTAN. |
| b) Aliança militar de l'URSS i els seus països satèl·lits. | 2) Pla Marshall. |
| c) Règim implantat en els països europeus sota influència soviètica, en el qual el partit comunista controlava tot el poder. | 3) COMECON. |
| d) Aliança militar dels Estats Units i els seus aliats per formar un bloc de defensa enfront dels països comunistes. | 4) Pacte de Varsòvia. |
| e) El seu objectiu era coordinar l'economia dels països europeus que eren sota l'hegemonia soviètica. | 5) Democràcia popular. |

3 Marca amb una X la resposta correcta.

- a) Winston Churchill va denunciar l'any 1946 la formació d'un teló d'acer al continent europeu. Amb això feia referència a:
- La influència creixent de la Xina sobre els països del centre d'Europa.
 - La influència creixent de l'URSS sobre els països del centre d'Europa.
 - La influència cada cop menor de l'URSS sobre els països del centre d'Europa.
- b) Després de la guerra, Berlín havia quedat dividit en:
- Tres zones, administrades respectivament pels Estats Units, el Regne Unit i l'URSS.
 - Quatre zones, administrades respectivament pels Estats Units, França, el Regne Unit i l'URSS.
 - Cinc zones, administrades respectivament pels Estats Units, França, el Regne Unit, Espanya i l'URSS.
- c) La construcció del mur de Berlín va ser un dels principals símbols de:
- La reunificació alemanya.
 - La guerra freda.
 - La coexistència pacífica.



12

FITXA 89
EL TEMPS

REFORÇ

NOM: _____ CURS: _____ DATA: _____

RESOL

1 Assenyalta si aquestes afirmacions sobre la descolonització són certes (C) o falses (F).

	C	F
Quan va acabar la Segona Guerra Mundial subsistia la majoria dels Imperis que s'havien format al llarg del segle XIX.		
L'inici de la descolonització se sol situar l'any 1946, any en què Vietnam i Cambodja van obtenir la independència dels Estats Units i el Regne Unit, respectivament.		
L'Índia va assolir la independència el 1977 i va constituir el primer pas decisiu de la descolonització a l'Àsia.		
Gran part del territori asiàtic s'havia independitzat ja abans de 1950.		
Les últimes colònies que es van independitzar van ser Hong Kong, que es va independitzar del Regne Unit el 1997, i Macau, que va ser colònia de Portugal fins al 1999.		

REFORÇ I AMPLIACIÓ

2 Relaciona cada país i/o territori amb la data en què va assolir la independència.

- | | |
|-----------------|----------|
| a) Índia. | 1) 1946. |
| b) Algèria. | 2) 1971. |
| c) Filipines. | 3) 1999. |
| d) Macau. | 4) 1947. |
| e) Bangla Desh. | 5) 1962. |

3 Ordena cronològicament els esdeveniments següents.

	Número d'ordre
Macau deixa de ser colònia portuguesa.	
Algèria obté la independència.	
Naixement de Bangla Desh.	
Els Països Baixos abandonen Indonèsia.	
L'Índia obté la independència.	
Tunis obté la independència de França.	
Les Filipines s'independitzen dels Estats Units i Transjordània, del Regne Unit.	
Líbia proclama la independència d'Itàlia.	
Divisió de la península d'Indoxina en tres estats: Laos, Cambodja i Vietnam.	
Celebració de la conferència de Bandung.	
El Regne Unit torna Hong Kong a la Xina.	

4 Relaciona cada un d'aquests fets relatius al conflicte araboisraelià amb la data en què es va produir.

- | | |
|---|----------|
| a) Guerra dels Sis Dies. | 1) 1973. |
| b) Naixement de l'Organització per a l'Alliberament de Palestina (OAP). | 2) 1967. |
| c) Crisi del canal de Suez. | 3) 1948. |
| d) Primera guerra araboisraeliana. | 4) 1947. |
| e) Guerra del Yom Kippur. | 5) 1964. |
| f) Partició de Palestina per l'ONU. | 6) 1956. |

12

FITXA 90

CONCEPTES FONAMENTALS

REFORÇ

NOM: _____ CURS: _____ DATA: _____

RESOL

1 Relaciona cada concepte amb la seva definició.

- | | |
|--|--------------------|
| a) Moviment d'unió i de solidaritat entre els pobles africans. | 1) Sionisme. |
| b) Terme encunyat per l'economista francès Alfred Sauvy per designar els nous països sorgits després de la descolonització, juntament amb els països llatinoamericans, per semblança amb el Tercer Estat de la Revolució Francesa. | 2) Tercer Món. |
| c) Moviment religiós i cultural que promovia la solidaritat entre els països de llengua àrab i civilització musulmana, s'oposava al colonialisme i animava a fomentar tota mena de relacions entre els estats musulmans per intentar construir un nou bloc de països de projecció mundial. | 3) Intifada. |
| d) Tàctiques de guerrilla urbana contra l'exèrcit israelià en els territoris que havia ocupat. | 4) Panarabisme. |
| e) Moviment polític i ideològic que afirmava el dret dels jueus a retornar a Palestina, és a dir, reclamava la creació d'un estat jueu. | 5) Panafricanisme. |

2 Assenyala si les afirmacions següents són certes (C) o falses (F).

	C	F
La península d'Indoxina, Indonèsia i el nord i el nord-est de l'Àfrica van obtenir la independència d'una forma generalment pacífica.		
Els nous estats de l'Àfrica subsahariana va assolir la independència a través, generalment, de l'enfrontament armat.		
A Oceania la descolonització va ser pacífica.		

3 Col·loca cada personatge del requadre en el territori que li correspon.

Gandhi – Sukarno – Gaddafi – Arafat – Nehru – Jinnah – Ho Chi Minh – Suharto – Bourguiba

Nord o nord-est de l'Àfrica	Orient Mitjà	Península de l'Hindustan	Indoxina	Indonèsia

4 Digues en quins llocs o països hi ha actualment conflictes bèl·lics.

Àfrica	Orient Mitjà	Àsia	Altres indrets

5 Completa el text amb les paraules del requadre.

dictadures – desastres naturals – dependència exterior – creixement demogràfic
catàstrofes humanitàries

En la majoria de països descolonitzats es van establir _____, i l'economia va mantenir una forta _____. Això, unit al fort _____, ha provocat un empitjorament progressiu del nivell de vida dels habitants. A més, la successió de _____ (sequeres, inundacions, etc.) ha suposat veritables _____ en algunes regions.

□