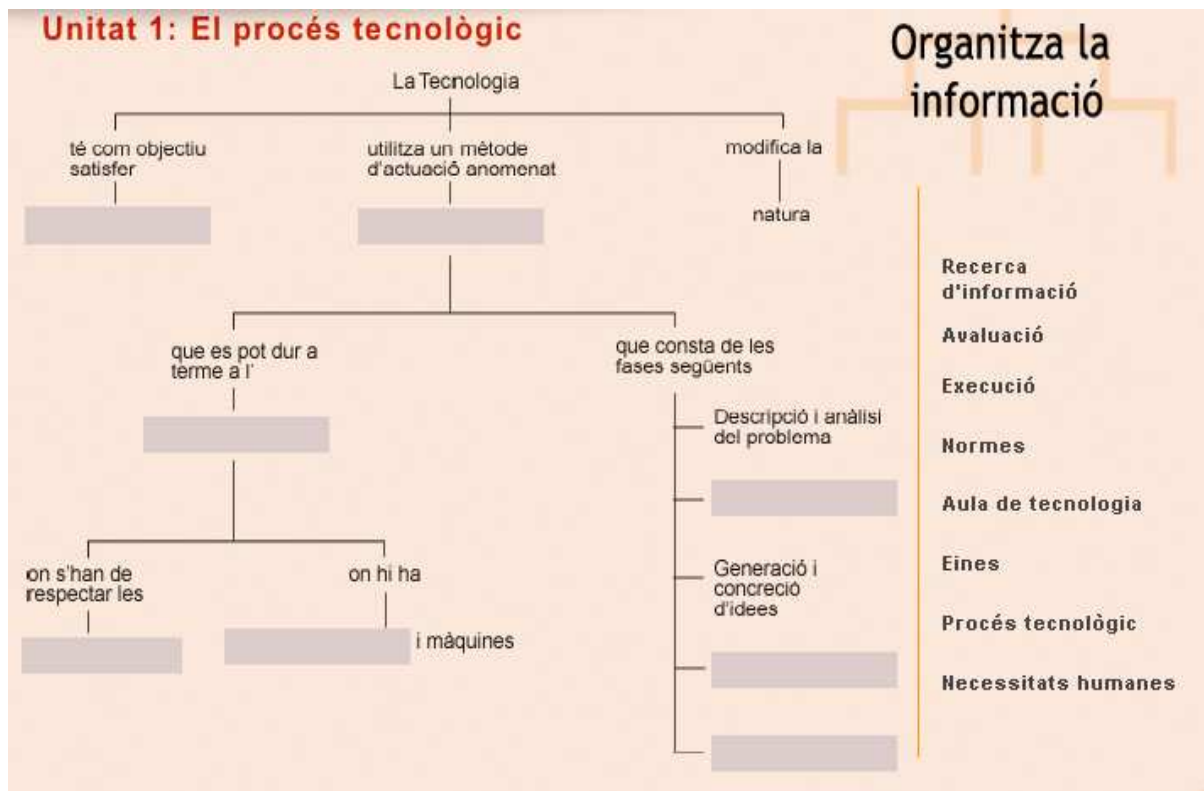


**ACTIVITATS PER RECUPERAR LA MATÈRIA DE
TECNOLOGIA DE 1r d'ESO.**

**Has d'imprimir aquest dossier per fer tots els exercicis proposats.
L'has de lliurar al teu professor de tecnologia en tornar de les
vacances de Nadal.**

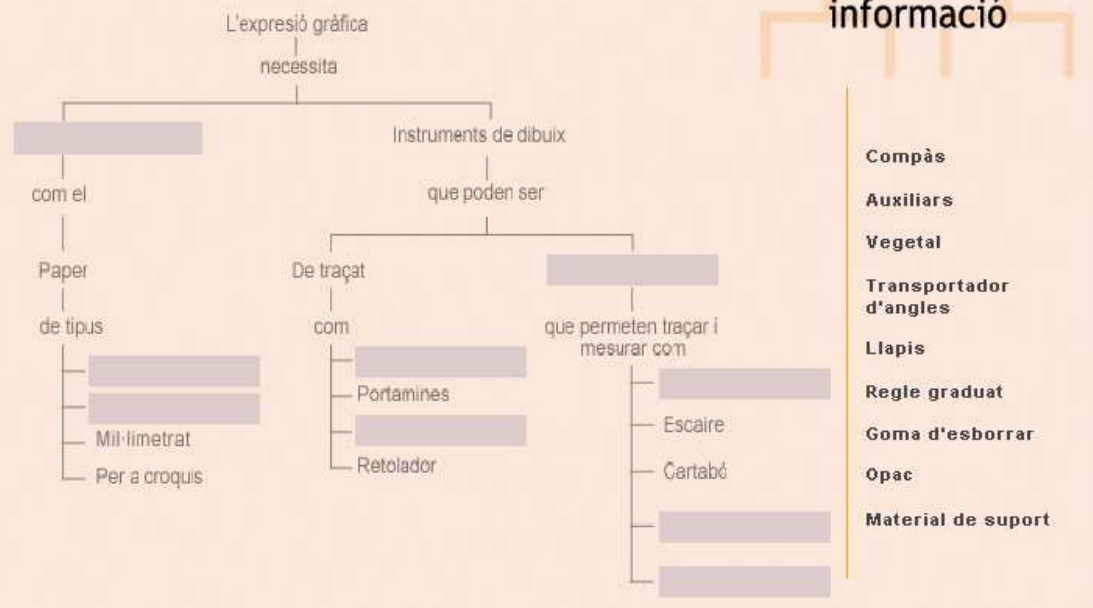


Relaciona les accions amb les fases del procés tecnològic corresponents.

<ul style="list-style-type: none"> ● Esmaltar ● Fer un esbós ● Fer-se preguntes sobre si la tècnica utilitzada és la correcta ● Fer la planxa lateral d'un objecte ● Concretar en un croquis el disseny i les mides ● Escriure les condicions inicials ● Fer la cerca d'informació sobre el disseny a Internet ● Comprovar si l'objecte que hem construït té les mides correctes ● Consultar un ceramista 	<ul style="list-style-type: none"> ● Descripció i anàlisi del problema ● Avaluació ● Execució ● Generació i selecció d'idees ● Cerca d'informació
--	--

Unitat 2: Materials i estris de dibuix

Organitza la informació



- Compàs
- Auxiliars
- Vegetal
- Transportador d'angles
- Llapis
- Regle graduat
- Goma d'esborrar
- Opac
- Material de suport

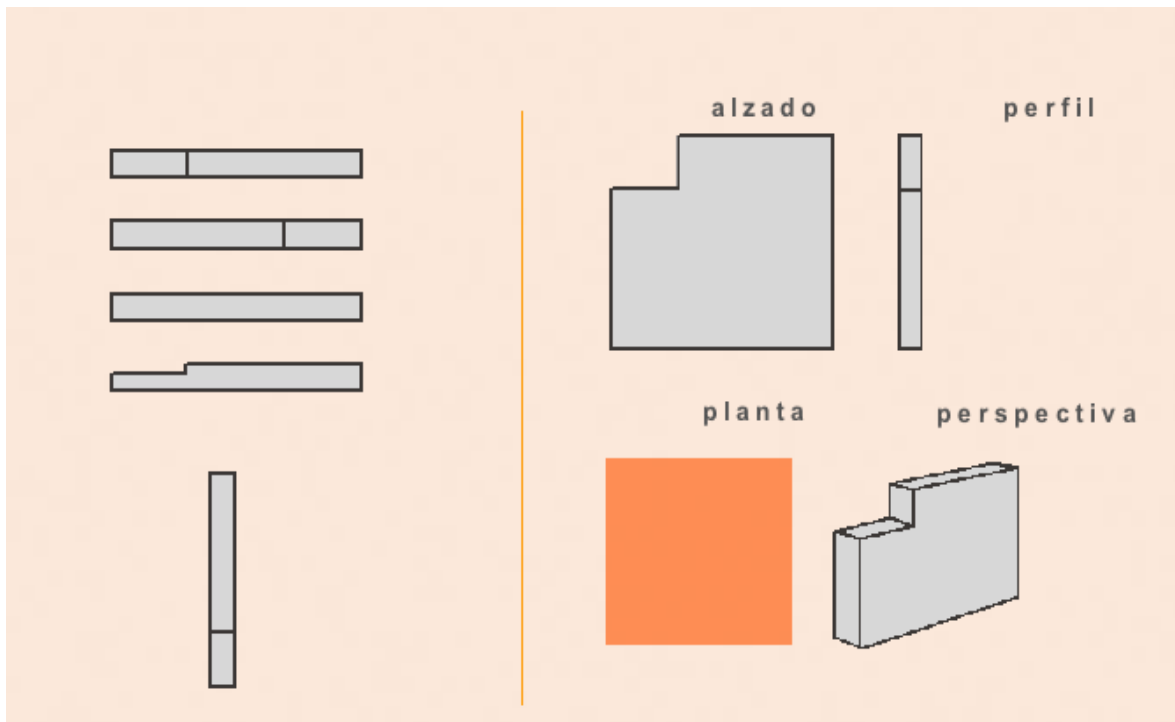
Busca el nom de **set eines** de dibuix tècnic

Sopa de lletres

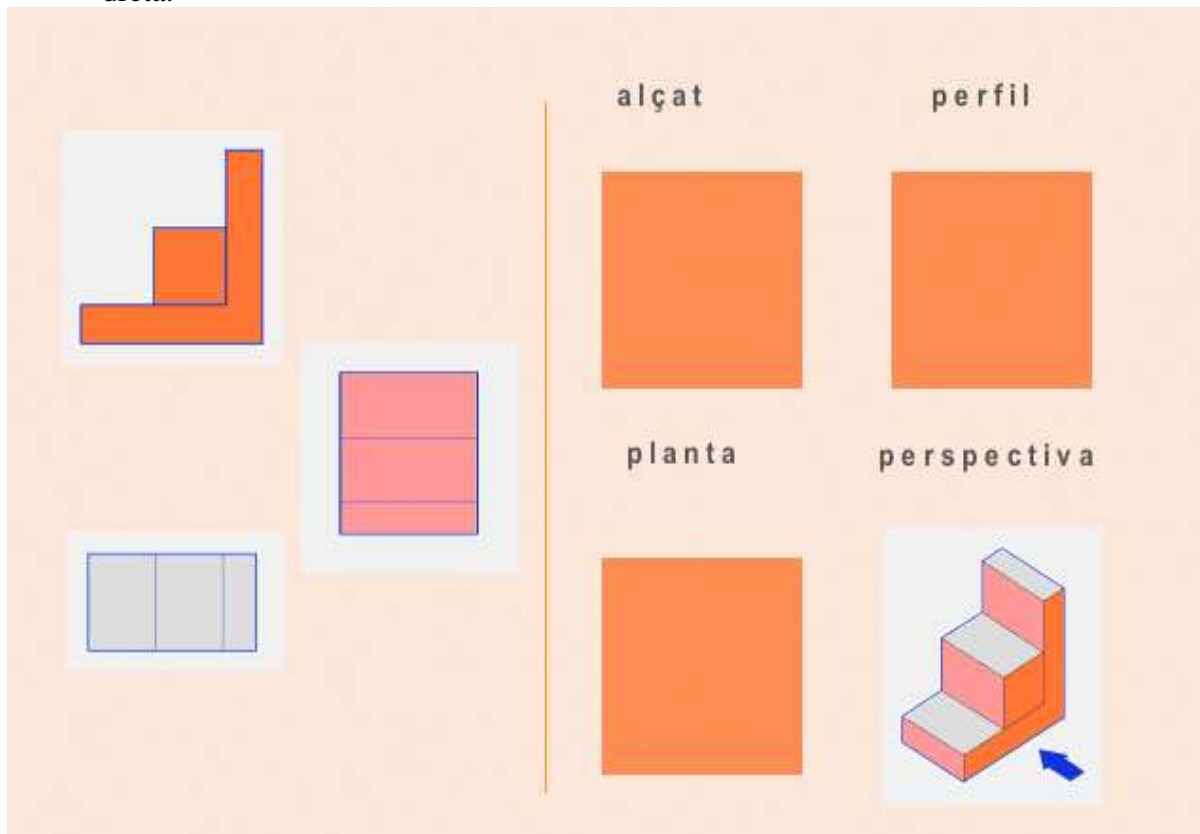
V	A	O	E	G	U	S	A	D	B	D	M
D	I	X	C	O	M	P	A	S	G	C	X
P	G	R	O	F	G	M	B	A	S	A	S
L	U	S	O	M	T	E	L	G	E	R	O
Q	S	G	G	D	A	S	S	G	A	T	X
I	I	O	M	A	A	A	A	L	U	A	O
B	P	M	X	M	G	L	X	U	S	B	X
F	A	A	U	E	X	D	O	D	E	O	O
Z	L	X	S	A	T	L	G	T	G	V	X
A	L	O	A	G	A	B	A	X	E	A	O
L	E	S	C	A	I	R	E	W	E	R	X
U	A	A	U	A	B	M	B	A	A	X	X

TEMA 3: LA REPRESENTACIÓ DELS OBJECTES

Quina de les figures de l'esquerra correspon a la vista que falta de la dreta?



Relaciona amb fletxes cada figura de l'esquerra amb la vista corresponent de la part dreta.



Unitat 4: Els materials i les seves propietats

Organitza la informació



Relaciona cada objecte amb la seva propietat.

Unitat 4: Els materials i les seves propietats

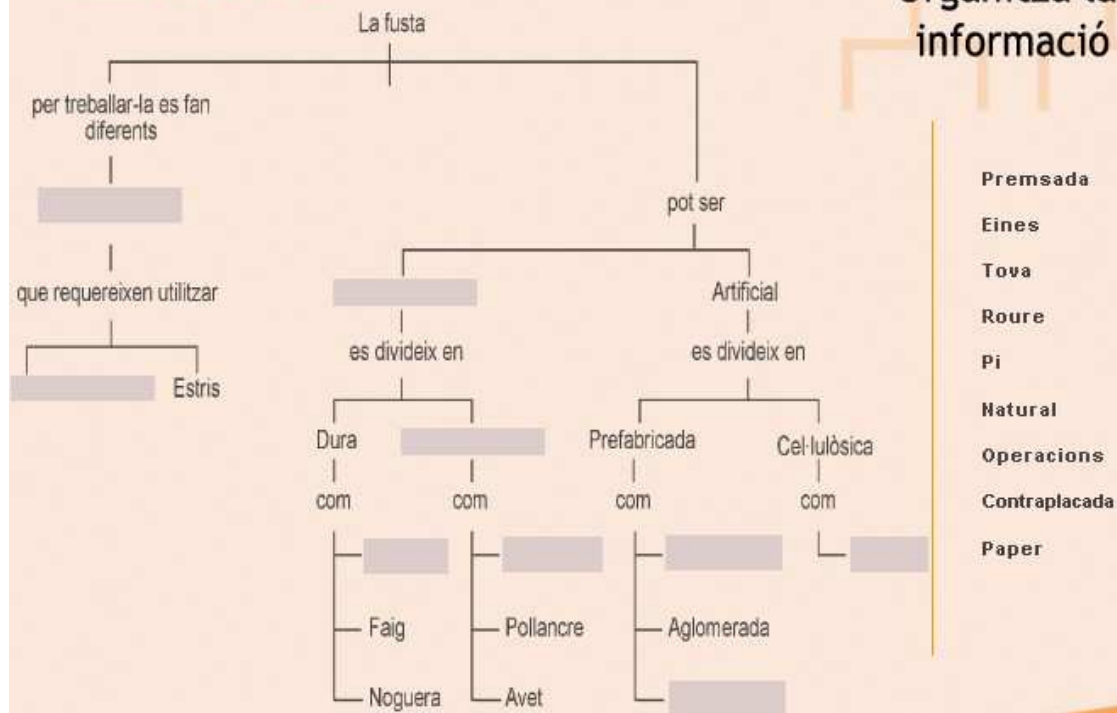
Relaciona

- Fang
- Tirador
- Campana
- Rotllo de fil de plàstic
- Paper d'alumini
- Cable elèctric
- Radiador elèctric
- Tisores de podar

- Mal·leabilitat
- Ductilitat
- Elasticitat
- Conductivitat tèrmica

- Conductivitat elèctrica
- Resistència a la corrosió
- Tenacitat
- Plasticitat

Unitat 5: La fusta



Relaciona cada eina amb la seva funció.

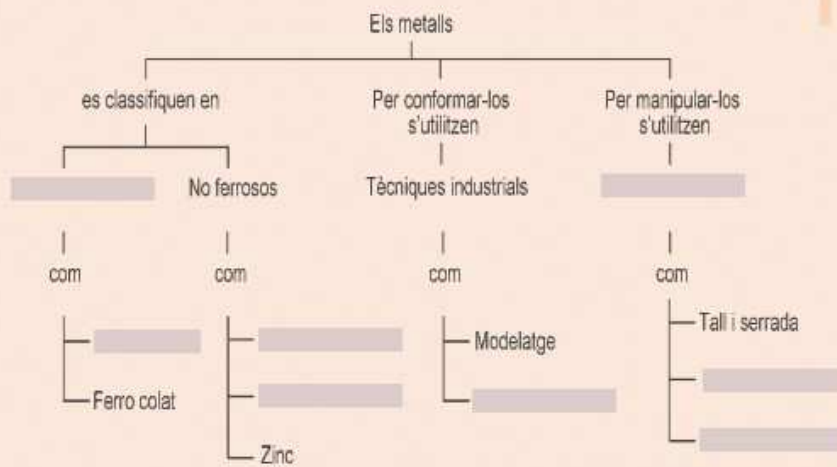
Unitat 5: La fusta

Relaciona

- Marcar
- Serrar / Tallar
- Rebaixar
- Polir

Unitat 6: Els metalls

Organitza la informació



- Trepat
- Alumini
- Acer
- Deformació
- Tècniques de mecanització
- Coure
- Ferrosos
- Llimada

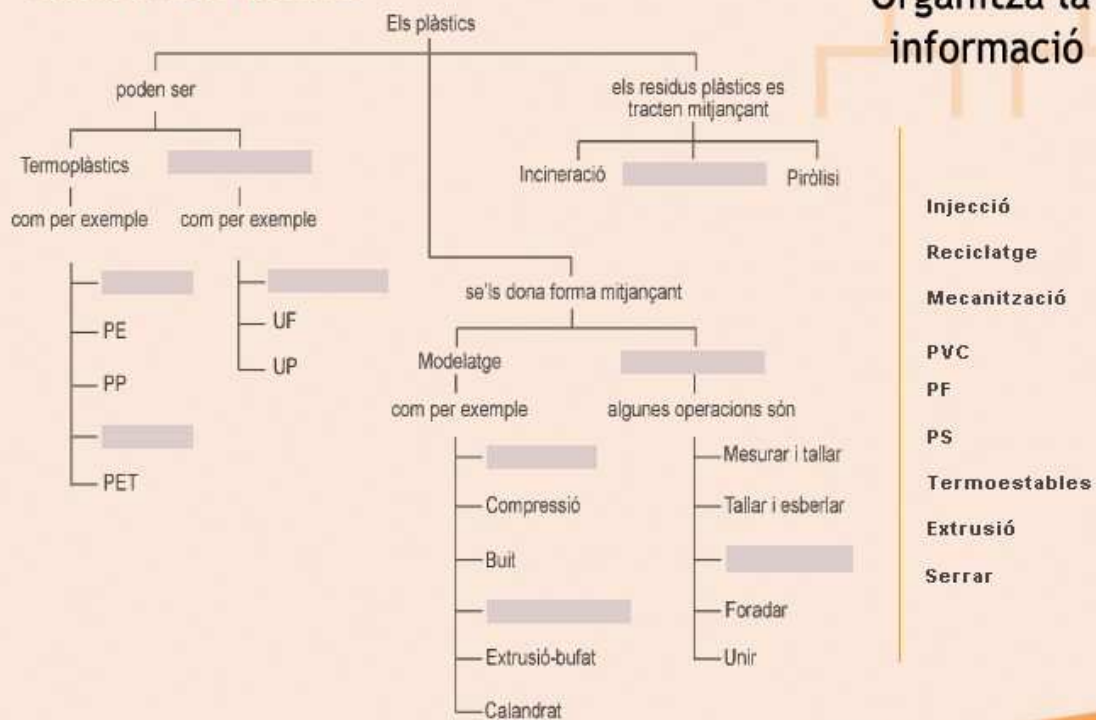
Busca el nom de **7 accions** que es puguin fer sobre una peça de metall.

Unitat 6: Els metalls

Sopa de lletres

Z	P	E	R	F	O	R	A	C	I	O	M
D	T	G	L	M	A	U	O	T	G	P	X
P	G	D	O	F	M	T	I	A	S	E	S
U	Q	S	R	M	E	N	C	L	G	R	O
A	N	U	G	E	S	A	C	G	A	C	X
S	M	I	M	C	U	A	E	L	U	U	O
T	S	A	O	M	R	G	J	U	S	S	X
I	G	J	U	R	A	D	B	D	E	S	O
C	L	X	S	A	T	L	U	M	G	I	X
A	M	O	A	G	A	B	S	X	D	O	R
L	E	G	X	L	F	R	I	C	C	I	O
T	A	L	L	Q	B	M	B	A	A	X	X

Unitat 7: Els plàstics



Relaciona els objectes de l'esquerra amb el tipus de plàstic amb que estan fets.

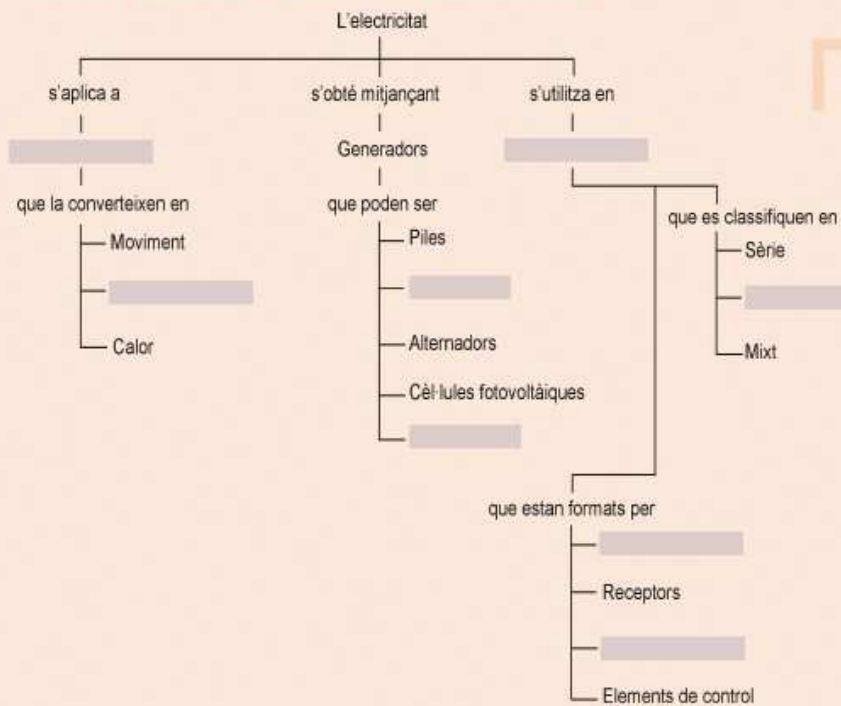
Unitat 7: Els plàstics

Relaciona

- Tub de desguàs
- Ampolla de beguda gasosa
- Piscina
- Interruptor elèctric
- Bossa de plàstic del supermercat
- Màneg d'una paella
- Ouera
- Galleda

- Polipropilè (PP)
- Policlòrur de vinil (PVC)
- Polietilè (PE)
- Polietilè tereftalat (PET)
- Urea formaldehid (UF)
- Fenoplast (PF)
- Resines de polièster (UP)
- Poliestirè (PS)

Unitat 8: Introducció a l'electricitat



Organitza la informació

Conductors

Llum

Dinamos

Centrals elèctriques

Paralel

Circuits

Receptors

Generadors

Relaciona cada component de l'esquerra amb el seu símbol.

Unitat 8: Introducció a l'electricitat

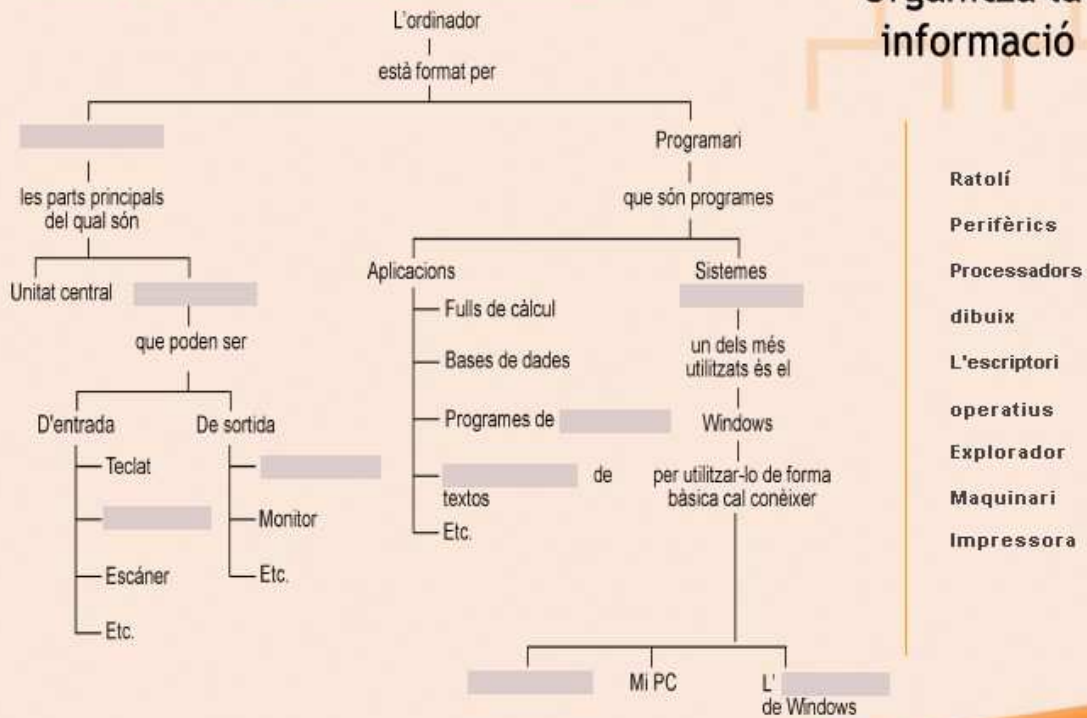
Relaciona

- Motor
- Fil o cable
- Pila
- Polsador
- Bombeta
- Interruptor
- Fusible
- Commutador
- Brunzidor



Unitat 9: Maneig bàsic de l'ordinador

Organitza la informació



Relaciona cada acció amb el seu símbol.

Unitat 9: Maneig bàsic de l'ordinador

Relaciona

- Cerrar
- Paperera de reciclatge
- Carpeta oberta
- Mi PC
- Inicio
- Restaurar
- Carpeta tancada
- Barra de desplaçament vertical
- Accés directe

