







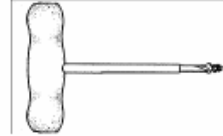

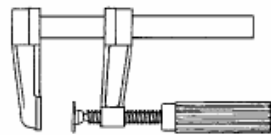


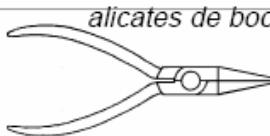
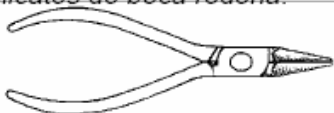














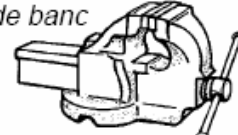
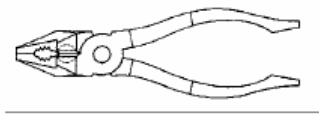



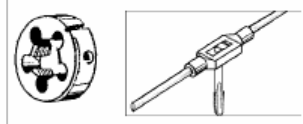










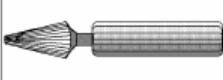

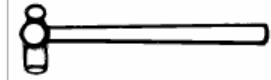


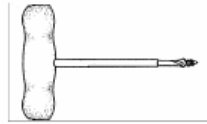



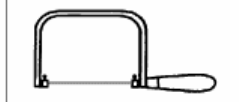
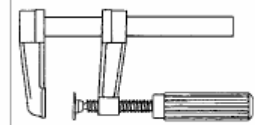

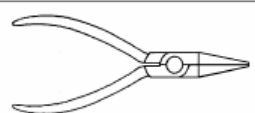




Observa bé el quadre següent on trobaràs les eines més importants de l'aula de Tecnologia. Tot seguit fes els exercicis proposats.

<p><i>raspa de mitja canya</i></p> 	<p><i>llima de mitja canya</i></p> 	<p><i>llima plana</i></p> 
<p><i>llima rodona</i></p> 	<p><i>llima triangular</i></p> 	<p><i>arc de serra per a metall</i></p> 
<p><i>arc de serra de marqueteria</i></p> 	<p><i>xerrac</i></p> 	<p><i>barrina</i></p> 
<p><i>aixamfradora manual</i></p> 	<p><i>serjant</i></p> 	<p><i>serjant de marqueteria</i></p> 
<p><i>alicates universals</i></p> 	<p><i>alicates de boca plana</i></p> 	<p><i>alicates de boca rodona</i></p> 
<p><i>alicates per a pelar fils</i></p> 	<p><i>tisores de tallar planxa</i></p> 	<p><i>martell de boca quadrada</i></p> 
<p><i>martell de boca rodona i bola</i></p> 	<p><i>martell amb boques de niló</i></p> 	<p><i>martell amb boques de goma</i></p> 
<p><i>clau fixa amb dues boques</i></p> 	<p><i>clau de tub</i></p> 	<p><i>rebladora</i></p> 
<p><i>pistola per a cola termofusible</i></p> 	<p><i>mascle i filera de rosca</i></p> 	<p><i>tornavís de vora recta</i></p> 
<p><i>tornavís d'estrella</i></p> 	<p><i>tornavís per a electricista</i></p> 	<p><i>cargol de banc</i></p> 

1 Escriu el nom de les següents eines.

2 Sopa de lletres

En aquesta sopa de lletres hi ha el nom de 8 eines. Intenta localitzar-les. Poden estar escrites en diagonal, a l'inrevés, de dalt a baix i de dreta a esquerra.




Has de trobar les següents eines:



4 Mots encreuats

Completa el joc dels mots encreuats. Tens que col·locar el nom de les 6 eines que surten als dos costats.



3 Quadern d'Activitats

Sopa de lletres

En aquesta sopa de lletres hi ha el nom de 8 eines. Intenta localitzar-les. Poden estar escrites en diagonal, a l'inrevés, de dalt a baix i de dreta a esquerra.



Has de trobar les següents eines:

- Tornavis
- Serra
- Maça
- Regle
- Martell
- Alicates
- Lima
- Raspa