



- A la meva classe tenim 2 desenes de llapis. La Marta té 5 colors vermells i el Tomàs en té 11. Quants colors vermells té el Tomás més que la Marta?


REPRESENTACIÓ VISUAL



OPERACIÓ



DADES



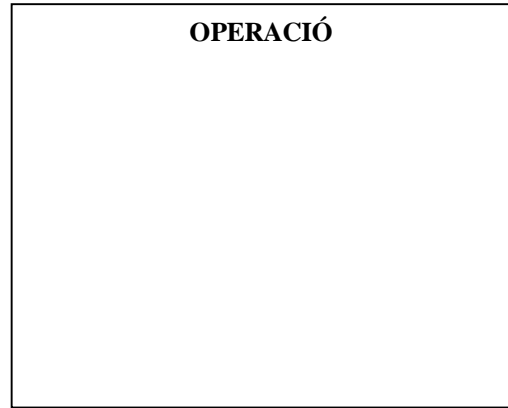
RESPOSTA

- La setmana passada em van comprar un estoig que va costar 30 euros. Aquest estoig tenia 12 colors i jo ja n'he utilitzat 5. Quants colors tinc encara per utilitzar?


REPRESENTACIÓ VISUAL



OPERACIÓ



DADES



RESPOSTA
