


- Tinc 25 globus i el meu pare me'n regala 20 més. La meva veïna té 5 globus. Quants globus tinc jo ara?


REPRESENTACIÓ VISUAL



OPERACIÓ




DADES



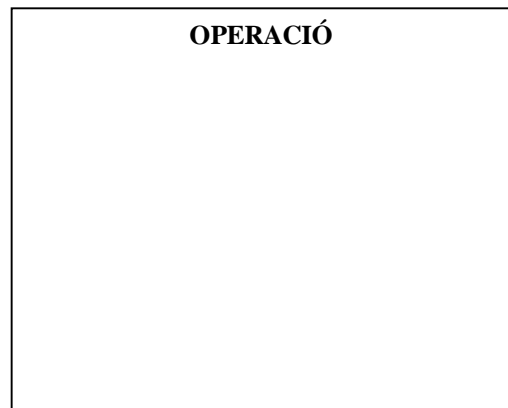
RESPOSTA

- La Laia té 5 caramels i se'n troba 20 més pel carrer. La Sara se'n troba 6. Quants caramels té ara la Laia?


REPRESENTACIÓ VISUAL



OPERACIÓ



DADES



RESPOSTA
